


کیهان زادگاه الفبای هنستی

فصل اول



این فصل رو به ۱۰ تا درس تقسیم کردیم. تو همون درس اول راجع به «اسرار آفرینش» و «به وجود اومدن عناصرها» صحبت می‌کنیم، یعنی خودمونیشو بخوام بگم قراره یاد بگیریم که همه‌ی این دنیا، یعنی هر چی که توش می‌بینیم (حتی خودمون!) چه‌طوری به وجود اومدیم. تو ادامه‌ی فصل اطلاعاتمون راجع به عناصرها، ویژگی‌ها و طبقه‌بندی‌شون بیشتر می‌شه.

همین‌جا اینوبگم که حواستون باشه تو درس شیشم به مبحثی داریم به اسم «کسر تبدیل» که به روشی برای حل مسئله‌هاست؛ وقتی رسیدیم اون‌جا حواستون رو جمع کنید چون از این به بعد هر چی مسئله قراره تو شیمی بخونیم (حتی سالای بالاتر) فقط و فقط باید از این روش حلشون کنیم! یکی دیگه از قسمتای مهم این فصل «آرایش الکترونی اتم‌ها» و اتفاقاتیه که بین اتم‌ها می‌افته. شاید قبلن به چیزایی از آرایش الکترونی دیده باشید ولی این‌جا قراره کاملش رو یاد بگیریم. تو قسمت اتفاقای بین اتم‌ها هم دوتا مبحث پیوند یونی و پیوند کوالانسی رو بررسی می‌کنیم. این‌جاها هم حواستون رو خوب جمع کنید، چون جزء مباحث پایه‌ای محسوب می‌شن که همیشه باید بلدشون باشیم.

۱) (صفحه‌های ۵ تا ۸ کتاب درسی)

ستارگان، توسط نوری که می تابانند، با ما حرف می زنند. حرف‌هایی مانند این که «جهان هستی چگونه به وجود آمده است.» و «ذره‌های سازنده‌ی جهان هستی طی چه فرایندی و چگونه ایجاد شده‌اند.»

دو کاوشگر وویجر ۱ و ۲ برای عبور از کنار سیاره‌های مشتری، زحل، اورانوس و نپتون و تهیه و ارسال شناسنامه‌ی فیزیکی و شیمیایی آن‌ها به سامانه‌ی خورشیدی فرستاده شدند؛ شناسنامه‌ای که دارای اطلاعاتی مانند:

۱) نوع عنصرهای سازنده، ۲) ترکیب‌های شیمیایی موجود در اتمسفر آن‌ها و ۳) ترکیب درصد این مواد است.

عصرها چگونه پدید آمدند؟


با بررسی نوع و مقدار عنصرهای سازنده‌ی برخی سیاره‌های سامانه‌ی خورشیدی و مقایسه‌ی آن با عنصرهای سازنده‌ی خورشید می‌توانیم درک بهتری از چگونگی تشکیل عنصرها به دست بیاوریم.

در شکل روبه‌رو فراوان‌ترین عنصرهای دو سیاره‌ی مشتری و زمین را می‌بینیم.

● در زمین عناصر فلزی آهن (Fe)، منیزیم (Mg)، نیکل (Ni)، کلسیم (Ca) و آلومینیم (Al) و ... وجود دارند ولی سیاره‌ی مشتری عنصر فلزی ندارد.

● دو عنصر اکسیژن (O) و گوگرد (S) در بین فراوان‌ترین عناصر این دو سیاره مشترک‌اند.

● بیشتر عناصر سازنده‌ی سیاره‌ی مشتری حالت‌گازی دارند ولی اکثر عناصر تشکیل‌دهنده‌ی کروی زمین در حالت جامد هستند و در سنگ‌ها وجود دارند.



دیدیم که در دو سیاره‌ی زمین و مشتری نوع و میزان فراوانی عنصرها متفاوت است؛ در حالی که عنصرهای مشترکی هم دارند. پس می‌فهمیم که عنصرها به صورت **ناهمگون** در جهان هستی توزیع شده‌اند.

برخی از دانشمندان معتقدند که جهان با انفجاری مهیب به نام **مهبانگ** (همون **Big Bang**)، آغاز شده و طی آن انرژی بسیار زیادی آزاد شده است. در آن شرایط بعد از به وجود آمدن ذرات زیراتمی مانند الکترون، پروتون و نوترون، عنصرهای هیدروژن و هلیوم ایجاد شدند.

با گذشت زمان و کاهش دما، گازهای هیدروژن و هلیوم تولیدشده، متراکم شد و مجموعه‌های گازی به نام **سحابی** ایجاد کرد که سبب تولید ستاره‌ها و کهکشان‌ها شد.

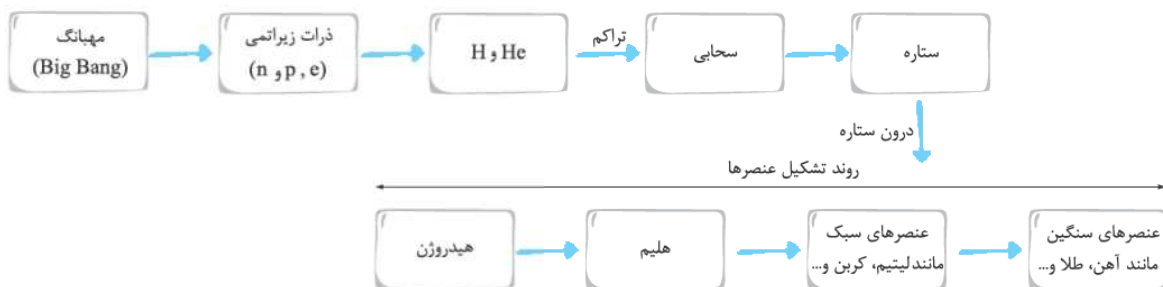
درون ستاره‌ها مثل خورشید، در **دماهای بسیار بالا** و ویژه، واکنش‌های هسته‌ای رخ می‌دهد؛ واکنش‌هایی که در آن‌ها از عنصرهای سبک‌تر، عنصرهای سنگین‌تر به‌وجود می‌آیند.

دما و **اندازه‌ی** یک ستاره تعیین می‌کند که چه عنصرهایی در آن ستاره ساخته شوند. هر چه دمای ستاره بیشتر باشد، شرایط تشکیل عنصرهای سنگین‌تر مثل طلا (${}_{79}\text{Au}$) و آهن (${}_{26}\text{Fe}$) فراهم می‌شود.

● ستارگان، کارخانه‌ی تولید عنصرها هستند.



سحابی عقاب، یکی از مکان‌های تولد ستاره‌ها



● ستاره‌ها متولد می‌شوند، رشد می‌کنند و زمانی می‌میرند. مرگ ستاره با یک انفجار بزرگ همراه است که سبب می‌شود عنصرهای تشکیل شده در آن، در فضا پراکنده شوند.

مثال و پاسخ

مثال: با توجه به هر یک از عبارات‌های زیر، واژه‌ی مناسب را از داخل پرانتز انتخاب کنید.

الف) اولین عنصری که پا به عرصه‌ی جهان گذاشت (هیدروژن / هلیوم) بود.

ب) عنصرهای سازنده‌ی سیاره‌ی (مشتری / زمین) بیشتر از جنس‌گاز هستند.

پ) بررسی عناصر موجود در دو سیاره‌ی مشتری و زمین نشان می‌دهد که عنصرها به صورت (همگون / ناهمگون) در جهان هستی توزیع شده است.

پ) ناهمگون

پ) مشتری

الف) هیدروژن

دیدیم که درون ستاره‌ها به دلیل انجام واکنش‌های هسته‌ای، انرژی بسیار زیادی آزاد می‌شود. در واکنش‌های هسته‌ای جرم به انرژی تبدیل می‌شود. اینشتین رابطه‌ی روبه‌رو را برای محاسبه‌ی انرژی تولیدشده در این واکنش‌ها ارائه کرد:

E : انرژی آزادشده، برحسب ژول (J)

m : جرمی که به انرژی تبدیل شده (تفاوت جرم آغازی و پایانی)، برحسب کیلوگرم (kg)

c : سرعت نور = 3×10^8 m/s

در این رابطه همه‌ی پارامترها برحسب واحدهای SI هستند! (انرژی (J)، جرم (kg) و سرعت (m/s))

بنابراین می‌توان نوشت: $1 \text{ J} = 1 \text{ kg} \times (\text{m/s})^2 = 1 \text{ kgm}^2 / \text{s}^2 = 1 \text{ kgm}^2 \cdot \text{s}^{-2}$

مثال و پاسخ

مثال: در واکنش هسته‌ای تبدیل هیدروژن به هلیوم، ۰/۰۰۲۴ گرم ماده به انرژی تبدیل می‌شود.

الف) در این واکنش هسته‌ای چند کیلوژول انرژی تولید می‌شود؟

ب) حساب کنید این مقدار انرژی چند تن آب را تبخیر خواهد کرد؟ (برای تبخیرشدن یک گرم آب، ۲۲۸۳ ژول انرژی لازم است.)

$$m = 0.0024 \text{ g} = 2/4 \times 10^{-3} \text{ g} \times \frac{1 \text{ kg}}{1000 \text{ g}} = 2/4 \times 10^{-6} \text{ kg}$$

$$c = 3 \times 10^8 \text{ m/s}$$

$$E = mc^2 = (2/4 \times 10^{-6}) \times (3 \times 10^8)^2 = 2/16 \times 10^{11} \text{ J} \times \frac{1 \text{ kJ}}{1000 \text{ J}} = 2/16 \times 10^8 \text{ kJ}$$

انرژی	گرم آب تبخیر شده	
۲۲۸۳ J	۱ g	
۲/۱۶ × ۱۰ ^{۱۱} J	x g	⇒ x = $\frac{2/16 \times 10^{11} \times 1}{2283} = 9/46 \times 10^7 \text{ g} \times \frac{1 \text{ kg}}{1000 \text{ g}} \times \frac{1 \text{ تن}}{1000 \text{ kg}} = 94/6$

$$\text{تن} = 94/6 = 2/16 \times 10^{11} \text{ J} \times \frac{1 \text{ g}}{2283 \text{ J}} \times \frac{1 \text{ kg}}{1000 \text{ g}} \times \frac{1 \text{ تن}}{1000 \text{ kg}}$$

روش دوم: روش کسر تبدیل^۱

با این مقدار انرژی می‌توان ۹۴/۶ تن!!! آب را تبخیر کرد.

۱- روش کسر تبدیل رو تو درس ششم بعش می‌رسیم! فقط همینو بگم که مسئله‌ها رو تا قبل از درس ششم با روش تناسب هم حل کردیم ولی یارتون باشه وقتی روش کسر تبدیل رو فوترین، همه‌ی مسئله‌ها رو با این روش حل کنیدا

بیشتر، ولی ما اصلن تو کتون نمی‌ره. په جوری می‌شه که جرم به انرژی تبدیل بشه آفه؟

- قبول داری که برای پراکندن ذرات هسته‌ای هلیوم، باید انرژی فیلی زیادی مصرف کنیم.

پس وقتی برعکس این انجام بشه، یعنی مثلن دو تا هسته‌ای هیدروژن بفوان به هسته‌ای هلیوم تبدیل بشن، انرژی فیلی زیادی آزاد می‌کنن. حالا این انرژی رو از کجا می‌یارن؟

از همین تفاوت جرم.

- باریکلا! طبق رابطه‌ی انیشتین مقداری از جرمشون کم می‌شه و به صورت انرژی آزاد می‌کنن.

حالا مثال رو دریاب!

مثال و پاسخ

مثال: در هر ثانیه در سطح خورشید ۷۰۰ میلیون تن هیدروژن به ۶۹۵ میلیون تن هلیوم تبدیل می‌شود.

الف: حساب کنید در هر ثانیه چند ژول انرژی در سطح خورشید آزاد می‌شود؟

ب: این مقدار انرژی چند کیلوگرم آب را تبخیر خواهد کرد؟ (برای تبخیر کردن یک گرم آب ۲۲۸۳ ژول انرژی لازم است.)

پ: اگر این انرژی فقط صرف تبخیر آب‌های کره‌ی زمین شود، چه مدت از انرژی سطح خورشید لازم است تا همه‌ی آب‌های کره‌ی زمین تبخیر شوند؟ (جرم کل آب‌های موجود در کره‌ی زمین، حدود $1/5 \times 10^{21}$ kg تخمین زده می‌شود.)

پاسخ:
الف: تغییر جرم در هر ثانیه از هم‌جوشی سطح خورشید ۵ میلیون تن است (۶۹۵ - ۷۰۰):
 $m = 5 \times 10^6 \text{ تن} \times \frac{1000 \text{ kg}}{1 \text{ تن}} = 5 \times 10^9 \text{ kg}$

$$c = 3 \times 10^8 \text{ m/s}$$

$$E = mc^2 = (5 \times 10^9) \times (3 \times 10^8)^2 = 45 \times 10^{25} \text{ J}$$

پ: روش اول:

انرژی	گرم آب تبخیر شده	
۲۲۸۳ J	۱ g	
$45 \times 10^{25} \text{ J}$	x g	$\Rightarrow x = \frac{45 \times 10^{25} \times 1}{2283} = 1/971 \times 10^{23} \text{ g} \times \frac{1 \text{ kg}}{1000 \text{ g}} = 1/971 \times 10^{20} \text{ kg}$

روش دوم: روش کسر تبدیل
 آب $1/971 \times 10^{20} \text{ kg}$ $\times \frac{1 \text{ kg آب}}{1000 \text{ g آب}} \times \frac{2283 \text{ J}}{1 \text{ g آب}} = 45 \times 10^{25} \text{ J}$ آب = ۴۵ × ۱۰^{۲۵} J

پ: با توجه به قسمت «ب»، در هر ۱ ثانیه این انرژی می‌تواند $1/971 \times 10^{20} \text{ kg}$ آب را تبخیر کند.

روش اول:

جرم آب تبخیر شده	زمان	
$1/971 \times 10^{20} \text{ kg}$	۱ s	
$1/5 \times 10^{21} \text{ kg}$	y s	$\Rightarrow y = \frac{1/5 \times 10^{21} \times 1}{1/971 \times 10^{20}} = 7/61 \text{ s}$

روش دوم: روش کسر تبدیل
 $7/61 \text{ s} = 1/5 \times 10^{21} \text{ kg آب} \times \frac{1 \text{ s}}{1/971 \times 10^{20} \text{ kg آب}}$

۷/۶۱ ثانیه از انرژی سطح خورشید می‌تواند تمام آب‌های موجود در کره‌ی زمین را تبخیر کند!!!

می‌دانیم که در واکنش‌های هسته‌ای، مقداری جرم از بین رفته و به انرژی تبدیل می‌شود؛ پس در واکنش‌های هسته‌ای، قانون بقای جرم برقرار نیست. تغییر جرم در واکنش‌های هسته‌ای را می‌توانیم از رابطه‌ی زیر به دست آوریم:

$$\Delta m = \text{مجموع جرم فرآورده‌ها} - \text{مجموع جرم واکنش دهنده‌ها} \Rightarrow \Delta m = \text{جرم پایانی} - \text{جرم آغازی}$$

این Δm ، همان جرمی است که به انرژی تبدیل می‌شود.

$$\Delta E = \Delta m c^2$$

پس انرژی تولیدشده را می‌توانیم از رابطه‌ی روبه‌رو، به دست بیاوریم:

مثال و پاسخ

مثال: طبق واکنش هسته‌ای زیر، از واکنش $^{243}_{96}\text{Cm}$ گرم کوریم - $^{243}_{96}\text{Cm}$ ، $^{239}_{94}\text{Pu}$ و ^4_2He گرم پولوتونیم $^{239}_{94}\text{Pu}$ و ^4_2He گرم ^4_2He تولید می‌شود. محاسبه کنید در این واکنش هسته‌ای چند کیلوژول انرژی آزاد می‌شود؟
پاسخ: اول تغییر جرم در این واکنش را محاسبه می‌کنیم.

مجموع جرم فرآورده‌ها - مجموع جرم واکنش‌دهنده‌ها = Δm

$$\Delta m = [243/0614] - [239/0522 + 4/0026] = 0/0066 \text{ g}$$

$$\Delta m = 0/0066 \text{ g} = 6/6 \times 10^{-3} \text{ g} \times \frac{1 \text{ kg}}{1000 \text{ g}} = 6/6 \times 10^{-6} \text{ kg}$$

بعد از طریق فرمول $\Delta E = \Delta m c^2$ انرژی آزاد شده را حساب می‌کنیم:

$$\Delta E = \Delta m c^2 = 6/6 \times 10^{-6} \times (3 \times 10^8)^2 = 5/94 \times 10^{11} \text{ J} \times \frac{1 \text{ kJ}}{1000 \text{ J}} = 5/94 \times 10^8 \text{ kJ}$$

در اثر این واکنش هسته‌ای $5/94 \times 10^8$ کیلوژول انرژی آزاد می‌شود!!!

سؤال‌های امتحانی

جملات زیر را با کلمات مناسب کامل کنید.

- ۱- فراوان‌ترین عنصر سیاره‌ی مشتری، بوده و فراوان‌ترین عنصر سیاره‌ی زمین، است.
 - ۲- سرآغاز کیهان با همراه بوده که طی آن انرژی عظیمی آزاد شده است.
 - ۳- در خلال انفجار عظیم، گازهای و تشکیل شده، متراکم شدند و مجموعه‌ی گازی به نام را ایجاد کردند.
- درستی یا نادرستی جملات زیر را تعیین کرده و شکل صحیح موارد نادرست را بنویسید.
- ۴- این‌که «جهان هستی چگونه به وجود آمده است را می‌توان از نور ستارگان فهمید».
 - ۵- مأموریت فضاپیماهای وویجر ۱ و ۲ عبور از کنار سیاره‌های مشتری، زحل، اورانوس و نپتون و تهیه و ارسال شناسنامه‌ی شیمیایی آن‌ها بود.
 - ۶- بیشتر عناصر سازنده‌ی سیاره‌ی مشتری در حالت گازی بوده و اکثر عناصر سازنده‌ی سیاره‌ی زمین در سنگ‌ها وجود دارند.
 - ۷- چهار عنصر فراوان زمین به ترتیب آهن، سیلیسیم، اکسیژن و منیزیم است.
 - ۸- هر چه جرم ستاره بیشتر باشد، شرایط تشکیل عنصرهای سنگین‌تر مانند طلا و اورانیم فراهم می‌شود.
 - ۹- انفجار ستاره‌ها باعث تولید عنصرها می‌شود.
 - ۱۰- پس از تشکیل عنصرهای کربن و لیتیم، عنصرهایی مانند آهن و طلا تشکیل شده‌اند.

به پرسش‌های زیر پاسخ دهید.

- ۱۱- با استفاده از واژه‌های داده‌شده، عبارت‌ها را کامل کنید. (۲ کلمه اضافی است)
 ستاره - آهن - سومین - سیلیسیم - اکسیژن - پنجمین - هیدروژن - سحابی
 الف) سیاره‌ی زمین، سیاره‌ی نزدیک به خورشید و سیاره‌ی مشتری، سیاره‌ی نزدیک به خورشید است.
 ب) فراوان‌ترین نافلز موجود در سیاره‌ی زمین، است.
 پ) هر چه دمای ستاره بیشتر باشد، شرایط تشکیل عنصرهایی مثل فراهم می‌شود.
 ت) یکی از عنصرهایی که با گذشت زمان و کاهش دما، متراکم شده و مجموعه‌ی گازی به نام را تشکیل دادند، عنصر بود.
- ۱۲- هر یک از عبارت‌های داده‌شده در ستون A با یک مورد از ستون B ارتباط دارد، آن را پیدا کرده و به هم ربط دهید. (برخی از موارد ستون B اضافی هستند.)

ستون B	ستون A
(a) مهبانگ	الف) سحابی از آن تشکیل شده است.
(b) ستاره	ب) محل تولد ستاره‌ها
(c) He	پ) کارخانه‌ی تولید عنصرها
(d) سحابی	
(e) He, H	

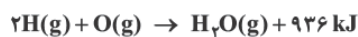
۱۳- شکل زیر روند تشکیل عنصرها درون ستاره‌ها را نشان می‌دهد. با توجه به آن شکل را کامل کنید.



۱۴- هنگامی که اورانیوم - ۲۳۸ (U²³⁸) به توریم - ۲۳۴ (Th²³⁴) تبدیل می‌شود، ۰/۰۰۵ گرم ماده به انرژی تبدیل می‌شود. در این تبدیل هسته‌ای چند کیلوژول انرژی آزاد می‌شود؟

۱۵- گرمای آزاد شده در اثر تبدیل پولونیم ²¹⁰Po به سرب ²⁰⁶Pb و ⁴He طی یک واکنش هسته‌ای برابر با $7/2 \times 10^8$ کیلوژول است. بر این اساس محاسبه کنید در این واکنش هسته‌ای چند گرم ماده به انرژی تبدیل شده است؟

۱۶- در واکنش شیمیایی تشکیل ۱ مول بخار آب از اتم‌های هیدروژن و اکسیژن طبق معادله‌ی زیر ۹۳۶ کیلوژول انرژی آزاد می‌شود.



الف) با فرض استفاده از رابطه‌ی انیشتین ($E = mc^2$)، محاسبه کنید که در این واکنش چه مقدار ماده به انرژی تبدیل شده است؟ ($c = 3 \times 10^8 \text{ m/s}$)

ب) با توجه به میزان تغییر جرم بالا، آیا ترازوهای دقیق آزمایشگاه با دقت ۰/۰۰۱ g می‌توانند این تغییر جرم را نشان دهند؟ بله خیر

پ) آیا می‌توان با چشم‌پوشی از تغییر جرم بالا، هم‌چنان فرض کرد که در واکنش‌های شیمیایی قانون بقای جرم برقرار است؟ بله خیر

۱۷- در واکنش هم‌جوشی هسته‌ای تولید ۱ مول دوتریم (²H) از نوترون و هیدروژن (¹H) طبق معادله‌ی زیر $2/16 \times 10^8 \text{ kJ}$ انرژی آزاد می‌شود:

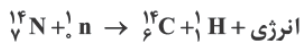


الف) محاسبه کنید در این واکنش چه مقدار ماده به انرژی تبدیل شده است؟ ($c = 3 \times 10^8 \text{ m/s}$)

ب) با توجه به میزان تغییر جرم در واکنش بالا، آیا ترازوهای دقیق آزمایشگاه با دقت ۰/۰۰۱ g می‌توانند تغییر جرم را نشان دهند؟ بله خیر

پ) آیا می‌توان، با چشم‌پوشی از تغییر جرم بالا، هم‌چنان فرض کرد که در واکنش‌های هسته‌ای قانون بقای جرم برقرار است؟ بله خیر

۱۸- $14/0031$ گرم ¹⁴N و $1/0087$ گرم ¹n، طی واکنش هسته‌ای زیر به $14/0032$ گرم ¹⁴C و $1/0078$ گرم ¹H تبدیل می‌شوند. محاسبه کنید در این واکنش هسته‌ای چند کیلوژول انرژی آزاد می‌شود؟



۱۹- اگر در واکنش هسته‌ای زیر به ازای مصرف مقداری ⁷Li و $1/0078$ گرم ¹H، به همراه تولید $8/0052$ گرم ⁴He، $4/5 \times 10^7$ کیلوژول انرژی هم آزاد شود، چند گرم ⁷Li مصرف شده است؟



۲ (صفحه‌های ۵ و ۶ کتاب درسی)

آیا همه‌ی اتم‌های یک عنصر پایدارند؟

نماد شیمیایی اتم‌ها

هر عنصر را با یک نماد شیمیایی نشان می‌دهیم به طوری که در سمت چپ و پایین نماد شیمیایی، عدد اتمی (Z) را نوشته و در سمت چپ و بالای نماد شیمیایی، عدد جرمی (A) را می‌نویسیم.

● نماد E، حرف نخست Element به معنای عنصر است.

← عدد جرمی A

← عدد اتمی Z

● عدد اتمی را با حرف Z نشان می‌دهیم که تعداد پروتون‌ها را مشخص می‌کند. مثلاً وقتی می‌گوییم عدد اتمی سریم ۱۱ است، یعنی در هسته‌ی اتم سریم ۱۱ پروتون وجود دارد.

← ^{11}Na تعداد پروتون‌های هسته ۱۱ است.

● عدد جرمی را با حرف A نشان می‌دهیم که مجموع تعداد پروتون‌ها و نوترون‌های هسته‌ی اتم را مشخص می‌کند. مثلاً وقتی می‌گوییم عدد جرمی سریم ۲۳ است، یعنی در هسته‌ی اتم سریم ۲۳ پروتون و نوترون وجود دارد.

← ^{23}Na مجموع پروتون‌ها و نوترون‌های هسته ۲۳ است.

اصلن چرا به جمع پروتون‌ها و نوترون‌ها می‌گیریم عدد اتمی؟ مگه اتم الکترون نداره؟ هر ۳ اون چی؟

- آفرین، به نکته‌ی ظریفی اشاره کردی! اتم الکترون هم داره ولی چون هر ۳ الکترون فیلی فیلی ناپیازه، تاثیر خاصی روی هر ۳ کل اتم نداره و می‌شه ازش چشم‌پوشی کرد. تعداد نوترون‌ها + تعداد پروتون‌ها (عدد اتمی) = عدد جرمی

$$A = Z + n$$

● با داشتن عدد اتمی و عدد جرمی یک اتم می‌توانیم تعداد پروتون، الکترون و نوترون آن را به دست آوریم: $p = Z$ (پروتون)

در اتم‌های خنثی تعداد الکترون‌ها برابر با تعداد پروتون‌هاست: $e = Z$ (الکترون)

$$n = A - Z$$
 (نوترون)

مثال و پاسخ

مثال: تعداد پروتون، الکترون و نوترون اتم‌های زیر را تعیین کنید.



الف ${}_{14}^{28}\text{Si}: p = Z = 14$, $\underbrace{e = Z = 14}_{\text{ذره‌ی خنثی}}$, $n = A - Z = 28 - 14 = 14$ پاسخ

ب ${}_{26}^{56}\text{Fe}: p = Z = 26$, $\underbrace{e = Z = 26}_{\text{ذره‌ی خنثی}}$, $n = A - Z = 56 - 26 = 30$

● به یون‌هایی که بار الکتریکی مثبت دارند، کاتیون می‌گوییم. در کاتیون‌ها (یون‌های مثبت) تعداد الکترون‌ها از پروتون‌ها کم‌تر است:

$$X^{a+}: e = (Z - a) \text{ (تعداد الکترون)}$$

$${}_{20}\text{Ca}^{2+}: e = Z - 2 = 20 - 2 = 18$$

● به یون‌هایی که بار الکتریکی منفی دارند، آنیون می‌گوییم. در آنیون‌ها (یون‌های منفی) تعداد الکترون‌ها از پروتون‌ها بیشتر است:

$$X^{a-}: e = (Z + a) \text{ (تعداد الکترون)}$$

$${}_{35}\text{Br}^{-}: e = Z + 1 = 35 + 1 = 36$$

مثال و پاسخ

مثال: تعداد پروتون، الکترون و نوترون را در یون‌های زیر تعیین کنید.



الف ${}_{34}^{80}\text{Se}^{2-}: p = Z = 34$, $\underbrace{e = Z + 2 = 34 + 2 = 36}_{\text{آنیون}}$, $n = A - Z = 80 - 34 = 46$ پاسخ

ب ${}_{82}^{208}\text{Pb}^{4+}: p = Z = 82$, $\underbrace{e = Z - 4 = 82 - 4 = 78}_{\text{کاتیون}}$, $n = A - Z = 208 - 82 = 126$

● به جز اتم هیدروژن (${}^1\text{H}$)، در تمامی ذرات معمولاً داریم: تعداد نوترون‌ها \leq تعداد پروتون‌ها (یا الکترون‌ها)

مثلاً که تو به سوالی گفتن اختلاف نوترون‌ها و پروتون‌ها ۱۰ تاست؛ یعنی نوترون‌ها ۱۰ تا بیشتر از پروتون‌هاست نه اینکه پروتون‌ها بیشتر باشه!

مثال و پاسخ

مثال: تفاوت تعداد نوترون‌ها و الکترون‌ها در ذره‌ی ${}^{112}\text{X}^{2+}$ برابر ۱۸ است. عدد اتمی این یون را به دست آورید.

$$Z + n = 112 \quad \leftarrow \quad \rightarrow \quad Z - e = 2$$



پاسخ: از ${}^{112}\text{X}^{2+}$ می‌فهمیم که: نوترون‌ها هم ۱۸ تا بیشتر از الکترون‌هاست؛ یعنی $n - e = 18$. پس داریم:

$$\begin{cases} Z + n = 112 \\ Z - e = 2 \\ n - e = 18 \end{cases} \xrightarrow{\text{را می‌خواهیم}} \begin{cases} Z + n = 112 \\ Z - e = 2 \\ -n + e = -18 \end{cases} \xrightarrow{\text{سه معادله را با هم جمع می‌کنیم}} 2Z = 112 + 2 - 18 \Rightarrow Z = 48$$

ایزوتوپ‌ها

ایزوتوپ‌ها، اتم‌های یک عنصر هستند که Z (عدد اتمی) آن‌ها یکسان ولی A (عدد جرمی) آن‌ها متفاوت است. اغلب عنصرها در طبیعت مخلوطی از چند ایزوتوپ (هم مکان) با جرم متفاوت هستند.

● منیزیم دارای ۳ ایزوتوپ $^{24}_{12}\text{Mg}$ ، $^{25}_{12}\text{Mg}$ و $^{26}_{12}\text{Mg}$ است.

● نام هر ایزوتوپ با عدد جرمی آن مشخص می‌شود.

● مثلن کربن دو ایزوتوپ پایدار کربن - $^{12}_6\text{C}$ و کربن - $^{13}_6\text{C}$ دارد.

خواص شیمیایی اتم‌های هر عنصر به عدد اتمی (Z) آن وابسته است؛ به همین دلیل ایزوتوپ‌های یک عنصر خواص شیمیایی یکسانی دارند. مثلن همه‌ی ایزوتوپ‌های منیزیم ($^{24}_{12}\text{Mg}$ ، $^{25}_{12}\text{Mg}$ ، $^{26}_{12}\text{Mg}$) خواص شیمیایی یکسانی دارند و هم‌پنین توی هرجول دوره‌ای عنصرها تو به فونه هستن، به همین دلیل بهشون می‌گیم هم‌مکان.

ایزوتوپ‌های یک عنصر در برخی خواص فیزیکی وابسته به جرم، مثل چگالی یا هم تفاوت دارند.

● بعضی از ایزوتوپ‌های یک عنصر در طبیعت وجود دارند و بعضی را می‌توانیم به طور ساختگی تولید کنیم.

● بعضی از ایزوتوپ‌های یک عنصر پایدار بوده و بعضی ناپایدارند. هسته‌ی ایزوتوپ‌های ناپایدار با گذشت زمان متلاشی می‌شود.

● ایزوتوپ‌های ناپایدار، پرتوزا بوده و اغلب بر اثر تلاشی ذره‌های پرانرژی و مقدار زیادی انرژی آزاد می‌کنند.

● اغلب هسته‌هایی که نسبت نوترون‌ها به پروتون‌های آن‌ها برابر یا بیشتر از ۱/۵ باشد، ناپایدارند و با گذشت زمان، متلاشی می‌شوند.

$$\frac{n}{p} \geq 1/5 \Rightarrow \text{ایزوتوپ ناپایدار و پرتوزا}$$

● به ایزوتوپ‌های ناپایدار و پرتوزا، رادیوایزوتوپ می‌گوییم.

● نیم‌عمر: به مدت زمانی که طول می‌کشد تا نصف یک ماده‌ی پرتوزا متلاشی شود، نیم‌عمر می‌گوییم. مثلن آکه نیم‌عمر یک ایزوتوپ ۱ ساعت باشه، یعنی هر ۱ ساعت نصف اون متلاشی میشه.

● یعنی ۲ ساعت طول میکشه تا همش متلاشی شه؟

- نه دریکه، هر ۱ ساعت که بگذره نصف مقدار باقی‌مونده از بین میره مثلن بعد از ۲ ساعت $\frac{1}{4}$ باقی می‌مونه (پون نصف ماده باقی مونده بود، حالا نصف این مقدار میشه $\frac{1}{8}$ ماده که از بین میره و $\frac{1}{4}$ ماده باقی می‌مونه)، بعد از ۳ ساعت $\frac{1}{8}$ باقی می‌مونه، الی آخر.

● نیم‌عمر هر ایزوتوپ نشان می‌دهد که آن ایزوتوپ، تا چه اندازه پایدار است. هر چه نیم‌عمر ایزوتوبی کمتر باشد، آن ایزوتوپ ناپایدارتر است.

مثال و پاسخ

مثال: جدول زیر را در نظر بگیرید.

نماد ایزوتوپ	^1_1H	^2_1H	^3_1H	^4_2He	^5_2He	^6_2He	^7_2He
ویژگی ایزوتوپ							
نیم‌عمر	پایدار	پایدار	سال ۱۲/۳۲	$1/4 \times 10^{-22}$ ثانیه	$9/1 \times 10^{-22}$ ثانیه	$2/9 \times 10^{-22}$ ثانیه	$2/3 \times 10^{-22}$ ثانیه
درصد فراوانی در طبیعت	۹۹/۹۸۸۵	۰/۰۱۱۴	ناچیز	۰ (ساختگی)	۰ (ساختگی)	۰ (ساختگی)	۰ (ساختگی)

الف) شباهت و تفاوت میان اتم‌های جدول را بنویسید. **پ** چند ایزوتوپ از عنصر هیدروژن در یک مخلوط طبیعی از آن وجود دارد؟

ب) کدام ایزوتوپ عنصر هیدروژن، از همه ناپایدارتر است؟ **ت** چند ایزوتوپ عنصر هیدروژن پرتوزا است؟

پاسخ: الف) شباهت آن‌ها در برابری عدد اتمی (Z) و تفاوت آن‌ها در عدد جرمی (A) آن‌هاست.

یا عدد اتمی آن‌ها یکسان ولی عدد جرمی آن‌ها متفاوت است؛ بنابراین همه‌ی آن‌ها ایزوتوپ‌های عنصر هیدروژن (^1_1H) هستند.

ب) ۳ ایزوتوپ؛ تنها ایزوتوپ‌های ^1_1H ، ^2_1H و ^3_1H طبیعی بوده و بقیه ساختگی هستند.

پ) هر چه نیم‌عمر یک ایزوتوپ کمتر باشد، ناپایدارتر است.

ایزوتوپ ^7_2He ناپایدارتر است، زیرا نیم‌عمر کمتری دارد.

ت) هر ایزوتوبی که نسبت $\frac{n}{p} \geq 1/5$ دارد، پرتوزاست.

۵ ایزوتوپ؛ ^7_2He ، ^4_2He ، ^5_2He ، ^6_2He و ^7_2He پرتوزا هستند، زیرا نسبت $\frac{n}{p}$ آن‌ها بزرگ‌تر از ۱/۵ است.

$$p = 1 \text{ و } n = 2 \Rightarrow \frac{n}{p} = \frac{2}{1} = 2$$


مثلن برای ^3_1H

● درصد فراوانی هر ایزوتوپ در طبیعت، نشان‌دهنده‌ی فراوانی آن ایزوتوپ نسبت به سایر ایزوتوپ‌ها است. فراوانی (درصد فراوانی) را با نماد F نشان می‌دهیم.

$$\text{درصد فراوانی هر ایزوتوپ} = \frac{\text{تعداد اتم‌های ایزوتوپ}}{\text{تعداد کل اتم‌ها}} \times 100\%$$

مثال و پاسخ

مثال با توجه به شکل زیر، درصد فراوانی ایزوتوپ‌های لیتیم را مشخص کنید.



پاسخ از هر ۵۰ اتم لیتیم، ۳ اتم ${}^6\text{Li}$ بوده و ۴۷ اتم ${}^7\text{Li}$ است. بنابراین: $\text{درصد فراوانی هر ایزوتوپ} = \frac{\text{تعداد اتم‌های ایزوتوپ}}{\text{تعداد کل اتم‌ها}} \times 100\%$

$$\text{درصد فراوانی ایزوتوپ } {}^6\text{Li} = \frac{3}{50} \times 100\% = 6\%$$

$$\text{درصد فراوانی ایزوتوپ } {}^7\text{Li} = \frac{47}{50} \times 100\% = 94\%$$

مثال اتم‌های زیر را در نظر بگیرید:

نماد ایزوتوپ	${}^3\text{He}$	${}^4\text{He}$	${}^5\text{He}$	${}^6\text{He}$	${}^7\text{He}$	${}^8\text{He}$	${}^9\text{He}$	${}^{10}\text{He}$
ویژگی ایزوتوپ								
نیم‌عمر	پایدار	پایدار	$7/0 \times 10^{-24}\text{s}$	$8/1 \times 10^{-1}\text{s}$	$2/9 \times 10^{-21}\text{s}$	$1/2 \times 10^{-1}\text{s}$	$7 \times 10^{-21}\text{s}$	$2/7 \times 10^{-21}\text{s}$
درصد فراوانی								
در طبیعت	۰/۰۰۰۱	۹۹/۹۹۹۹	۰ (ساختگی)	۰ (ساختگی)	۰ (ساختگی)	۰ (ساختگی)	۰ (ساختگی)	۰ (ساختگی)

الف چه شباهت و چه تفاوتی میان آن‌ها وجود دارد؟

ب نمونه‌ای طبیعی از عنصر He مخلوطی از چند ایزوتوپ آن است؟

پ چند ایزوتوپ عنصر He پرتوزا است؟

ت کدام ایزوتوپ عنصر He از همه ناپایدارتر است؟

پاسخ الف عدد اتمی آن‌ها یکسان ولی عدد جرمی آن‌ها متفاوت است؛ بنابراین این اتم‌ها ایزوتوپ‌های عنصر هلیوم (${}^2\text{He}$) هستند.

ب ۲ ایزوتوپ، تنها ایزوتوپ‌های ${}^3\text{He}$ و ${}^4\text{He}$ طبیعی بوده و بقیه ساختگی‌اند.

پ ۶ ایزوتوپ، ایزوتوپ‌های ${}^5\text{He}$ ، ${}^6\text{He}$ ، ${}^7\text{He}$ ، ${}^8\text{He}$ ، ${}^9\text{He}$ و ${}^{10}\text{He}$ همگی پرتوزا هستند، زیرا نسبت $\frac{n}{p} \geq 1/5$ دارند.

$$p = 2 \text{ و } n = 3 \Rightarrow \frac{n}{p} = \frac{3}{2} = 1/5$$

مثلاً برای ${}^5\text{He}$:

ت ایزوتوپ ${}^5\text{He}$ از همه ناپایدارتر است، زیرا نیم‌عمر کمتری دارد.

سؤال‌های امتحانی

جملات زیر را با کلمات مناسب کامل کنید.

- ۲۰- همه‌ی ایزوتوپ‌های یک عنصر معین، خواص شیمیایی دارند، ولی در برخی خواص فیزیکی وابسته به جرم با یکدیگر دارند.
- ۲۱- نیم‌عمر هر ایزوتوپ نشان می‌دهد که آن ایزوتوپ تا چه اندازه است.
- ۲۲- اغلب هسته‌هایی که نسبت شمار نوترون‌ها به پروتون‌های آن‌ها برابر یا بیش از باشد، ناپایدارند و با گذشت زمان می‌شوند.
- درستی یا نادرستی جملات زیر را تعیین کرده و شکل صحیح موارد نادرست را بنویسید.
- ۲۳- تفاوت تعداد نوترون‌ها و الکترون‌ها در اتم ${}^{39}_{19}\text{K}$ بیشتر از این تفاوت در ذره‌ی ${}^7_3\text{Li}^+$ است.
- ۲۴- تفاوت تعداد الکترون‌ها و پروتون‌ها در ذره‌ی ${}^{37}_{17}\text{Cl}^-$ بیشتر از این تفاوت در ذره‌ی ${}^{16}_8\text{O}^{2-}$ است.
- ۲۵- منیزیم در طبیعت دارای ایزوتوپ‌های ${}^{24}_{12}\text{Mg}$ و ${}^{25}_{12}\text{Mg}$ است.
- ۲۶- تمامی ایزوتوپ‌های یک عنصر سبک در طبیعت وجود دارد.
- به پرسش‌های زیر پاسخ دهید.
- ۲۷- با توجه به هر یک از عبارات‌های زیر، واژه‌ی مناسب را از داخل پرانتز انتخاب کنید.
- (الف) بررسی‌ها نشان می‌دهد که اغلب در یک نمونه‌ی طبیعی از عنصری معین، اتم‌های سازنده، جرم یکسانی (دارند - ندارند).
- (ب) خواص شیمیایی یک عنصر معین به شمار (پروتون‌ها - نوترون‌ها) بستگی دارد.
- (پ) (همه‌ی - اغلب) عناصر دارای چند ایزوتوپ هستند که در (اکثر - برخی) خواص فیزیکی با یکدیگر تفاوت دارند.
- (ت) نسبت عدد جرمی به عدد اتمی در (همه‌ی - اغلب) ایزوتوپ‌های پرتوزا برابر یا (بیش از ۱/۵ - بیش از ۲/۵) است.
- ۲۸- هر یک از عبارات‌های داده‌شده در ستون A با یک مورد از ستون B ارتباط دارد، آن را پیدا کرده و به هم ربط دهید. (برخی از موارد ستون B اضافی هستند).

ستون B

ستون A

- | | | |
|--|-----------------------|--|
| ${}^{24}_{11}\text{A}$ (a) <input type="radio"/> | <input type="radio"/> | الف) ایزوتویی برای ${}^{24}_{12}\text{A}$ |
| ${}^2_1\text{B}$ (b) <input type="radio"/> | <input type="radio"/> | ب) اختلاف تعداد نوترون‌ها و پروتون‌ها برابر ۱ است. |
| ${}^9_4\text{C}$ (c) <input type="radio"/> | <input type="radio"/> | پ) تعداد رادیوایزوتوپ‌های هیدروژن |
| نیم‌عمر (d) <input type="radio"/> | <input type="radio"/> | ت) ایزوتویی ناپایدار |
| ${}^4_2\text{D}$ (e) <input type="radio"/> | <input type="radio"/> | ث) شباهت ایزوتوپ‌های طبیعی و مصنوعی یک عنصر |
| ۵ (f) <input type="radio"/> | | |
| ${}^{26}_{12}\text{E}$ (g) <input type="radio"/> | | |
| تعداد پروتون‌ها (h) <input type="radio"/> | | |
| ۴ (i) <input type="radio"/> | | |

۲۹- با توجه به نماد همگانی اتم‌ها $({}^A_Z\text{E})$ ، A و Z هر کدام چه کمیتی را نشان می‌دهند؟

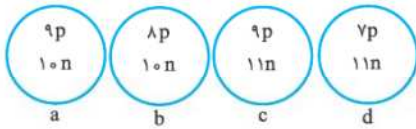
۳۰- جدول زیر را تکمیل کنید: (نماد اتم‌ها را هم کامل کنید).

اتم	تعداد پروتون	تعداد نوترون	تعداد الکترون
${}^{57}_{26}\text{Fe}$
..... Re	۷۵	۱۱۲
${}^{238}_{95}\text{Am}$	۹۵

۳۱- جدول زیر را تکمیل کنید: (نماد ذره‌ها را هم کامل کنید).

ذره	تعداد پروتون	تعداد نوترون	تعداد الکترون	بار الکتریکی
${}^{19}_9\text{F}^{\dots\dots\dots}$	-۱
..... K	۲۰	۱۸	+۱
${}^{52}_{24}\text{Cr}^{\dots\dots\dots}$	۲۱

- ۳۲- تفاوت تعداد نوترون‌ها و پروتون‌ها در اتم ${}^{78}\text{X}$ برابر ۱۰ است. نماد شیمیایی کامل این اتم را بنویسید.
- ۳۳- تفاوت تعداد نوترون‌ها و الکترون‌ها در ذره ${}^{201}\text{X}^{2+}$ برابر ۴۳ است. عدد اتمی این یون را به دست آورید.
- ۳۴- عدد جرمی یون X^{2+} از رابطه $A = 2Z + 25$ پیروی می‌کند. اگر مجموع نوترون‌ها و الکترون‌های آن ۱۳۵ باشد، عدد اتمی این عنصر را به دست آورید.
- ۳۵- اگر در ذره ${}^{34}\text{X}^{2-}$ نسبت نوترون به پروتون برابر $1/125$ باشد، نسبت الکترون به نوترون را در این ذره بیابید.
- ۳۶- تفاوت نوترون‌ها و الکترون‌ها در ذره ${}^{127}\text{X}^{-}$ برابر ۲۰ است. تعداد الکترون‌ها را در اتم X بیابید.



c و a

d و b

b و a

۳۸- اتم ${}^{40}_{19}\text{A}$ با کدام اتم ایزوتوپ است؟

${}^{42}_{20}\text{D}$

${}^{41}_{19}\text{C}$

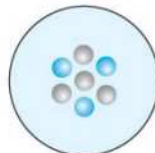
${}^{40}_{21}\text{B}$

۳۹- نیم عمر را تعریف کنید.

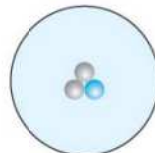
۴۰- در شکل‌های زیر، تعداد ذرات بنیادی مربوط به هسته‌ی چهار اتم نشان داده شده است. با توجه به آن‌ها پاسخ دهید.



هسته‌ی اتم (۱)



هسته‌ی اتم (۲)



هسته‌ی اتم (۳)



هسته‌ی اتم (۴)

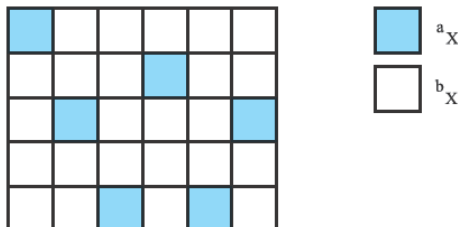
● پروتون
● نوترون

الف) هسته‌ی کدام اتم می‌تواند پرتوزا باشد؟ دلیل بنویسید.

ب) کدام دو اتم ایزوتوپ یکدیگر هستند؟ چرا؟

پ) اگر نماد شیمیایی هسته‌ی اتم (۴) را به صورت ${}^A_Z\text{X}$ نمایش دهیم، عدد اتمی و عدد جرمی آن را مشخص کنید.

۴۱- با توجه به شکل درصد فراوانی ایزوتوپ‌های X را تعیین کنید.



۴۲- در مخلوط ایزوتوپ‌های عنصر X نسبت ایزوتوپ‌های ${}^{a+1}\text{X}$ به ${}^a\text{X}$ برابر $25/0$ است. درصد فراوانی ایزوتوپ‌ها را محاسبه کنید.

۴۳- در بین ایزوتوپ‌های طبیعی عنصر X به ازای ۱ اتم ${}^a\text{X}$ ، ۲ اتم ${}^b\text{X}$ وجود داشته و به ازای هر اتم ${}^b\text{X}$ ، ۳ اتم ${}^c\text{X}$ وجود دارد. درصد فراوانی ایزوتوپ‌های عنصر X را بیابید.

۴۴- در نمونه‌ی طبیعی از عنصر A که دارای ۳ ایزوتوپ ${}^{a1}\text{A}$ ، ${}^{a2}\text{A}$ و ${}^{a3}\text{A}$ است. درصد فراوانی ${}^{a1}\text{A}$ برابر ۲۰ درصد بوده و فراوانی ${}^{a2}\text{A}$ برابر ${}^{a3}\text{A}$ است. درصد فراوانی ایزوتوپ‌های دیگر را بیابید.

۴۵- اتم‌های زیر را در نظر بگیرید.

نماد ایزوتوپ	${}^4_3\text{X}$	${}^5_3\text{X}$	${}^6_3\text{X}$	${}^7_3\text{X}$	${}^8_3\text{X}$	${}^9_3\text{X}$	${}^{10}_3\text{X}$	${}^{11}_3\text{X}$	${}^{12}_3\text{X}$
ویژگی ایزوتوپ									
نیم عمر	$7/6 \times 10^{-22}\text{s}$	$3/7 \times 10^{-22}\text{s}$	پایدار	پایدار	$8/38 \times 10^{-1}\text{s}$	$1/78 \times 10^{-1}\text{s}$	$2 \times 10^{-21}\text{s}$	$8/6 \times 10^{-3}\text{s}$	$9 \times 10^{-9}\text{s}$
درصد فراوانی در طبیعت	○ (ساختگی)	○ (ساختگی)	۹۳/۵	۶/۵	○ (ساختگی)	○ (ساختگی)	○ (ساختگی)	○ (ساختگی)	○ (ساختگی)

الف) چه شباهت و چه تفاوتی میان آن‌ها وجود دارد؟

ب) نمونه‌ی طبیعی از عنصر X مخلوطی از چند ایزوتوپ آن است؟

پ) چند ایزوتوپ عنصر X پرتوزاست؟

ت) کدام ایزوتوپ عنصر X از همه ناپایدارتر است؟

۳ (صفحه‌های ۷ تا ۹ کتاب درسی)

تکنسیم نخستین عنصر ساخته بشر

از ۱۱۸ عنصر شناخته شده، تنها ۹۲ عنصر در طبیعت یافت می‌شود؛ یعنی ۲۶ عنصر دیگر ساختگی است. شیمی‌دان‌ها همواره با یافتن کاربردهای منحصر به فرد هر عنصر، انگیزه‌ی کافی برای ساختن عنصرهای جدید را داشته‌اند. *واسه این که شاید به عنصری کشف بشه که بعدها کاربردهای فنی داشته باشه، مثل تکنسیم.*



● تکنسیم (^{99}Tc) نخستین عنصری است که در رآکتور هسته‌ای (واکنشگاه هسته‌ای) ساخته شد. این رادیوایزوتوپ در تصویربرداری پزشکی کاربرد ویژه‌ای دارد.



غده‌ی تیروئید ناسالم

غده‌ی تیروئید سالم

از تکنسیم برای تصویربرداری غده‌ی تیروئید استفاده می‌کنیم.

● یونی که حاوی تکنسیم (^{99}Tc) است، با یون یدید (I^-) اندازه‌ی مشابهی داشته و غده‌ی تیروئید هنگام جذب یدید، این یون را نیز جذب می‌کند! با افزایش مقدار این یون در غده‌ی تیروئید و پرتوزایی آن، امکان تصویربرداری فراهم می‌شود.

همه‌ی ^{99}Tc موجود در جهان باید به طور مصنوعی و با استفاده از واکنش‌های هسته‌ای ساخته شود. از آن‌جا که زمان ماندگاری (نیمه عمر) ^{99}Tc کم است و نمی‌توان مقادیر زیادی از آن را به مدت طولانی نگه‌داری کرد، هر جا که نیاز باشد، آن را با یک مولد هسته‌ای تولید و سپس مصرف می‌کنند.

با واکنش هسته‌ای می‌شه طلا هم تولید کرد؟

- تبدیل عنصرهای دیگر به طلا، یعنی کیمیاگری، آرزوی دیرینه‌ی ما انسان‌هاست! باید بگم که با رشد علم شیمی و فیزیک انسان می‌تواند طلا را تولید کند.

پس چرا صبح تا شب نمی‌شینن طلا درست کنن؟

- مگه قرمه سبزیه؟ هزینه‌ی تولید آن، آن قدر زیاد است که صرفه‌ی اقتصادی ندارد.

رادیوایزوتوپ‌ها بسیار خطرناک هستند، ولی با پیشرفت دانش و فناوری، بشر موفق به مهار و بهره‌گیری از آن‌ها شده است به طوری که از آن‌ها در پزشکی، کشاورزی و سوخت در نیروگاه‌های اتمی استفاده می‌شود.



(یکی از کاربردهای مواد پرتوزا، استفاده از آن‌ها در تولید انرژی الکتریکی است.)

● اورانیم، شناخته شده‌ترین فلز پرتوزایی است که تنها یکی از ایزوتوپ‌های آن (^{235}U)، اغلب به عنوان سوخت در رآکتورهای اتمی به کار می‌رود. فراوانی این ایزوتوپ در مخلوط طبیعی کم‌تر از ۰/۷ درصد است.

● غنی‌سازی ایزوتوپی، فرایندی مهم در چرخه‌ی تولید سوخت هسته‌ای است؛ دانشمندان هسته‌ای کشورمان با تلاش بسیار، با استفاده از این فرایند، موفق شدند مقدار این ایزوتوپ اورانیم (^{235}U) را در مخلوط ایزوتوپ‌های آن، افزایش دهند.



برخی رادیوایزوتوپ‌های تولیدشده در ایران

● یکی از چالش‌های صنایع هسته‌ای، دفع پسماند هسته‌ای است، زیرا پسماند رآکتورهای اتمی هنوز خاصیت پرتوزایی داشته و خطرناک است.



● دود سیگار و قلیان، مقدار قابل توجهی مواد پرتوزا دارد. به همین دلیل اغلب افرادی که به سرطان ریه دچار می‌شوند، سیگاری هستند.

● از رادیویزوتوپ‌ها می‌توان برای تشخیص و درمان بیماری‌ها استفاده کرد.

مثال و پاسخ



مثال: توده‌های سرطانی، سلول‌هایی هستند که رشد غیرعادی و سریع دارند. اساس استفاده از رادیویزوتوپ‌ها برای تشخیص توده‌ی سرطانی را در شکل روبه‌رو می‌بینیم. با توجه به شکل، فرایند تشخیص بیماری را توضیح دهید. (به گلوکز حاوی اتم پرتوزا، گلوکز نشان‌دار می‌گویند).

پاسخ: مقادیر اندکی از ماده‌ی رادیویزوتوپ (گلوکز نشان‌دار) به بدن بیمار تزریق می‌شود. این ماده در جریان خون پخش می‌شود و هر بافتی مقداری از آن را جذب می‌کند. سلول‌های سرطانی به دلیل رشد سریع، مقدار بیشتری از ماده‌ی رادیویزوتوپ را جذب می‌کنند.

با افزایش مقدار رادیویزوتوپ در سلول‌های سرطانی، امکان عکس‌برداری و تشخیص بیماری فراهم می‌شود.

سؤال‌های امتحانی

جملات زیر را با کلمات مناسب کامل کنید.

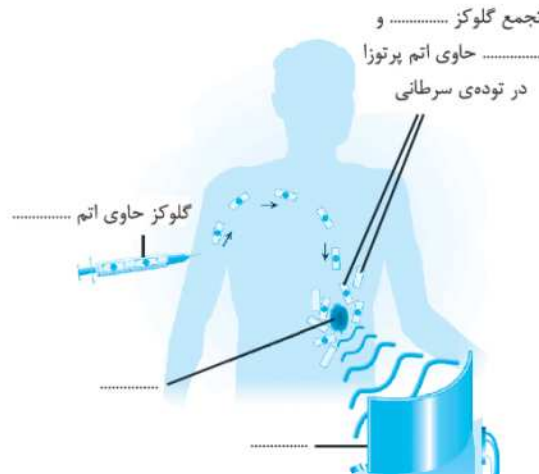
- ۴۶- تاکنون ۱۱۸ عنصر شناخته شده است که فقط آن در طبیعت یافت می‌شود.
- ۴۷- نخستین عنصری که در آزمایشگاه ساخته شد، عنصر بود.
- ۴۸- پسماندهای رآکتورهای اتمی هنوز خاصیت دارند و هستند. درستی یا نادرستی جملات زیر را تعیین کرده و شکل صحیح موارد نادرست را بنویسید.
- ۴۹- از عنصر تکنسیم می‌توان در درمان بیماری‌ها استفاده کرد.
- ۵۰- با افزایش مقدار اتم تکنسیم در غده‌ی تیروئید، امکان تصویربرداری فراهم می‌شود.
- ۵۱- دلیل جذب یون حاوی تکنسیم به وسیله‌ی غده‌ی تیروئید، بار مشابه یون حاوی تکنسیم با یون یدید است.
- ۵۲- عنصر تکنسیم تنها در رآکتور هسته‌ای تولید می‌شود.
- ۵۳- ما می‌توانیم مقادیر زیادی از عنصر تکنسیم را بسازیم و نگاه‌داری کنیم.
- ۵۴- کیمیاگری، تبدیل عنصر مس به طلا، هزینه‌ی بسیار زیادی دارد.
- ۵۵- ایزوتوپ‌های اورانیم به عنوان سوخت رآکتورهای اتمی به کار می‌روند.

۵۶- تمامی عناصر موجود در طبیعت مخلوطی از چند ایزوتوپ هستند.

۵۷- ایزوتوپ‌های یک عنصر را می‌توان به صورت «طبیعی و مصنوعی» و «پایدار و ناپایدار» دسته‌بندی کرد. به پرسش‌های زیر پاسخ دهید.

۵۸- با استفاده از واژه‌های داده‌شده، عبارت‌ها و شکل را کامل کنید. (۴ واژه اضافی است).

آشکارسازپرتو - پدید - گلوکز - ^{235}U - ^{99}Tc - اورانیم - معمولی - هزینه - تیروئید - ماندگاری - آهن - توده‌ی سرطانی - پرتوزا
 الف) از تکنسیم برای تصویربرداری استفاده می‌شود، زیرا یون حاوی تکنسیم اندازه‌ی مشابهی با دارد.
 ب) تکنسیم را نمی‌توان به مقدار زیاد تهیه و نگهداری کرد، زیرا آن کم است.
 پ) شناخته‌شده‌ترین فلز پرتوزا، است، که ایزوتوپ به عنوان سوخت در رآکتورهای اتمی کاربرد دارد.
 ت) جمع گلوکز و حاوی اتم پرتوزا در توده‌ی سرطانی



۵۹- با در نظر گرفتن شعاع یون پدید (220 pm)، شعاع یون حاوی تکنسیم به کدام عدد نزدیک‌تر است؟

150 pm

225 pm

305 pm

۶۰- چه تعداد عنصر در طبیعت یافت می‌شود؟

۲۶

۹۲

۶۱- هر یک از عبارت‌های داده‌شده در ستون A با یک مورد از ستون B ارتباط دارد، آن را پیدا کرده و به هم ربط دهید. (برخی از موارد ستون B اضافی هستند).

ستون B	ستون A
<input type="radio"/> (a) نیم‌عمر	<input type="radio"/> الف) نخستین عنصر ساخت بشر
<input type="radio"/> (b) غنی‌سازی ایزوتوپی	<input type="radio"/> ب) در تشخیص بیماری‌ها کاربرد دارد
<input type="radio"/> (c) راکتور اتمی	<input type="radio"/> پ) شناخته‌شده‌ترین فلز پرتوزا
<input type="radio"/> (d) تکنسیم	<input type="radio"/> ت) یکی از مراحل مهم چرخه‌ی تولید سوخت هسته‌ای
<input type="radio"/> (e) رادیوایزوتوپ	
<input type="radio"/> (f) اورانیم	

۴ (صفحه‌های ۹ تا ۱۳ کتاب درسی)

طبقه‌بندی عناصر

طبقه‌بندی کمک می‌کند که ۱۱۸ عنصر شناخته‌شده را با یک معیار و چیدمان خاصی در جدولی قرار دهیم؛ در این صورت می‌توانیم اطلاعات ارزشمندی را درباره‌ی ویژگی‌های عناصرها به دست آوریم و براساس آن رفتار عناصرهای گوناگون را پیش‌بینی کنیم.

پاسخ سؤال‌های امتحانی

۱- هیدروژن - آهن

۳- هیدروژن - هلیم - سحابی

۵- نادرست، مأموریت فضاپیماها تهیه و ارسال شناسنامه‌ی فیزیکی و شیمیایی آن‌ها بود.

۶- درست، با توجه به شکل صفحه‌ی ۳ کتاب درسی

۷- نادرست، با توجه به شکل صفحه‌ی ۳ کتاب درسی، ترتیب درست عناصر، آهن، اکسیژن، سیلیسیم و منیزیم است.

۸- نادرست، هر چه دمای ستاره بیشتر باشد، شرایط تشکیل عنصرهای سنگین‌تر فراهم می‌شود.

۹- نادرست  واکنش‌های هسته‌ای موجود در ستاره‌ها باعث تولید عنصرها می‌شوند.

۱۰- درست، با توجه به شکل صفحه‌ی ۴ کتاب درسی

۱۱- الف) سومین - پنجمین

۱۲- الف) e (He, H)

ت) سحابی - هیدروژن

پ) آهن

ب) اکسیژن

پ) b (ستاره)

د) d (سحابی)



۱۳-

$$m = 0.005 \text{ g} = 5 \times 10^{-3} \text{ g} \times \frac{1 \text{ kg}}{1000 \text{ g}} = 5 \times 10^{-6} \text{ kg}$$

۱۴-

$$c = 3 \times 10^8 \text{ m/s}$$

$$E = mc^2 = (5 \times 10^{-6}) \times (3 \times 10^8)^2 = 45 \times 10^{10} \text{ J} \times \frac{1 \text{ kJ}}{1000 \text{ J}} = 45 \times 10^7 \text{ kJ}$$

$$E = mc^2, E = 7/2 \times 10^8 \text{ kJ} \times \frac{1000 \text{ J}}{1 \text{ kJ}} = 7/2 \times 10^{11} \text{ J}$$

۱۵-

$$C = 3 \times 10^8 \text{ m/s}$$

$$\Rightarrow 7/2 \times 10^{11} \text{ J} = m \times (3 \times 10^8)^2 \Rightarrow m = 8 \times 10^{-6} \text{ kg} \times \frac{1000 \text{ g}}{1 \text{ kg}} = 8 \times 10^{-3} \text{ g}$$

در اثر این واکنش هسته‌ای، ۰/۰۰۸ گرم ماده به انرژی تبدیل شده است.

$$E = 936 \text{ kJ} \times \frac{1000 \text{ J}}{1 \text{ kJ}} = 936 \times 10^3 \text{ J}$$

۱۶- الف)

$$c = 3 \times 10^8 \text{ m/s}$$

$$E = mc^2 \Rightarrow 936 \times 10^3 = m \times (3 \times 10^8)^2 \Rightarrow m = 1/04 \times 10^{-11} \text{ kg} \times \frac{1000 \text{ g}}{1 \text{ kg}} = 1/04 \times 10^{-8} \text{ g}$$

پ) بله  در واکنش‌های شیمیایی قانون بقای جرم برقرار است.

ب) خیر

$$E = 2/16 \times 10^8 \text{ kJ} \times \frac{1000 \text{ J}}{1 \text{ kJ}} = 2/16 \times 10^{11} \text{ J}$$

۱۷- الف)

$$c = 3 \times 10^8 \text{ m/s}$$

$$E = mc^2 \Rightarrow 2/16 \times 10^{11} = m \times (3 \times 10^8)^2 \Rightarrow m = 2/4 \times 10^{-6} \text{ kg} \times \frac{1000 \text{ g}}{1 \text{ kg}} = 0/0024 \text{ g}$$

پ) خیر  در واکنش‌های هسته‌ای قانون بقای جرم برقرار نیست.

ب) بله

مجموع جرم فرآورده‌ها - مجموع جرم واکنش‌دهنده‌ها = Δm

۱۸-

$$\Delta m = [14/0031 + 1/0087] - [14/0032 + 1/0078] = 0/0008 \text{ g}$$

$$m = 0/0008 \text{ g} = 8 \times 10^{-4} \text{ g} \times \frac{1 \text{ kg}}{1000 \text{ g}} = 8 \times 10^{-7} \text{ kg}$$

$$c = 3 \times 10^8 \text{ m/s}$$

$$E = mc^2 = (8 \times 10^{-7}) \times (3 \times 10^8)^2 = 7/2 \times 10^{10} \text{ J} \times \frac{1 \text{ kJ}}{1000 \text{ J}} = 7/2 \times 10^7 \text{ kJ}$$

$$E = 4/5 \times 10^7 \text{ kJ} \times \frac{1000 \text{ J}}{1 \text{ kJ}} = 4/5 \times 10^{10} \text{ J}$$

-۱۹

$$c = 3 \times 10^8 \text{ m/s}$$

$$E = mc^2 \Rightarrow 4/5 \times 10^{10} = m \times (3 \times 10^8)^2 \Rightarrow m = 5 \times 10^{-7} \text{ kg} \times \frac{1000 \text{ g}}{1 \text{ kg}} = 5 \times 10^{-4} \text{ g} = 0/0005 \text{ g}$$

Δm = مجموع جرم فراورده‌ها - مجموع جرم واکنش‌دهنده‌ها

$$0/0005 = [m \text{ Li} + 1/0078] - [(2 \times 4/0026)] \Rightarrow m \text{ Li} = 6/9979 \text{ g}$$

-۲۲ ۱/۵ - متلاشی

-۲۱ پایدار

-۲۰ یکسان - تفاوت

-۲۳ نادرست، تفاوت نوترون‌ها و الکترون‌ها در ${}^{39}_{19}\text{K}$ (۱۹p, ۲۰n, ۱۹e) برابر ۱ و تفاوت نوترون‌ها و الکترون‌ها در ${}^7_3\text{Li}^+$ (۳p, ۴n, ۲e) برابر ۲ است.

-۲۴ نادرست، تفاوت الکترون و پروتون به بار ذره بستگی دارد. این تفاوت در Cl^- برابر ۱ در O^{2-} برابر ۲ است.

-۲۵ نادرست منیزیم در طبیعت دارای ۳ ایزوتوپ ${}^{24}\text{Mg}$ ، ${}^{25}\text{Mg}$ و ${}^{26}\text{Mg}$ است.

-۲۶ نادرست، عناصر سبک مانند هیدروژن (${}^1_1\text{H}$)، هم، ایزوتوپ‌های پرتوزا و مصنوعی دارند که در طبیعت وجود ندارد مانند ${}^3_1\text{H}$.

-۲۷ الف ندارند (ب) پروتون‌ها (پ) اغلب - برخی (ت) اغلب - بیش از ۲/۵

-۲۸ الف (الف) $g({}^{26}_{11}\text{E})$ (ب) $c({}^6_3\text{C})$ (پ) $f(5)$ (ت) $e({}^2_1\text{D})$ (ث) h (تعداد پروتون‌ها)

-۲۹ Z (عدد اتمی) تعداد پروتون‌های اتم و A (عدد جرمی) مجموع تعداد پروتون‌ها و نوترون‌های اتم را مشخص می‌کند.

-۳۰ در اتم‌ها تعداد پروتون‌ها و الکترون‌ها برابر است.

اتم	تعداد پروتون	تعداد نوترون	تعداد الکترون
${}^{56}_{26}\text{Fe}$	۲۶	۳۱	۲۶
${}^{187}_{75}\text{Re}$	۷۵	۱۱۲	۷۵
${}^{238}_{95}\text{Am}$	۹۵	۱۴۳	۹۵

ذره	تعداد پروتون	تعداد نوترون	تعداد الکترون	بار الکتریکی
${}^{19}_9\text{F}^-$	۹	۱۰	۱۰	-۱
${}^{39}_{19}\text{K}^+$	۱۹	۲۰	۱۸	+۱
${}^{52}_{24}\text{Cr}^{3+}$	۲۴	۲۸	۲۱	+۳

-۳۱

-۳۲ به جز در اتم هیدروژن ${}^1_1\text{H}$ ، در تمامی ذرات عموماً تعداد نوترون‌ها \leq پروتون‌ها (الکترون‌ها) است.

$$Z + n = 78 \leftarrow \begin{matrix} 78 \\ X \end{matrix}$$

از ${}^{78}\text{X}$ می‌فهمیم که:

$$\begin{cases} Z + n = 78 \\ n - Z = 10 \end{cases} \xrightarrow{\text{Z را می‌خواهیم}} \begin{cases} Z + n = 78 \\ -n + Z = -10 \end{cases} \xrightarrow{\text{دو معادله را با هم جمع می‌کنیم}} 2Z = 78 - 10 \Rightarrow Z = 34 \Rightarrow \begin{matrix} 78 \\ 34 \end{matrix} \text{X}$$

$$Z + n = 201 \leftarrow \begin{matrix} 201 \\ X \end{matrix} \quad Z - e = 2$$

-۳۳ در کاتیون‌ها تعداد الکترون‌ها از پروتون‌ها کم‌تر است.

از ${}^{201}\text{X}^{2+}$ می‌فهمیم که:

$$\begin{cases} Z + n = 201 \\ Z - e = 2 \\ n - e = 43 \end{cases} \xrightarrow{\text{Z را می‌خواهیم}} \begin{cases} Z + n = 201 \\ Z - e = 2 \\ -n + e = -43 \end{cases} \xrightarrow{\text{سه معادله را با هم جمع می‌کنیم}} 2Z = 201 + 2 - 43 \Rightarrow Z = 80$$

$$A = 2Z + 25 \Rightarrow Z + n = 2Z + 25 \Rightarrow Z - n = -25$$

-۳۴

$$\begin{cases} Z - n = -25 \\ n + e = 135 \\ Z - e = 2 \end{cases} \xrightarrow{\text{سه معادله را با هم جمع می‌کنیم}} 2Z = -25 + 135 + 2 \Rightarrow Z = 56$$

۴۵- الف) عدد اتمی آن‌ها یکسان ولی عدد جرمی آن‌ها متفاوت است؛ بنابراین این اتم‌ها ایزوتوپ‌های عنصر لیتیم (${}^7\text{Li}$) هستند.

ب) ۲ ایزوتوپ. تنها ایزوتوپ‌های ${}^6\text{X}$ و ${}^7\text{X}$ طبیعی بوده و بقیه ساختگی‌اند.

پ) هر ایزوتوپی که دارای نیم‌عمر است، پرتوزاست. بنابراین:

۷ ایزوتوپ. ایزوتوپ‌های ${}^4\text{X}$ ، ${}^5\text{X}$ ، ${}^6\text{X}$ ، ${}^7\text{X}$ ، ${}^8\text{X}$ ، ${}^9\text{X}$ ، ${}^{10}\text{X}$ و ${}^{11}\text{X}$ همگی پرتوزا هستند.

ت) هر چه نیم‌عمر یک ایزوتوپ کم‌تر باشد، ناپایدارتر است. بنابراین:

ایزوتوپ ${}^4\text{X}$ با نیم‌عمر ${}^{23}\text{s} \times 10^6 / 7$ از همه ناپایدارتر است.

۴۶- ۹۲ عنصر ۴۷- تکنسیم ۴۸- پرتوزایی - خطرناک

۴۹- نادرست، از تکنسیم در تصویربرداری پزشکی استفاده می‌شود.

۵۰- نادرست با افزایش مقدار یون حاوی تکنسیم در غده تیروئید، امکان تصویربرداری فراهم می‌شود.

۵۱- نادرست دلیل جذب یون حاوی تکنسیم به وسیله غده تیروئید، اندازه‌ی مشابه یون حاوی تکنسیم با یون یدید است.

۵۲- نادرست، تکنسیم هم در رآکتور هسته‌ای و هم در مولد هسته‌ای تولید می‌شود.

۵۳- نادرست، زمان ماندگاری (نیم‌عمر) $T_{1/2}$ ۹۹ کم است و نمی‌توان مقادیر زیادی از این عنصر را تهیه و برای مدت طولانی نگهداری کرد.

۵۴- نادرست، کیمیاگری یعنی تبدیل عنصرهای دیگر به طلا.

۵۵- نادرست تنها یکی از ایزوتوپ‌های اورانیم به عنوان سوخت رآکتورهای اتمی به کار می‌رود.

۵۶- نادرست، اغلب عنصرهای طبیعی مخلوطی از چند ایزوتوپ هستند.

۵۷- درست ۵۸- الف) تیروئید - یدید ب) ماندگاری پ) اورانیم - ${}^{235}\text{U}$

ت) تجمع گلوکز معمولی و گلوکز حاوی اتم پرتوزا در توده‌ی سرطانی



۵۹- ۲۲۵ pm، یون حاوی تکنسیم اندازه‌ی مشابهی با یون یدید دارد. ۶۰- ۹۲ عنصر

۶۱- الف) d، تکنسیم ب) رادیوایزوتوپ پ) ${}^{\text{I}}$ ، اورانیم ت) b، غنی‌سازی ایزوتوپی

۶۲- خواص شیمیایی ۶۳- مشابه

۶۴- عدد اتمی

۶۵- نادرست، براساس افزایش عدد اتمی

۶۶- نادرست، خواص عناصر در یک گروه شبیه به هم است نه در یک دوره. با پیدایش دوره‌ها از چپ به راست، خواص عناصر به طور مشابهی تکرار می‌شود.

۶۷- درست، کلر عضو گروه ۱۷، می‌تواند یون Cl^- تشکیل دهد. بنابراین عناصر هم‌گروه با Cl می‌توانند یون X^- تشکیل دهند.

برای حل سؤال‌های ۵۷ تا ۶۳ بایر به جدول کنتر دست‌باشه!

۶۸- نادرست، عنصر ${}^{35}\text{X}$ (Cl) بوده و در گروه ۱۷ قرار دارد و می‌تواند یون پایدار X^- تشکیل دهد.

۶۹- درست، ${}^{38}\text{Y}$ گاز نجیب آرگون (Ar) در گروه ۱۸ است و میل به واکنش‌پذیری ندارد.

۷۰- الف) d (${}^8\text{O}$) ب) i (گروه ۱۷) پ) f (${}^{38}\text{Sr}$) ت) h (${}^{36}\text{Kr}$) ث) c (${}^{32}\text{Ge}$)