

فصل اول: اقتصاد چیست؟

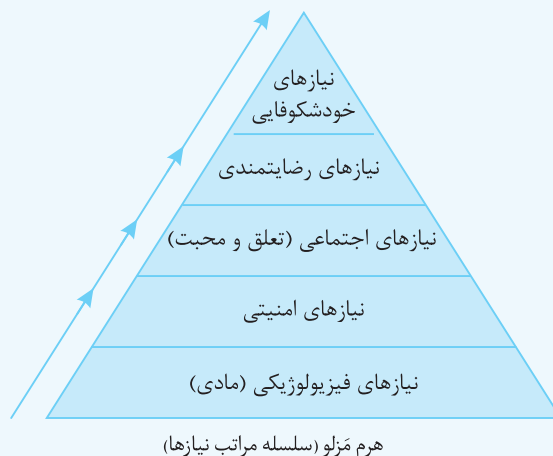
چرا علم اقتصاد را می‌آموزیم؟

نیازها: هر انسانی برای ادامه زندگی باید نیازهای گوناگون خود را برآورده کند.



انسان جانشین خدا روی زمین است ← پس اهداف، برنامه‌ها و مأموریت‌هایی دارد. مانند: «آبادانی زمین، رفع نیازهای خود و خانواده و هموعانش.»
 منبع رفع نیازها ← منابع و امکانات خدادادی است.
 نقش اقتصاد در رفع نیازها ← کمک به استفاده بهینه از منابع و امکانات و بهترین انتخاب‌ها
 محرک فعالیت و تلاش انسان ← نیازها هستند.
 بعد از رفع هر نیاز ← احساس رضایت ایجاد می‌شود.
 بعد از رفع یک نیاز ← احساس بی‌نیازی حاصل نمی‌شود بلکه ← نیازهای جدیدی ایجاد می‌شود پس ← انسان موجودی «کمال‌جو» است.
 نیازهای انسان دارای مراتبی است.

طبیعتاً اولین مرتبه از نیازهای انسان، نیازهای مادی است. مانند: «غذا، آب سالم، سرپناه، پوشاک» ← اما نیازهای انسان به نیازهای مادی محدود نمی‌شود بلکه نیازهای دیگری هم هستند که انسان بدون برطرف کردن آن‌ها به کمال نخواهد رسید؛ مثل: نیازهای عاطفی، روحی، نیاز به علم، هنر، فرهنگ و ...



برای رسیدن به خودشکوفایی و کمال ← علاوه بر نیازهای مادی باید سایر نیازها از جمله نیازهای عاطفی، روحی، علم‌آموزی، هنر و فرهنگ، دین و اخلاق، تعامل با دیگران و ... نیز مرتفع شود.

رفع پاره‌ای از نیازها ← عدم احساس بی‌نیازی ← شکل‌گیری نیازهای جدید ← کمال‌جویی

کافه نکته

۱) توقف در نیازهای مادی (یا حیوانی)، کمال‌جویی را به نوعی **سیری ناپذیری** تبدیل می‌کند. مانند رفع تشنگی با آب دریا که موجب عطش بیش‌تر می‌شود.

۲) توقف در یک مرحله از نیازها باعث ← خلق نیازهای کاذب و دروغین شده و موجب ← کمال‌گرایی منفی و در نتیجه ← موجب توقف، انحطاط و نابودی انسان می‌شود.

☕ کافه نکته

۱ تولیدکنندگان با فعالیت‌های خود، ارزش افزوده ایجاد می‌کنند، یعنی در محصولاتی که از قبل تولید شده‌اند یا در مواد اولیه و منابع و امکانات طبیعی، تغییراتی ایجاد کرده و باعث افزایش ارزش آن‌ها می‌شوند.

۲ ایجاد ارزش افزوده در محصولات نیز در گروه فعالیت‌های تولیدی و به‌عنوان تولید معرفی می‌شود.

۳ در واقع در تمام مراحل تولید یک کالا، تولیدکننده در حال ایجاد ارزش افزوده می‌باشد.

برداشت محصول آماده طبیعت بدون این‌که کاری روی آن انجام شود را **حیازت** می‌نامند که موجب مالکیت فرد در محصول برداشت شده می‌شود. مثل بهره‌برداری از علف مراتع، چوب جنگل‌ها، معادن و یا صید ماهی دریاها.

☕ کافه نکته

۱ حیازت از انواع تولید محسوب نمی‌شود، زیرا هیچ ارزش افزوده‌ای ایجاد نشده و محصول برداشت شده بدون تغییر از محیط به‌دست آمده است.

۲ بدون حیازت، اولین تولید انسان در گذشته امکان‌پذیر نبوده است.

انواع تولید

نوع اول تولید «احیا»: کار و تلاش انسان روی منابع و امکانات طبیعی در دسترس (مواد و منابع به‌دست آمده از حیازت) و با استفاده از ابزارآلات، که موجب تولید محصول می‌شود. مثل: زراعت، باغبانی، پرورش ماهی و گیاهان کلمه «احیا» به معنی «زنده کردن» است.

نوع دوم تولید «صنعت»: با ترکیب و تبدیل مواد حیازت شده و یا محصولات به‌دست آمده از احیا و ایجاد ارزش مصرفی یا مبادلاتی (و همچنین ایجاد ارزش افزوده) در آن‌ها محصول صنعتی به‌دست می‌آید. مثل: صنعت مواد غذایی، صنعت تولید پوشاک، صنعت پتروشیمی و ... در واقع در این نوع از تولید ماهیت منابع یا محصولات به‌دست آمده از احیا تغییر کرده و محصول جدیدی به‌دست می‌آید.

نوع سوم تولید «محصولات نرم یا خدمات»: در این نوع از تولید، محصول تولید شده محسوس و ملموس نیست (قابل لمس و قابل مشاهده نیست) اما می‌تواند برخی نیازهای انسان را مرتفع کند و دارای ارزش اقتصادی است.

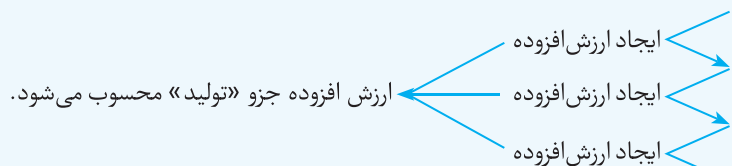
مثال فردی با برداشت گیاهان دارویی وحشی و استفاده از بذران‌ها توانسته به پرورش این گیاهان در باغچه منزل خود اقدام کند و سپس از ترکیب عصاره این گیاهان، داروهای درمانی تولید و به مصرف‌کنندگان بفروشد و بیماری‌های مختلف آن‌ها را درمان کند.

برداشت گیاهان دارویی خودرو ← حیازت

پرورش گیاهان با استفاده از بذران (نوع اول تولید) ← احیا

تولید داروهای درمانی (نوع دوم تولید) ← صنعت

درمان بیماری (نوع سوم تولید) ← محصولات نرم «خدمات»



(فارج ۹۸ - تغییر کلی)

۹۵ هر یک از موارد زیر به ترتیب، با چه عنوانی شناسایی می‌شود؟

الف) انسان محصول آماده طبیعت را مستقیماً برداشت می‌کند، بدون اینکه کاری روی آن انجام دهد، مثل بهره‌برداری از علف مراتع و چوب جنگل‌ها، این اقدام که موجب مالکیت فرد می‌شود، «.....» نام دارد.

ب) انسان با در اختیار داشتن منابع و محصولات طبیعی، همچنین با کار خود و استفاده از ابزار، منابع طبیعی را به تولید می‌رساند، مثل زراعت و پرورش ماهی، به این نوع از تولید، «.....» می‌گویند.

ج) نوعی دیگر از تولید که «.....» نام دارد، از ترکیب و تبدیل مواد آماده به‌دست آمده از طبیعت یا محصولات به‌دست آمده از احیای منابع طبیعی و ایجاد ارزش مصرفی یا مبادلاتی که در آن‌ها به وجود می‌آید، مثل صنایع غذایی و پتروشیمی.

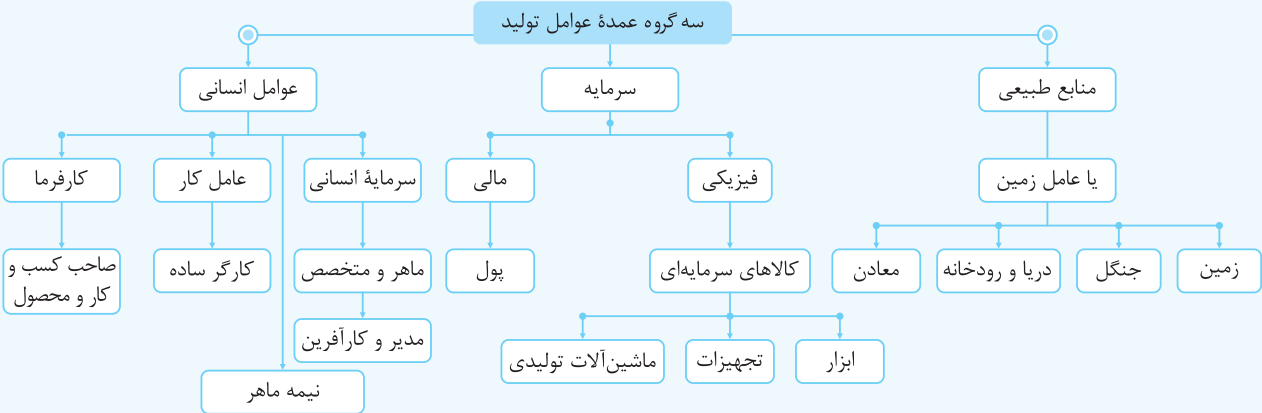
د) نوع سوم تولید، تولید محصولاتی است که محسوس و ملموس نیست و به عبارت امروزی، «.....» به‌شمار می‌رود؛ به این دسته از تولیدات، «.....» می‌گویند.

(۱) الف: حیازت ب: احیا ج: صنعت د: محصولات نرم - خدمات

(۲) الف: حیازت ب: احیا ج: صنعت د: محصولات کاربردی - کالاهای سرمایه‌ای

(۳) الف: احیا ب: حیازت ج: محصولات استراتژیکی د: محصولات راهبردی - خدمات

(۴) الف: احیا ب: حیازت ج: محصولات استراتژیکی د: محصولات نرم - کالاهای سرمایه‌ای



منابع طبیعی: منابع و امکانات طبیعی و خدادادی که در جریان تولید کالا و خدمات مورد استفاده قرار می‌گیرد، نام دیگر آن «زمین» می‌باشد.

کشاورزی ← زمین
صنایع چوبی ← چوب درختان جنگلی
شیلات ← دریا
انرژی ← آب پشت سدها

سرمایه

کافه نکته

- عوامل مورد نیاز برای بهره‌برداری از منابع طبیعی
- کار و تلاش انسان
- سرمایه (فیزیکی و مالی)

سرمایه فیزیکی: کالاهای بادوام سرمایه‌ای هستند که در جریان تولید از خدمات آنها استفاده می‌شود.

کافه نکته

- ۱ عامل سرمایه فیزیکی دارای عمر مفیدی بیش از یک سال است.
- ۲ به عامل سرمایه فیزیکی هزینه استهلاک تعلق می‌گیرد. (هزینه استهلاک در فصل چهارم آموزش داده می‌شود.)
- ۳ تولیدکننده با به‌کارگیری عامل سرمایه فیزیکی موجب افزایش ارزش محصولات می‌شود. (ایجاد ارزش افزوده)
- ۴ سرمایه فیزیکی حاصل کار گذشته انسان است که امروزه در فرایند تولید به‌کار گرفته می‌شود یعنی انسان در گذشته ابزارآلات و تجهیزات را ساخته و امروز از آنها استفاده می‌کند.

سرمایه مالی: تمام مبالغ و وجوهی که صرف خرید، اجاره و یا به‌کارگیری سایر عوامل تولید (مانند نیروی انسانی، سرمایه‌گذاری، زمین و...) می‌شود را سرمایه مالی می‌نامند.

کافه نکته

- ۱ سرمایه مالی نقش مستقیم در تولید ندارد.
- ۲ سرمایه مالی با تبدیل شدن به سایر عوامل تولید به این فرایند کمک می‌کند.

نیروی انسانی

فرایند تولید مستلزم کار و تلاش انسان بر روی منابع طبیعی است.

کافه نکته

- ۱ تا تلاش و کار انسان نباشد، منابع طبیعی به کالا و خدمات تبدیل نمی‌شود.
- ۲ نقش نیروی انسانی در فرایند تولید بی‌بدیل و بسیار مهم است زیرا ترکیب و تلفیق سایر عوامل برای تبدیل به محصول بر عهده او است.

- کارفرما (صاحب کسب و کار و محصول)
- نیروی انسانی ماهر (مدیر - کارآفرین - متخصص) (سرمایه انسانی)
- نیروی انسانی نیمه ماهر
- کارگر ساده (عامل کار یا نیروی کار)

کارفرما: صاحب کسب و کار و محصول تولید شده است.

سرمایه انسانی: مدیر، متخصص و کارآفرین که تخصص و تحصیل مرتبط با فرایند تولیدی دارد. (نیروی انسانی متخصص)

کارآفرین: فردی که با خلاقیت خود دست به نوآوری یک فرایند تولیدی جدید می‌زند و تمام ریسک و خطر آن را می‌پذیرد، کارآفرین نامیده می‌شود.

نیروی انسانی نیمه ماهر: که با استفاده از تجربه، به انجام فعالیت‌های مربوط به گروه خود می‌پردازد.

نیروی کار: همان کارگر ساده است که نیاز به تخصص و تحصیلات خاصی ندارد و فقط از او انتظار کار کردن می‌رود (نیروی کار ساده یا عامل کار).

سؤال میزان یا ضریب کارآفرینی چیست؟

خطرپذیری × نوآوری = میزان کارآفرینی

پاسخ در هر فعالیت اقتصادی، نوآوری ضربدر خطرپذیری، ضریب یا میزان کارآفرینی را بیان می‌کند.

کافه نکته علاوه بر سرمایه‌های نام برده شده انواع دیگری از سرمایه نیز وجود دارد؛ مانند:

۱ سرمایه‌های اجتماعی که شامل اخلاق، وفای به عهد، صداقت، احترام به قانون، مسئولیت‌پذیری و تعهد و ... می‌باشد.

۲ سرمایه معنوی که شامل ارزش‌ها و پایبندی افراد به آن‌ها می‌باشد که بسیار هم **مورد توجه اقتصاددانان** است.

(دراقل ۹۸ - با تغییر)

۱۱۲ همه عبارات‌ها بیانگر مفهوم کالای سرمایه‌ای است، به جز:

۱) در فرایند تولید، خدمات آن‌ها مورد استفاده قرار می‌گیرد.

۲) با تبدیل به عوامل تولید به فرایند تولید کمک می‌کند.

۳) در طول زمان بادوام هستند و تولیدکننده با آن‌ها ارزش افزوده ایجاد می‌کند.

۴) شامل ابزار تولید و تجهیزاتی است که به وسیله بنگاه‌های تولیدی به‌کار گرفته می‌شود.

۱۱۳ عوامل مولد انسانی عبارت‌اند از: صاحب کسب و کار و محصول یا و کارگر ساده یا ، از طرفی ابزار تولید یا به عنوان یکی دیگر

(قارچ ۹۸ - با تغییر)

از عوامل تولید در واقع حاصل کار گذشته انسان‌ها می‌باشد.

۱) مدیر - نیروی کار - سرمایه مالی

۲) کارفرما - نیروی کار - سرمایه فیزیکی

۳) کارآفرین - نیروی کار کم تخصص - منابع طبیعی

۴) متخصص - نیروی کار کم تخصص - منابع مادی

۱۱۴ چند مورد از جملات زیر درست است؟

الف) تولیدکنندگان محصولات مختلف به نهاده‌های تولید یکسانی نیاز دارند.

ب) به ورودی‌های مختلف هر فعالیت تولیدی، عوامل تولید می‌گویند.

ج) عوامل تولید، ورودی فعالیت تولیدی و نهاده‌های تولید، خروجی آن محسوب می‌شوند.

د) نیروی انسانی ساده به عنوان سرمایه انسانی، در تولید، نقش مهمی دارد.

ه) عامل زمین در گروه منابع طبیعی قرار گرفته و شامل جنگل‌ها و معادن نیز می‌شود.

۱) پنج ۲) هیچ‌کدام ۳) دو ۴) سه

۱۱۵ برای صید ماهی، از دریاها استفاده می‌شود که جزو یا اصطلاحاً محسوب می‌شود.

۱) امکانات خدادادی - عامل کار

۲) منابع طبیعی - عامل سرمایه

۳) منابع طبیعی - عامل زمین

۴) امکانات خدادادی - سرمایه فیزیکی

۱۱۶ مواد خامی که در فعالیت‌های صنعتی به‌کار گرفته می‌شود از کجا تهیه می‌شود و جزو کدام یک از عوامل تولیدی است؟

۱) بازار - عامل سرمایه

۲) معادن - عامل زمین

۳) ثروت‌های زیرزمینی - عامل کار

۴) منابع طبیعی - عامل تولید

۱۱۷ انسان برای بهره‌برداری از منابع طبیعی علاوه بر کار و تلاش خود به چه عامل دیگری نیاز دارد؟

۱) نیروی انسانی

۲) عامل زمین

۳) سرمایه اجتماعی

۴) عامل سرمایه

۱۱۸ در رابطه با سرمایه فیزیکی کدام گزینه نادرست است؟

۱) حاصل کار گذشته انسان‌ها است.

۲) با تبدیل به سایر عوامل به‌طور غیرمستقیم در تولید نقش ایفا می‌کند.

۳) کالاهای بادوام سرمایه‌ای که در جریان تولید به‌کار گرفته می‌شود.

۴) از خدمات آنها در طول زمان و در جریان تولید، استفاده می‌شود.

۱۱۹ در رابطه با سرمایه مالی می‌توان گفت:

۱) صرف خرید یا اجاره سایر عوامل می‌شود و با تبدیل به سایر عوامل به‌طور غیرمستقیم به تولید کمک می‌کند.

۲) صرف خرید یا اجاره سرمایه فیزیکی می‌شود و مهم‌ترین نقش را در تبدیل سایر عوامل به هم ایفا می‌کند.

۳) صرف راه‌اندازی فرایند تولید می‌شود و نقش بی‌بدیلی در ترکیب سایر عوامل تولید به عهده دارد.

۴) صرف راه‌اندازی خط تولید و تداوم و توسعه آن می‌شود و با تبدیل به سرمایه فیزیکی به تکذیب اهمیت نقش نیروی انسانی می‌پردازد.



۲۱۰. هرگاه به دلیل کمبود «یعنی فزونی تقاضا بر عرضه» قیمت به سمت قیمت تعادلی پیش برود، قیمت در بازار در چه وضعیتی است؟ (دافل ۸۵)

- (۱) در حال افزایش است.
- (۲) در حال کاهش است.
- (۳) در وضع ثبات است.
- (۴) وضع بازار در حالت «تورم رکودی» است.

۲۱۱. کدام مورد بیانگر قیمت تعادلی و مقدار تعادلی است؟ (دافل ۸۴)

- (۱) قیمت ۱۵۰ - مقدار تقاضا ۶۰ - مقدار عرضه ۱۵۰
- (۲) قیمت ۶۰ - مقدار تقاضا ۵۰ - مقدار عرضه ۶۰
- (۳) قیمت ۲۵۰ - مقدار تقاضا ۲۵۰ - مقدار عرضه ۳۰۰
- (۴) قیمت ۱۰۰ - مقدار تقاضا ۳۰۰ - مقدار عرضه ۳۰۰

۲۱۲. در کدام شرایط اتفاق زیر رخ می‌دهد؟ (فارج ۹۴)

«افزایش قیمت تا سطحی ادامه می‌یابد که در آن فاصله میان «عرضه و تقاضا» از بین برود و تعادل در بازار حفظ شود. این سطح قیمت همان قیمت تعادلی است.»

- (۱) هنگامی که در بازار قیمت از سطح قیمت تعادلی بالاتر برود و مازاد عرضه به وجود آید.
- (۲) هنگامی که در بازار کمبود اتفاق می‌افتد و قیمت از سطح قیمت تعادلی پایین‌تر باشد.
- (۳) زمانی که گروهی از تولیدکنندگان موفق نشوند کالایشان را بفروشند و حاضر شوند آن را با قیمتی پایین‌تر به فروش برسانند.
- (۴) زمانی که از یک سو مصرف‌کنندگان در حال افزایش مقدار خرید خود و از سوی دیگر تولیدکنندگان در حال کاهش میزان تولید باشند.

۲۱۳. اگر تولیدکنندگان بیش از مقدار خرید مصرف‌کنندگان، کالا تولید کنند و اگر مصرف‌کنندگان بیش از تولید تولیدکنندگان، کالا بخواهند، دچار مشکل خواهند شد، پس این دو گروه باید هماهنگ باشد، عاملی که این هماهنگی و تعادل را ایجاد می‌کند است. (فارج ۹۳)

- (۱) رفتار اقتصادی - قیمت کالا
- (۲) تصمیم اقتصادی - کمیّت کالا
- (۳) اندیشه اقتصادی - کیفیت کالا
- (۴) اندیشه اقتصادی - تعادلی بودن قیمت کالا

۲۱۴. هرگاه در بازار، قیمت در سطح قیمت تعادلی نباشد: (فارج ۹۳)

- (۱) عواملی آن را به سطح قیمت تعادلی می‌کشاند.
- (۲) دلیلی بر ناهماهنگی و عدم تعادل بین مصرف‌کننده و تولیدکننده است.
- (۳) دلیل عمده اش کمبود، یعنی فزونی تقاضا بر عرضه است.
- (۴) دلیل اصلی و مهم آن مازاد، یعنی فزونی عرضه بر تقاضا است.

۲۱۵. با توجه به جدول روبه‌رو به سؤالات پاسخ دهید:

عرضه	قیمت	تقاضا
۱۵	۲۰۰۰	۷۰
۳۰	۳۲۰۰	۵۷
۵۰	۴۰۰۰	۵۰
۶۲	۵۱۰۰	۲۶
۸۰	۶۰۰۰	۱۲

الف) در قیمت تعادلی، دریافتی تولیدکننده چه میزان است؟

ب) در قیمت ۲۰۰۰، درآمد تولیدکننده چه میزان است؟

ج) در بالاترین قیمت، مردم چه مبلغی برای خرید کالا می‌پردازند؟

د) در قیمت ۳۲۰۰ میزان مازاد عرضه یا کمبود عرضه نسبت به تقاضا چه قدر است؟

ه) در قیمت ۵۱۰۰ میزان مازاد یا کمبود عرضه نسبت به تعادل چه قدر است؟

- (۱) الف: ۲۰۰,۰۰۰؛ ب: ۱۴۰,۰۰۰؛ ج: ۴۸۰,۰۰۰؛ د: ۲۷ واحد مازاد عرضه ه: ۳۶ واحد مازاد عرضه
- (۲) الف: ۵۰؛ ب: ۱۴۰,۰۰۰؛ ج: ۷۲,۰۰۰؛ د: ۲۷ واحد کمبود تقاضا ه: ۲۴ واحد کمبود تقاضا نسبت به عرضه
- (۳) الف: ۲۰۰,۰۰۰؛ ب: ۳۰,۰۰۰؛ ج: ۷۲,۰۰۰؛ د: ۲۷ واحد کمبود عرضه ه: ۱۲ واحد مازاد عرضه نسبت به تعادل
- (۴) الف: ۴,۰۰۰؛ ب: ۳۰,۰۰۰؛ ج: ۶۰۰۰؛ د: ۲۷ واحد مازاد تقاضا ه: ۳۶ واحد کمبود عرضه

۲۱۶. هرگاه در بازار قیمت یک کالای معمولی در حال کاهش باشد، فاصله بین عرضه و تقاضا با این کاهش قیمت، و به حالت نزدیک می‌شود.

- (۱) ثابت می‌شود - تعادل
- (۲) افزایش می‌یابد - فزونی تقاضا بر عرضه
- (۳) کاهش می‌یابد - فزونی عرضه بر تقاضا
- (۴) کاهش می‌یابد - تعادل

۲۱۷. زمانی که تقاضا بر عرضه فزونی بگیرد،

- (۱) قیمت‌ها افزایش می‌یابد و فاصله بین عرضه و تقاضا کاهش می‌یابد.
- (۲) قیمت‌ها افزایش می‌یابد و فاصله بین عرضه و تقاضا افزایش می‌یابد.
- (۳) قیمت‌ها کاهش می‌یابد و فاصله بین عرضه و تقاضا افزایش می‌یابد.
- (۴) قیمت‌ها کاهش می‌یابد و فاصله بین عرضه و تقاضا کاهش می‌یابد.

فصل چهارم: آشنایی با شاخص‌های اقتصادی

چگونه میزان فعالیت‌های اقتصادی را در سطح جامعه اندازه‌گیری کنیم؟

اقتصاددانان برای

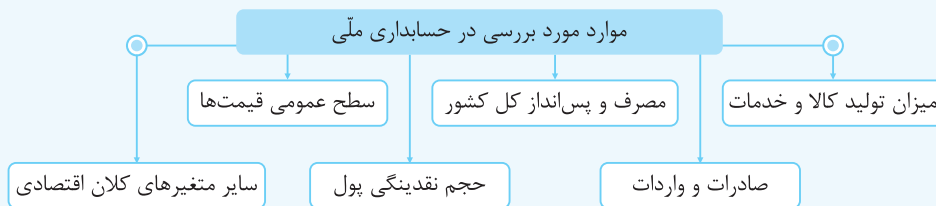
- ۱- بررسی وضعیت موجود جامعه
 - ۲- اندازه‌گیری فعالیت‌های اقتصادی
 - ۳- ارزیابی نتایج سیاست‌های اقتصادی به‌کارگرفته‌شده و روند تغییرات
- به آمار و شاخص‌های اقتصادی، یعنی همان سنج‌های اقتصادی نیاز دارند.

کافه نکته دلیل اهمیت سنج‌ها و شاخص‌های اقتصادی چیست؟

هرگونه اشتباه در اندازه‌گیری آن‌ها موجب اشتباه در تشخیص بیماری‌های اقتصادی و یا ایجاد مانع در روند بهبودی و درمان آن‌ها می‌شود.

- سطوح چهارگانه آمارهای اقتصادی**
- ۱- خُرد: شامل خانوار، شرکت‌ها و مؤسسات تولیدی
 - ۲- شهری
 - ۳- منطقه‌ای
 - ۴- کلان: ملی و بین‌المللی

مسابدهای ملی: شاخه‌ای از مطالعات اقتصادی است که به بررسی و اندازه‌گیری میزان فعالیت‌های اقتصادی در سطح ملی و در قالب شاخص‌های مختلف اقتصادی می‌پردازد.



کافه نکته برای ارائه تصویری روشن از اقتصاد و مطالعه تغییرات آن و اندازه‌گیری سطح رفاه مردم، به بررسی و اندازه‌گیری اطلاعات و داده‌های مرکز آمار، سازمان مدیریت و برنامه‌ریزی و یا بانک مرکزی می‌توان مراجعه کرد.

سؤال علت اهمیت بسیار زیاد حسابداری ملی و آمارهای اقتصادی چیست؟

پاسخ تصویری روشن از اقتصاد کشور و روند تغییرات ایجادشده در آن و همچنین سطح رفاه مردم کشور ارائه می‌کند.

کافه نکته گاهی در جنگ اقتصادی با ارائه آمارهای غلط، ذهنیت نادرستی در بین مردم ایجاد می‌کنند و یا حتی موجب اشتباه محاسباتی در بین مسئولان و نخبگان می‌شوند.

بیشتر بدانیم: یکی از ضروریات برنامه‌ریزی و تدوین چشم‌انداز برای آینده، داشتن آمار دقیق و اصولی است. به طوری‌که ارائه آمار اشتباه نظام برنامه‌ریزی کشور را با مشکل جدی مواجه می‌سازد. ارائه آمار غلط موجب دل‌سردی و بی‌اعتمادی مردم می‌شود.

(دافل ۹۸ - با تغییر)

۲۲۹ کدام سطح از سطوح چهارگانه آمارهای اقتصادی، خُرد محسوب می‌شود؟

- (۱) روستایی، شهری و منطقه‌ای
- (۲) شهری، منطقه‌ای و کلان
- (۳) خانوار یا بنگاه‌های تولیدی و خدماتی
- (۴) خانوار، شرکت‌ها و مؤسسات تولیدی

۲۳۰ شاخه‌ای از است که به بررسی و اندازه‌گیری میزان فعالیت‌های اقتصادی در سطح ملی می‌پردازد. مثلاً میزان تولید کالاها و خدمات را در جامعه بررسی می‌کند.

(سراج ۹۳)

- (۱) حسابداری ملی - مطالعات اقتصادی
- (۲) مالیه عمومی - علوم اجتماعی
- (۳) بودجه عمومی - علم مدیریت
- (۴) درآمد ملی - علم اقتصاد

۲۳۱ کدام گزینه جزو دلایل به‌کارگیری سنج‌های اقتصادی توسط اقتصاددانان نیست؟

- (۱) بررسی نتایج سیاست‌های اقتصادی به‌کارگرفته‌شده
- (۲) عدم وجود شاخص‌های اقتصادی معتبر
- (۳) بررسی وضعیت موجود در جامعه
- (۴) اندازه‌گیری سطح فعالیت‌های اقتصادی

۲۶۰) مندرجات جدول زیر مربوط به اطلاعات استخراجی از حساب‌های ملی کشوری فرضی است. با توجه به داده‌های مذکور، سهم تولید خارجیان مقیم

(قارح ۹۸)

۶۵۵ هزار میلیارد تومان	تولید ناخالص ملی	۱
۴۵ هزار میلیارد تومان	سهم تولید مردم کشور که در خارج اقامت دارند.	۲
۶۵۰ هزار میلیارد تومان	تولید ناخالص داخلی	۳

کشور، کدام است؟

- ۳۰ (۱)
- ۳۵ (۲)
- ۴۰ (۳)
- ۴۵ (۴)

۲۶۱) تقسیم‌بندی شاخص‌های اندازه‌گیری تولید کل براساس اهمیت محدوده مکانی چگونه است و در این رابطه، کدام گزینه درست است؟

- ۱) دو دسته داخلی و ملی - محاسبه ارزش کالاها و خدماتی که توسط افراد کشور و خارجیان مقیم کشور در داخل مرزهای جغرافیایی تولید شده را تولید داخلی و محاسبه ارزش تولید کالاها و خدماتی که توسط افراد یک ملت چه در داخل کشور خود و یا در کشوری که مقیم آن هستند را تولید ملی می‌نامند.
- ۲) سه دسته داخلی، ملی و بین‌المللی - محاسبه ارزش خدمات و کالاهای تولیدی در سراسر جهان را که توسط مردم یک کشور صورت گرفته، تولید بین‌المللی می‌نامند و محاسبه ارزش کالا و خدماتی را که در داخل کشور توسط افراد همان کشور تولید شده، تولید داخلی می‌نامند.
- ۳) دو دسته داخلی و ملی - محاسبه ارزش خدمات و کالاهایی که توسط افراد یک ملت چه در داخل کشور خود و یا در کشوری که مقیم آن هستند، تولید شده را تولید ملی می‌نامند و محاسبه ارزش خدمات و کالاهایی که در داخل کشور توسط افراد بومی کشور تولید شده را تولید داخلی می‌نامند.
- ۴) سه دسته داخلی، ملی و بین‌المللی - محاسبه ارزش خدمات و کالاهایی که توسط افراد کشور و خارجیان مقیم کشور در داخل مرزهای جغرافیایی تولید شده را تولید داخلی و محاسبه ارزش خدمات و کالاهایی که در سراسر جهان توسط مردم یک کشور تولید شده را تولید بین‌المللی می‌نامند.

۲۶۲) محاسبه ارزش تمام کالاها و خدمات نهایی که در طول یک سال، توسط افراد یک ملت چه در داخل کشور خود و چه در کشوری دیگری که مقیم آن هستند، صورت گرفته را می‌نامند.

- ۱) تولید ناخالص ۲) تولید ملی ۳) تولید خالص ۴) تولید داخلی

۲۶۳) ارزش پولی تمام کالاها و خدمات نهایی که در طول یک سال در داخل مرزهای جغرافیایی یک کشور توسط افراد همان کشور و یا خارجیان مقیم کشور تولید می‌شود با عنوان معرفی می‌شود.

- ۱) تولید ناخالص ۲) تولید ملی ۳) تولید داخلی ۴) تولید خالص

۲۶۴) ترازو و معیار واحدی که در حسابداری ملی برای سنجش تولید مورد استفاده قرار می‌گیرد، کدام است؟

- ۱) وزن ۲) شاخص ملی ۳) شاخص داخلی ۴) پول

۲۶۵) علامت اختصاری تولید ناخالص ملی و تولید ناخالص داخلی به ترتیب کدام است؟ (از راست به چپ)

- ۱) GNP-GDP ۲) GDP-GNP ۳) GND-DNP ۴) DNP-GND

۲۶۶) بالا بودن میزان شاخص‌های تولید داخلی و ملی بیانگر چه واقعیتی است؟

- ۱) قدرت اقتصادی و تولید بیشتر و بهره‌وری بالاتر کشور و استفاده بهینه از همه عوامل تولید
- ۲) قدرت نظامی و سیاسی و سطح بالاتر توسعه یافتگی و بهره‌برداری بیشتر از همه عوامل تولید
- ۳) قدرت اقتصادی و تولیدی بیشتر و سطح توسعه یافتگی بالاتر و استفاده بی‌رویه از همه عوامل و امکانات
- ۴) قدرت نظامی و سیاسی و بهره‌وری بالاتر کشور و استفاده بی‌رویه از همه عوامل و امکانات

۲۶۷) شاخص‌هایی که در برخی موارد برای بیان درجه پیشرفت یک ملت و سطح زندگی افراد آن به کار گرفته می‌شود، کدام‌اند؟

- ۱) تولید خالص و ناخالص بین‌المللی ۲) شاخص‌های پولی و مالی بانک مرکزی
- ۳) درآمدها و هزینه‌های جاری دولت ۴) تولید داخلی و تولید ملی

۲۶۸) در رابطه با شاخص‌های اندازه‌گیری تولید کل کدام گزینه کاملاً درست است؟

- ۱) این دو شاخص نه در تعریف و نه در عمل هیچ شباهتی با هم ندارند و مطلقاً به جای یکدیگر مورد استفاده قرار نمی‌گیرند.
- ۲) این دو شاخص چه در تعریف و چه در عمل تفاوت چندانی با هم ندارند و غالباً از یکی به جای دیگری استفاده می‌شود.
- ۳) این دو شاخص در تعریف تفاوت چندانی با هم ندارند، اما در اغلب موارد در عمل تفاوت فاحشی با هم دارند.
- ۴) این دو شاخص در تعریف متفاوت، اما در عمل جز در موارد استثناء تفاوت چندانی با هم ندارند.

پاسخنامه تشریحی سؤالات بخش اول



- ۱۷ گزینه ۳ ملاک بهترین استفاده از منابع و امکانات، کسب بیشترین میزان از منافع و تولید به منظور ایجاد سطح بالاتری از رفاه برای انسان است.
- ۱۸ گزینه ۲ این تمهیداتی که در این کشور فرضی صورت گرفته بیانگر این است که آن‌ها توانسته‌اند بهترین استفاده از منابع و امکانات در دسترس را داشته باشند و به سطح بالاتری از تولید و در نتیجه رفاه دست یابند.
- ۱۹ گزینه ۴ افراد با عقلانیت محدود، گاهی در تعیین فهرست کامل هزینه‌ها و ضررها و میزان آن‌ها دچار خطا می‌شوند. آن‌ها منافع را صرفاً در منافع مادی و حیوانی خلاصه می‌کنند و یا صرفاً نگاهی کوتاه مدت دارند.
- ۲۰ گزینه ۴ انسان‌ها براساس آفرینش و فطرت الهی خود در هر انتخابی که انجام می‌دهند به دنبال بیشترین منافع و کمترین هزینه و ضرر هستند.
- ۲۱ گزینه ۱ به طور طبیعی در صورتی که در یک انتخاب، هزینه‌ها بیشتر از منافع باشد، تولیدکننده از آن کار صرف نظر می‌کند؛ زیرا همه به دنبال منفعت هستند نه زیان.
- ۲۲ گزینه ۴ این که عملکرد او برخلاف اخلاقیات است، مورد بحث نیست. این شخص ممکن است در تشخیص منافع و هزینه‌ها (که در این جا منافع اجتماعی مدنظر است) دچار اشتباه شده باشد، اما قطعاً در روش انتخاب هزینه - فایده درست عمل کرده است.
- ۲۳ گزینه ۳ برخی از افراد عقلانیت محدود دارند و منافع کوتاه مدت و صرفاً مادی را به منافع بلندمدت ترجیح می‌دهند. قطعاً تولیدکننده‌ای که برای کاهش هزینه‌های خود از نیروی کار غیرقانونی یا کم تجربه و غیرمتخصص استفاده می‌کند، با نگاه کوتاه مدت خود به تولید، از منافع بلندمدتی که می‌توانست نصیب خود و جامعه کند صرف نظر کرده است.
- ۲۴ گزینه ۲ فروشنده‌ای که با به کارگیری مواد اولیه ارزان قیمت میزان سود خود را در کوتاه مدت افزایش می‌دهد، نگاه کوتاه مدت و صرفاً مادی به عملکرد خود دارد و عقلانی رفتار نکرده و به طور یقین با این کار اعتماد مشتری را در آینده از دست خواهد داد.
- ۲۵ گزینه ۳ کشورهای موفق و توسعه یافته در فرایند تولیدی خود به منافع آینده توجه داشته و عقلانی رفتار کرده‌اند؛ یعنی نگاه بلندمدت داشته‌اند.
- ۲۶ گزینه ۴ براساس قانون حیات انسانی هر انتخابی که صورت می‌گیرد مستلزم از دست دادن انتخاب یا انتخاب‌های دیگری است.
- ۲۷ گزینه ۱ مفهوم (بده - بستان) در زندگی بشر به این معنی است که در ازای هر انتخابی، انتخاب یا انتخاب‌های دیگری را از دست می‌دهیم.
- ۲۸ گزینه ۳ انسان‌ها و جوامع، همیشه بهترین و برترین گزینه خود را از نظر منافع، انتخاب می‌کنند (اگرچه همان طور که گفته شد ممکن است در تشخیص دقیق این منافع و هزینه‌ها دچار اشتباه شوند).
- ۲۹ گزینه ۲ افراد برای انجام فعالیت‌ها، لیستی از انتخاب‌هایشان را براساس محاسبه منافع حاصل از فروش و مشورت با دیگران و مطالعه خود، از بالا به پایین، مرتب می‌کنند، یعنی با ارزش‌ترین انتخاب در صدر لیست و انتخاب‌های دیگر به ترتیب ارزش در سطرهای بعدی قرار می‌گیرد.

- ۱ گزینه ۳ احساس رضایت از رفع یک نیاز به معنای کمال جو بودن انسان نمی‌باشد.
- ۲ گزینه ۲ رفع پاره‌ای از نیازهای انسان کمال جو موجب شکل‌گیری نیازهای جدیدی در او می‌شود.
- ۳ گزینه ۳ اولین مرتبه از نیازهای انسان به طور طبیعی، غذا، آب سالم، سرپناه، امنیت و پوشاک است که به عنوان نیازهای مادی و اولیه معرفی می‌شود.
- ۴ گزینه ۱ نیازهای عاطفی و معنوی در مراتبی بالاتر از نیازهای اولیه قرار می‌گیرند.
- ۵ گزینه ۳ منبع رفع نیازهای انسان، منابع و امکانات موجود و در دسترس می‌باشد.
- ۶ گزینه ۱ محرک فعالیت و تلاش انسان نیازهای او می‌باشد.
- ۷ گزینه ۲ با رفع پاره‌ای از نیازها احساس رضایت در فرد ایجاد می‌شود، اما احساس بی‌نیازی در او ایجاد نمی‌شود، بلکه نیازهای جدیدی برای او به وجود می‌آید.
- ۸ گزینه ۱ توقف در یک مرتبه از نیازها موجب انحطاط، نابودی و توقف انسان می‌شود.
- ۹ گزینه ۳ در صورتی که انسان در یک مرحله از نیازها مثل نیازهای مادی متوقف شود، کمال جویی به نوعی سیری ناپذیری تبدیل می‌شود (یعنی خلق نیازهای کاذب در همان مرحله).
- ۱۰ گزینه ۲ در یک تصویر ساده از زندگی انسان با دو مفهوم اساسی نیازها و منابع و امکانات مواجه می‌شویم.
- ۱۱ گزینه ۲ از نظر اقتصاددانان «کمیایی» به وضعیتی اطلاق می‌شود که شامل دو مورد زیر باشد:
- الف) منابع و امکانات در دسترس بشر محدودند.
- ب) حتی اگر مشکل کمبود منابع نباشد، اما انسان در بهره‌برداری از این منابع با قابلیت‌های بهره‌برداری و روش‌های مختلف بهره‌برداری دچار محدودیت می‌شود.
- ۱۲ گزینه ۴ انسان به عنوان جانشین خدا روی زمین اهداف و برنامه‌هایی در جهت آبادانی زمین و رفع نیازهای خود و هموعانش دارد که با کار و تلاش بر روی منابع و امکانات در دسترس محقق می‌شود.
- ۱۳ گزینه ۲ در رابطه با منابع و امکانات دو نکته وجود دارد:
- ۱- منابع و امکانات در دسترس بشر (انسان)، محدود است.
- ۲- منابع و امکانات محدود، قابلیت مصارف و روش‌های بهره‌برداری متعدد و مختلف را دارند.
- ۱۴ گزینه ۱ منابع و امکانات موجود در جهان، نامحدود هستند، بلکه این منابع و امکانات در دسترس بشر است که محدود هستند.
- ۱۵ گزینه ۲ انسان به دلیل محدودیت‌هایش نمی‌تواند همه آنچه را که می‌خواهد همزمان داشته باشد، پس باید دست به انتخاب بزند.
- ۱۶ گزینه ۴ یکی از مهم‌ترین مسائل زندگی بشر و موضوع اصلی علم اقتصاد، مسئله انتخاب است.

۱۵۴ گزینه ۴

نکته در این سؤال درآمد تولید از حاصل ضرب کالای فروخته شده در قیمت حاصل می‌شود و تعداد کالای تولید شده در درآمد نقشی ندارد، اما در هزینه‌ها حتماً باید هزینه کل کالاهای تولید شده را حساب کنیم.

قیمت هر واحد × تعداد کالای فروخته شده = درآمد تولیدکننده

$$= 3,000,000 \times 1000 = 3,000,000 \text{ دلار}$$

$$\text{دلار } 350,000 \times 100 = 35,000,000 = \text{هزینه‌های مستقیم تولید } 350 \text{ واحد کالا}$$

$$\text{دلار } 140,000,000 = 3,500 \times 40 = \text{هزینه غیرمستقیم (با هزینه فرصت) } 350 \text{ واحد کالا}$$

$$= 35,000,000 + 140,000,000 = \text{مجموع هزینه‌های مستقیم و غیرمستقیم}$$

$$= 490,000 \text{ دلار}$$

هزینه‌های مستقیم - درآمد = سود حسابداری

$$= 3,000,000 - 350,000 = 2,650,000 \text{ دلار}$$

(سود اقتصادی) (ویژه) سود مندرج در اظهارنامه مالیاتی

مجموع هزینه‌های مستقیم و غیرمستقیم - درآمد =

$$= 3,000,000 - 490,000 = 2,510,000 \text{ دلار}$$

با توجه به مطالب مندرج در کتاب، گزینه (۴) مورد نظر سؤال

۱۵۵ گزینه ۴

است.

$$\text{دلار } 24,000,000 = 400 \times 60,000 = \text{درآمد تولیدکننده}$$

$$= 8,000,000 \text{ هزینه‌های مستقیم}$$

(الف)

هزینه‌های مستقیم - درآمد = سود حسابداری

$$= 24,000,000 - 8,000,000 = 16,000,000 \text{ دلار}$$

(ب) حسابداری

(ج) ویژه (اقتصادی)

(د) سود ویژه - سود حسابداری = هزینه فرصت

$$= 16,000,000 - 4,000,000 = 12,000,000 \text{ دلار}$$

$$\frac{12,000,000}{400} = \frac{\text{هزینه فرصت کل}}{\text{تعداد کالا}} = \text{هزینه فرصت برای هر واحد کالا}$$

$$= 30,000 \text{ دلار}$$

۱۵۷ گزینه ۴

نکته ۱ - سودی که در اظهارنامه وارد نمی‌شود، سود حسابداری است.
نکته ۲ - همچنین تفاوت سود حسابداری و سود ویژه، برابر است با هزینه فرصت، یعنی در این مسئله هزینه فرصت برابر ۶۳ میلیون تومان است.

$$\text{تومان } 65,000,000 = 10,000 \times 65,000 = \text{درآمد تولید کننده}$$

$$= 125,000 \times \text{تعداد کالا} = \text{مجموع هزینه‌های مستقیم}$$

$$= 10,000 \times 12,500 = 125,000,000 \text{ تومان}$$

هزینه‌های مستقیم - درآمد = سود حسابداری

$$= 65,000,000 - 125,000,000 = 525,000,000 \text{ تومان}$$

(د)

$$\text{درآمد حاصل از تولید} = \frac{8,000,000}{20,000} = 4000 = \text{تعداد محصول فروخته شده}$$

قیمت هر واحد

واحد کالا به فروش رسیده است.

۱۵۲ گزینه ۱

قیمت × تعداد کالا = درآمد تولیدکننده

$$= 1200 \times 900,000 = 1,080,000,000 \text{ تومان}$$

+ اجاره کالای سرمایه‌ای سالانه + اجاره کارگاه (سالانه) = هزینه‌های مستقیم

حقوق سالانه نیروی انسانی + هزینه سالانه مواد اولیه

$$= 140,000,000 + 8,000,000 + 25,000,000 = \text{هزینه‌های مستقیم}$$

$$\text{تومان } 590,000,000 = (10,000,000 \times 12 \text{ (ماه)}) +$$

$$\text{تومان } 58,000,000 = \text{هزینه غیر مستقیم}$$

(الف) هزینه‌های مستقیم - درآمد = سود حسابداری

$$= 1,080,000,000 - 590,000,000 = 490,000,000 \text{ تومان}$$

(ب) مجموع هزینه‌های مستقیم و غیرمستقیم - درآمد = سود ویژه

$$= 1,080,000,000 - (590,000,000 + 58,000,000)$$

$$\text{تومان } 432,000,000 = \text{سود ویژه}$$

سود مندرج در اظهارنامه مالیاتی همان سود ویژه (با سود اقتصادی) است.

سود حسابداری وارد اظهارنامه مالیاتی نمی‌شود.

۱۵۳ گزینه ۳

نکته در این سؤال تعداد کالای فروخته شده برای محاسبه درآمد منظور می‌شود.

قیمت × تعداد کالای تولید شده و فروخته شده = درآمد تولیدکننده

$$= 55,000 \times 20,000 = 1,100,000,000 \text{ تومان}$$

نکته چون شخص در کارگاه شخصی خود کار می‌کند، یعنی اجاره

نمی‌پردازد، پس اجاره محل کار در هزینه‌های مستقیم وارد نمی‌شود و

اجاره به عنوان هزینه غیرمستقیم منظور می‌شود.

$$\text{تومان } 110,000,000 = 10\% \times 1,100,000,000 = \text{هزینه استهلاک}$$

خرید مواد اولیه + هزینه استهلاک + حقوق سالانه = هزینه‌های مستقیم

$$= 214,000,000 + 110,000,000 + 196,000,000 = \text{هزینه‌های مستقیم}$$

$$\text{تومان } 520,000,000 = \text{هزینه‌های مستقیم}$$

اجاره کارگاه = هزینه‌های غیرمستقیم

$$\text{تومان } 180,000,000 = (12 \text{ (ماه)}) \times 15,000,000 =$$

$$= 520,000,000 + 180,000,000 = \text{جمع هزینه‌های مستقیم و غیرمستقیم}$$

$$= 700,000,000 \text{ تومان}$$

(الف) هزینه‌های مستقیم - درآمد = سود حسابداری

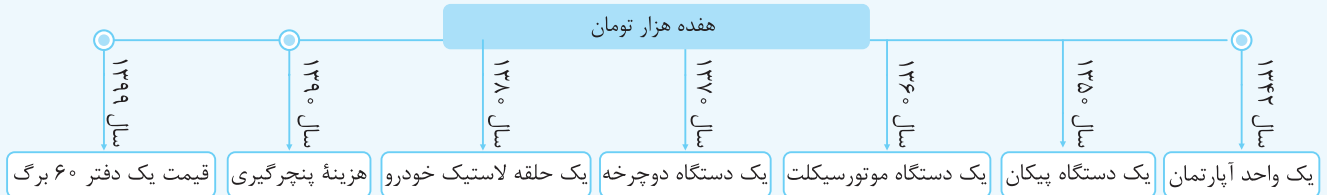
$$= 1,100,000,000 - 520,000,000 = 580,000,000 \text{ تومان}$$

(ب) مجموع هزینه‌های مستقیم و غیرمستقیم - درآمد = سود ویژه

$$= 1,100,000,000 - 700,000,000 = 400,000,000 \text{ تومان}$$

قدرت خرید پول

به مثال زیر توجه کنید:



همان طور که می بینید یک واحد معین پول در طول زمان نتوانسته ارزش خود را حفظ کند، در این صورت می گوییم قدرت خریدش را از دست داده است؛ یعنی اگر در سال ۴۲ قدرت خرید، ۱۷ هزار تومان پول، برابر خرید یک واحد آپارتمان بوده است، بعد از گذشت ۵۷ سال همین مقدار پول به اندازه هزینه خرید یک دفتر قدرت دارد.

کافه نکته

- قدرت خرید پول به سطح عمومی قیمت ها در جامعه بستگی دارد؛ یعنی هر چه سطح عمومی قیمت ها افزایش یابد، «قدرت خرید پول» کاهش می یابد و برعکس، هر چه سطح عمومی قیمت ها کاهش یابد، «قدرت خرید پول» افزایش می یابد.
 - هر چه حجم پول نسبت به تولید جامعه کم تر باشد (یعنی پول در دست مردم کم تر از کالاها و خدمات تولید شده در جامعه باشد) قدرت خرید پول بیشتر می شود و هر چه حجم پول نسبت به تولید بیشتر شود، قدرت خرید پول متناسب با آن کاهش می یابد.
- به مثال دقت کنید:

مثال فرض کنید بانک مرکزی پول جدیدی را چاپ و وارد بازار کند، اما متناسب با این پول جدید، کالایی تولید نشده باشد. از آنجایی که پول جدید باعث افزایش درآمد مردم و در نتیجه افزایش تقاضای کل می شود، قیمت کالاها موجود در بازار که قبلاً تولید شده اند با سرعت، افزایش می یابد.

تورم و روند شکل گیری آن

تورم از نظر علم اقتصاد، شتاب یا نرخ رشد افزایش سطح قیمت هاست.

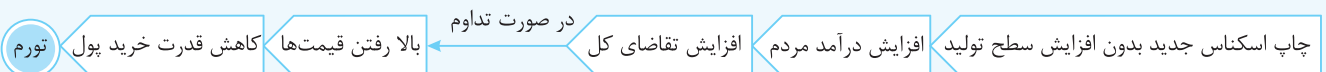
تورم به معنی افزایش سطح عمومی قیمت هاست.

اگر افزایش قیمت ها به صورت بی رویه، پرنوسان و مداوم باشد، با تورم مخرب و بد مواجه هستیم.

تورم به علت فزونی گرفتن تقاضای کل بر عرضه به وجود می آید:

اگر افزایش پول در جامعه با افزایش تولید هماهنگ نباشد، می تواند سبب تورم شود.

کافه نکته هرگاه حجم پول در دست مردم با میزان تولید کالا و خدمات هماهنگ نباشد، قیمت ها افزایش می یابد؛ یعنی قدرت خرید پول کاهش یافته و ارزش پول نیز کاهش می یابد و این مسئله خود را به صورت تورم نشان می دهد.



کافه نکته اولین پیامد چاپ اسکناس جدید، افزایش درآمد مردم است و نتیجه نهایی آن ایجاد تورم در اقتصاد می باشد.

محاسبه نرخ تورم

برای محاسبه نرخ تورم از فرمول روبه رو استفاده می شود:

شاخص قیمت ها به معنی میانگین قیمت ها می باشد.

$$\text{نرخ تورم} = \frac{\text{سطح (شاخص) قیمت های قدیم - سطح (شاخص) قیمت های جدید}}{\text{سطح (شاخص) قیمت های قدیم}}$$

سؤال اگر سطح (شاخص) قیمت ها، در ابتدای سال، ۲۵۰۰۰ تومان باشد و در انتهای سال (با وجود تورم مخرب)، سطح (شاخص) قیمت ها به

۳۵۰۰۰ تومان رسیده باشد، نرخ تورم را محاسبه کنید؟

$$\text{نرخ تورم} = \frac{۳۵۰۰۰ - ۲۵۰۰۰}{۲۵۰۰۰} = \frac{۱۰۰۰۰}{۲۵۰۰۰} = \frac{۴۰}{۱۰۰} = ۴۰\%$$

پاسخ

سؤال کاهش نرخ تورم به چه معنی است؟

پاسخ کاهش نرخ تورم به معنی کاهش سطح عمومی قیمت ها نیست، یعنی انتظار ارزان تر شدن کالاها را نداشته باشید، بلکه به این معنی است که شتاب افزایش قیمت ها، کندتر از قبل شده و قیمت ها با شتابی کم تر از قبل همچنان افزایش می یابند.

۴۷) اگر شاخص قیمت‌ها در سه سال فرضی به ترتیب ۴۵,۰۰۰، ۵۴,۰۰۰ و ۶۵,۰۰۰ دلار باشد، در صورتی که نرخ تورم در سال چهارم نسبت به نرخ تورم

در سال سوم و دوم کم‌تر شده باشد، شاخص قیمت‌ها در این سال چه عددی می‌تواند باشد؟

- ۱) ۶۵,۰۰۰ ۲) ۷۱,۰۰۰ ۳) ۵۰,۰۰۰ ۴) ۵۵,۰۰۰

۴۸) اگر شاخص قیمت‌ها در انتهای سال فرضی ۸۷ برابر ۱۹,۷۲۰ تومان و نرخ تورم در این سال برابر ۱۶٪ باشد، سطح عمومی قیمت‌ها (شاخص

قیمت‌ها) در ابتدای سال ۸۷ چقدر بوده است؟

- ۱) ۱۵۶۴۸ ۲) ۲۲۴۴۰ ۳) ۱۶۵۶۴/۸ ۴) ۱۷۰۰۰

۴۹) قیمت گوشت نسبت به ابتدای سال ۱۰٪ افزایش یافته است. اگر در این شرایط ۵ کیلو گوشت به قیمت ۲۴۷,۵۰۰ تومان به فروش برسد، قیمت

گوشت در ابتدای سال برای هر کیلو چقدر بوده است؟

- ۱) ۴۴۵۰۰ ۲) ۴۹۵۰۰ ۳) ۴۵۰۰۰ ۴) ۴۲۵۰۰

۵۰) با توجه به جدول فرضی مقابل که بیانگر وضعیت سطح عمومی قیمت‌ها در دو سال فرضی ۹۳ و ۹۴

می‌باشد، به ترتیب از راست به چپ، نرخ تورم سال‌های ۹۳ و ۹۴ چه می‌باشد؟

- ۱) ۱۵٪ - ۲۰٪ ۲) ۱۳٪ - ۱۶٪

- ۳) ۱۶٪ - ۱۳٪ ۴) ۲۰٪ - ۱۵٪

سال	۹۳	۹۴
ابتدای سال	۴۰,۰۰۰	۴۸,۰۰۰
انتهای سال	۴۸,۰۰۰	۵۵,۲۰۰

۵۱) با توجه به جدول:

الف) نرخ تورم به ترتیب در سال‌های مختلف چقدر است؟ (از راست به چپ)

ب) تغییرات قیمت در سال دوم نسبت به سال قبل بیانگر چه موضوعی است؟

- ۱) الف: سال دوم ۱۵٪ - سال سوم ۸٪ - سال چهارم تقریباً ۱٪؛ ب: نرخ تورم کاهش و قیمت‌ها

نسبت به قبل کم شده‌اند.

- ۲) الف: سال اول ۱۵٪ - سال دوم ۸٪ - سال سوم تقریباً ۱٪؛ ب: نرخ تورم و شتاب افزایش

قیمت‌ها کاهش داشته است.

- ۳) الف: سال اول ۱۵٪ - سال دوم ۸٪ - سال سوم تقریباً ۱٪ و سال چهارم صفر درصد؛ ب: نرخ تورم و سطح عمومی قیمت‌ها تقریباً کاهش یافته است.

- ۴) الف: سال اول صفر درصد - سال دوم ۱۵٪ - سال سوم ۸٪ و سال چهارم تقریباً ۱٪؛ ب: نرخ تورم و شتاب افزایش قیمت‌ها بیشتر شده است.

۵۲) قیمت یک کالا در ابتدای سال ۹۰ برابر ۱۴۰۰ تومان بوده است. اگر نرخ تورم در سال ۹۰ و ۹۱، به ترتیب برابر ۱۵٪ و ۲۱٪ باشد، قیمت این کالا در

ابتدای سال ۹۲ چقدر است؟

- ۱) ۱۷۰۶/۰۳ ۲) ۱۳۶۱/۱۹ ۳) ۱۶۴۷/۰۵ ۴) ۱۹۴۸/۱

۵۳) قدرت خرید پول در مقابل در هر جامعه‌ای سنجیده می‌شود.

- ۱) واحد پول ملی ۲) قدرت فروش کالا و خدمات ۳) سطح عمومی قیمت‌ها ۴) ارزش عمومی پول

۵۴) کدام وضعیت اقتصادی نقش پول را در حفظ ارزش و وسیله پرداخت‌های آتی، مورد شک و تردید قرار می‌دهد؟

- ۱) افزایش نرخ تورم ۲) افزایش نرخ بیکاری

- ۳) رسیدن به وضعیت ثبات اقتصادی ۴) رشد و توسعه اقتصادی کشور

۵۵) تورم به عنوان یکی از مشکلات اقتصادی جامعه محسوب می‌شود؛ زیرا:

- ۱) افزایش سطح عمومی قیمت‌ها باعث کاهش سطح تولید و عرضه می‌شود.

- ۲) افزایش سطح عمومی قیمت‌ها باعث کاهش رفاه عمومی جامعه می‌شود.

- ۳) باعث افزایش نرخ سپرده‌های بانک‌ها و خروج پول از بازار می‌شود.

- ۴) باعث کم شدن فاصله عرضه و تقاضا شده و بازار را از حالت تعادلی خارج می‌کند.

۵۶) شاخص قیمت‌ها در ابتدای سال ۲۰۱۳ میلادی برابر ۲۵۰۰ دلار و شتاب افزایش قیمت‌ها برابر ۲٪ در این سال تعیین شده است. در این صورت

شاخص قیمت‌ها در انتهای سال چقدر بوده است؟

- ۱) ۳۰۰۰ دلار ۲) ۲۰۸۳/۳ دلار ۳) ۳۱۲۵ دلار ۴) ۲۲۵۵/۲ دلار



رابطه بین بورس و پیشرفت اقتصادی کشورها

«بورس» محل ارتباط عرضه‌کنندگان و تقاضاکنندگان سرمایه است.

دو گروه موجود در بازار سرمایه

تقاضاکنندگان سرمایه

عرضه‌کنندگان سرمایه

افرادی که پس‌اندازهایی دارند و مایلند از طریق آن‌ها سود مناسبی داشته باشند.

بیشتر مردم پس‌اندازهایی دارند که می‌خواهند از آن‌ها در فعالیتی استفاده کنند که درآمد و سود مناسبی داشته باشد.

افراد عادی به تنهایی شرایط، امکانات، تخصص، توان و سرمایه کافی برای راه‌اندازی فعالیت‌های مناسب و پرسود را ندارند.

از طرفی صاحبان بنگاه‌ها و واحدهای تولیدی و تجاری برای تأسیس و یا گسترش واحد تولیدی و فعالیت مربوطه خود، به منابع مالی نیاز دارند.

روش تأمین مالی

امروزه

در گذشته

عرضه‌کنندگان و تقاضاکنندگان سرمایه در بورس از طریق معامله اوراق بهادار مستقیماً با هم در تعامل قرار می‌گیرند.
«بازار بورس: شیوه مناسب‌تری که بعد از بانک و در روند تکامل تأمین سرمایه ابداع شد.»

عرضه‌کنندگان و تقاضاکنندگان سرمایه، پس‌اندازها یا پول به ارث رسیده را وارد سرمایه‌گذاری کرده و یا از افراد دارای اعتبار یا بانک‌ها قرض می‌گرفتند.

به این ترتیب:
نقش واسطه‌ای بانک‌ها از بین می‌رود و عرضه‌کنندگان، سود بیشتری می‌برند و تولیدی‌ها (متقاضیان سرمایه) هم هزینه بازپرداخت کم‌تری برای وام می‌پردازند.
«مزیت بورس نسبت به بانک‌ها»

سود (بهره) و اصل وام بعد از انجام فعالیت تولیدی و تجاری به بانک پرداخت می‌شد. بانک درصدی از این سود را برای خود برمی‌داشت و عرضه‌کننده سرمایه به این ترتیب سود کم‌تری عایدش می‌شد.
از طرفی تقاضاکنندگان سود بیشتری می‌پرداختند.

پیامد مطلوب تأمین سرمایه از طریق بورس و صدور اوراق بهادار:

- افزایش انگیزه مردم برای سرمایه‌گذاری ← زیرا ← در سرمایه و سود شرکت‌ها شریک می‌شوند ← در نتیجه ← از این طریق سرمایه‌های اندک مردم جمع‌آوری و در قالب منابع بزرگ، سرمایه شرکت‌های سهامی و منابع مالی موردنیاز طرح‌های عمرانی و توسعه‌ای (اوراق مشارکت) را تأمین می‌کند.
- این کار مهم از طریق «بازار سرمایه» و نهاد آن یعنی «بورس» انجام می‌گیرد.
- بورس یک نهاد و مرکز مطمئن است که از طریق ایجاد ارتباط بین عرضه‌کنندگان سرمایه و تقاضاکنندگان سرمایه، اقدام به جمع‌آوری و به‌کارگیری سرمایه‌های مالی می‌کند.

(رافل ۸۸)

۱۳۵ افزایش انگیزه مردم برای سرمایه‌گذاری، پیامد مطلوب بوده است.

(۱) دریافت «وام بانکی» از محل سپرده‌های مردم

(۲) تأمین «منابع مالی» از طریق اوراق بهادار

(۳) کسب درآمد از طریق «سرمایه‌گذاری مستقیم» در طرح‌های تولیدی و عمرانی

(۴) پرداخت بهره و اصل وام دریافتی به بانک پس از انجام فعالیت‌های تجاری یا تولیدی

(رافل ۸۷)

۱۳۶ اوراقی که برای «تأمین منابع مالی» صادر می‌شود، چیست؟

(۴) اوراق اعتباری

(۳) اوراق بهادار

(۲) اوراق سهام

(۱) اوراق قرضه

(فارج ۹۳)

۱۳۷ در این حالت مردم در شرکت‌ها سهام می‌شوند. با استفاده از این روش سرمایه‌های اندک مردم جمع‌آوری می‌شود و در قالب منابع قابل توجه، سرمایه را تأمین می‌کند و این کار مهم از طریق انجام می‌شود.

(۲) نصف سرمایه - شرکت‌های نسبی - بورس کالا

(۱) اداره امور - شرکت‌های تعاونی - بانک سرمایه

(۴) سرمایه و سود - شرکت‌های سهامی - بورس

(۳) سود و زیان - شرکت‌های تضامنی - بورس اوراق بهادار

۴۶ گزینه ۱

$$\text{سطح(شاخص) قیمت‌های قدیم - سطح(شاخص) قیمت‌های جدید} = \text{نرخ تورم} \\ \text{سطح(شاخص) قیمت‌های قدیم}$$

$$\Rightarrow x = \frac{25,000 - 15,000}{15,000} = x = \frac{10,000}{15,000} = \frac{1}{1.5} = 0.66 = 66\%$$

افزایش حجم پول نسبت به تولید یکی از عوامل مؤثر در افزایش نرخ تورم است.

۴۷ گزینه ۲ ابتدا نرخ تورم سال‌های دوم و سوم را به دست می‌آوریم:

$$\text{نرخ تورم سال دوم} = \frac{54,000 - 45,000}{45,000} \Rightarrow x = \frac{9,000}{45,000}$$

$$\Rightarrow x = 20\%$$

$$\text{نرخ تورم سال سوم} = \frac{65,000 - 54,000}{54,000} \Rightarrow x = \frac{11,000}{54,000}$$

$$\Rightarrow x = 20.3\% = 21\%$$

با بررسی نرخ تورم این دو سال و اینکه در سؤال مطرح شده نرخ تورم در سال چهارم کم‌تر شده در می‌یابیم که نرخ تورم سال چهارم با سرعتی کمتر از ۲۰٪ و ۲۱٪ افزایش یافته، بنابراین سطح عمومی قیمت‌ها (شاخص قیمت‌ها) نسبت به قبل کمتر افزایش یافته است، اما باید توجه کنیم که کاهش نرخ تورم به این معنی نیست که قیمت‌ها به قیمتی کمتر از دو سال قبل رسیده است فقط سرعت افزایش آرام‌تر شده است؛ بنابراین شاخص قیمت‌ها باید از ۶۵۰۰۰ بیش‌تر باشد.

۴۸ گزینه ۴

$$\text{سطح(شاخص) قیمت‌های قدیم - سطح(شاخص) قیمت‌های جدید} = \text{نرخ تورم} \\ \text{سطح(شاخص) قیمت‌های قدیم}$$

$$= \frac{16}{100} = \frac{19,720 - x}{x} \Rightarrow 16x = 1,972,000 - 100x$$

$$16x + 100x = 1,972,000 \Rightarrow 116x = 1,972,000$$

$$\Rightarrow x = \frac{1,972,000}{116} = 17,000$$

۴۹ گزینه ۳ ابتدا قیمت جدید هر کیلو گوشت را حساب می‌کنیم:

$$247,500 \div 5 = 49,500$$

$$\frac{10}{100} = \frac{49,500 - x}{x} \Rightarrow 10x = 4,950,000 - 100x$$

$$110x = 4,950,000 \Rightarrow x = 45,000 \text{ تومان}$$

۵۰ گزینه ۴ دقت کنید که قیمت انتهای یک سال به عنوان قیمت‌های جدید، همان قیمت ابتدای سال بعد است که برای سال بعد به عنوان قیمت قدیم منظور می‌شود. (جمله سنگین بود.)

یعنی قیمت‌های ابتدای یک سال هم به عنوان قیمت جدید برای سال قبل منظور می‌شود و هم به عنوان قیمت قدیم برای سال خودش منظور می‌شود.

منظور می‌شود. (جمله سنگین بود.)

یعنی قیمت‌های ابتدای یک سال هم به عنوان قیمت جدید برای سال قبل منظور می‌شود و هم به عنوان قیمت قدیم برای سال خودش منظور می‌شود.

$$\text{سطح(شاخص) قیمت‌های قدیم - سطح(شاخص) قیمت‌های جدید} = \text{نرخ تورم} \\ \text{سطح(شاخص) قیمت‌های قدیم}$$

$$(93 \text{ در سال}) x = \frac{48,000 - 40,000}{40,000} = \frac{8,000}{40,000} = \frac{1}{5} = 20\%$$

$$(94 \text{ در سال}) x = \frac{55,200 - 48,000}{48,000} = \frac{7,200}{48,000} = \frac{15}{100} = 15\%$$

۳۵ گزینه ۲ الف) چون یک واحد پول نتوانسته در طول زمان ارزش خود را

حفظ کند.

ب) پول در مقابل سطح عمومی قیمت‌ها ارزش خود را حفظ نمی‌کند.

ج) قدرت خرید پول در هر جامعه وابسته به سطح عمومی قیمت‌ها است.

د) قدرت خرید پول با سطح عمومی قیمت‌ها رابطه عکس دارد، یعنی هر چه سطح عمومی قیمت‌ها بالاتر رود، قدرت خرید پول کاهش می‌یابد و بالعکس.

ه) یکی از دلایل مهم کاهش قدرت خرید پول در جامعه حجم زیاد پول نسبت به تولید جامعه است.

و) در اثر کاهش قدرت خرید پول در جامعه تورم به وجود می‌آید.

۳۶ گزینه ۱ به پاسخ سؤال قبل مراجعه شود.

۳۷ گزینه ۲ هر چه سطح عمومی قیمت‌ها کاهش یابد، قدرت خرید پول

افزایش می‌یابد و این نکته بیانگر وضعیت رکودی در بازار می‌باشد.

۳۸ گزینه ۱ وقتی که قدرت خرید پول در طول زمان تغییر کند، یک واحد پول

قادر نیست در طول زمان یک نیاز معین را برطرف کند. مثلاً در گذشته هزینه خرید خودرو پرشیا ۲۵ میلیون بوده، اما در حال حاضر به ۸۸ میلیون رسیده است؛ یعنی قدرت خرید پول کاهش یافته است و با همان ۲۵ میلیون تومان نمی‌توان دوباره یک خودرو پرشیا خریداری کرد.

۳۹ گزینه ۱ از آن جایی که حجم تقاضا نسبت به میزان عرضه بیشتر شده

است، قیمت‌ها افزایش یافته و باعث کاهش قدرت خرید پول و ایجاد تورم در جامعه می‌شود.

۴۰ گزینه ۳ هرگاه حجم پول در جامعه افزایش یابد، باعث می‌شود که تقاضا از

عرضه پیشی گرفته و در نتیجه سطح عمومی قیمت‌ها افزایش یابد و با کاهش قدرت خرید پول مواجه شویم که پیامدش تورم است.

۴۱ گزینه ۱ الف) تورم از نظر علم اقتصاد، به شتاب یا نرخ رشد افزایش سطح

عمومی قیمت‌ها گفته می‌شود.

ب) یکی از دلایل تورم، فزونی تقاضا بر عرضه است و دلیل دیگر، فزونی حجم پول نسبت به سطح عرضه است.

۴۲ گزینه ۳ با کاهش نرخ تورم، شتاب افزایش قیمت‌ها کاهش می‌یابد نه این

که قیمت‌ها کاهش یابند.

۴۳ گزینه ۲ افزایش نرخ تورم در اثر کاهش ارزش پول و قدرت خرید آن می‌باشد.

۴۴ گزینه ۴ کاهش نرخ تورم فقط باعث کند شدن سرعت افزایش قیمت‌ها

می‌شود، یعنی قیمت‌ها افزایش می‌یابند، اما با سرعتی آرام‌تر از گذشته. بنابراین تنها گزینه درست گزینه (۴) است.

۴۵ گزینه ۳

$$\text{سطح(شاخص) قیمت‌های قدیم - سطح(شاخص) قیمت‌های جدید} = \text{نرخ تورم} \\ \text{سطح(شاخص) قیمت‌های قدیم}$$

$$\Rightarrow \frac{8}{100} = \frac{x - 12,000}{12,000} \Rightarrow 8 \times 12,000 = 100x - 1,200,000$$

$$\Rightarrow 100x = 96,000 + 1,200,000$$

$$\Rightarrow x = \frac{1,296,000}{100} = 12960 \text{ تومان} \quad 82 \text{ سال در ابتدای سال}$$



- ۳۰** بررسی اثر سیاست‌های مختلف اقتصادی از طریق امکان پذیر می‌شود.
- (۱) استفاده متناوب از اسناد و مدارک رشد و توسعه جوامع توسعه یافته
- (۲) اندازه‌گیری درآمد ملی جوامع برحسب قیمت‌های ثابت در یک دوره معین
- (۳) اندازه‌گیری رشد و توسعه جوامع با استفاده از معیارهای کمی
- (۴) طبقه‌بندی کشورها براساس فاصله توسعه نیافتگی
- ۳۱** شاخص «درآمد سرانه» به عنوان معیار سنجش «رشد» معیار مناسب تری نسبت به «درآمد ملی» است. چرا؟
- (۱) زیرا اثر سیاست‌های مختلف بر میزان درآمد کل جامعه بررسی می‌کند و نتایج دقیق تری را ارائه می‌دهد.
- (۲) زیرا یک شاخص تکمیلی است و از صلاحیت بیشتری برخوردار است.
- (۳) زیرا اثر تغییرات جمعیت جوامع را در طول زمان در نظر می‌گیرد.
- (۴) زیرا اثر تغییرات جمعیت را در طول زمان نادیده می‌گیرد و کارایی و عمومیت بیشتری دارد.
- ۳۲** برای مقایسه سطح «درآمد سرانه» جوامع که معیار مناسبی برای اندازه‌گیری «رشد» و سطح رفاه مردم است، ابتدا درآمد سرانه هر کشور را برحسب آن محاسبه می‌کنند، سپس درآمد سرانه برحسب اعلام می‌شود.
- (۱) ارزش تولیدات نهایی و واسطه‌ای - دلار
- (۲) تولید ناخالص ملی - پول ملی
- (۳) حجم تولیدات - پول داخلی
- (۴) پول داخلی - دلار رفاهی
- ۳۳** در یک کشور فرضی برنامه‌ریزی‌های اقتصادی منجر به ایجاد مشاغل جدید و جذب نیروی کار بیش‌تر و در نتیجه، افزایش درآمد سرانه شده است. دولت از محل همین درآمدها با برگزاری کارگاه‌های روان‌شناسی خانواده، آسیب‌شناسی محیط تحصیل دانش‌جویان و ایجاد کلاس‌های سوادآموزی، بهبود نسبی در وضعیت کیفی زندگی و سطح رفاه عمومی مردم به وجود آورده است. این توضیحات بیانگر چیست؟
- (۱) در مسیر توسعه یافتگی قرار گرفته است.
- (۲) در مسیر استقلال کامل اقتصادی قرار گرفته است.
- (۳) در مسیر رشد همه‌جانبه قرار گرفته است.
- (۴) در مسیر خودبستگی اقتصادی - اجتماعی قرار گرفته است.
- ۳۴** در صورتی که درآمد سرانه دو کشور مختلف با هم مشابه و یا برابر باشند، برای اندازه‌گیری و مقایسه توسعه در این دو کشور از استفاده می‌شود.
- (۱) شاخص رشد انسانی به قیمت‌های واقعی در کنار درآمد ملی
- (۲) شاخص توسعه انسانی به جای درآمد سرانه
- (۳) شاخص توسعه انسانی در کنار درآمد سرانه
- (۴) شاخص رشد انسانی به قیمت‌های اسمی به جای درآمد ملی
- ۳۵** فرض کنید دو کشور ارمنستان و ترکیه در سال ۲۰۱۶ از درآمد سرانه یکسانی برخوردار باشند؛ در این صورت، فرض کنید دو کشور ارمنستان و ترکیه در سال ۲۰۱۶ از درآمد سرانه یکسانی برخوردار باشند؛ در این صورت، فرض کنید دو کشور ارمنستان و ترکیه در سال ۲۰۱۶ از درآمد سرانه یکسانی برخوردار باشند؛ در این صورت،
- (۱) شاخص H.D.I در این دو کشور به طور حتم یکسان است.
- (۲) شاخص H.D.I در این دو کشور به طور حتم متفاوت است.
- (۳) شاخص H.D.I در این دو کشور نمی‌تواند یکسان باشد.
- (۴) شاخص H.D.I در این دو کشور می‌تواند متفاوت باشد.
- ۳۶** چرا درآمد سرانه کشور قطر براساس دلار رفاهی عدد بالایی را نشان می‌دهد؟
- (۱) پایین بودن نسبت دلار رفاهی در مقایسه با دلار آمریکا و برخورداری از سرمایه انسانی زیاد
- (۲) بالا بودن درآمد ملی به دلیل بالا بودن جمعیت شاغل و تولید فراورده‌های نفتی مختلف
- (۳) بالا بودن عدد درآمد ملی این کشور به دلیل صادرات نفت و همچنین کم بودن جمعیت کشور
- (۴) بالا بودن درآمد سرانه این کشور به دلیل ارزش بالای نرخ ارز و دلار در این کشور
- ۳۷** در کشور برای بررسی نرخ «توسعه یافتگی» باید از شاخص H.D.I در کنار درآمد سرانه استفاده کرد.
- (۱) ایران
- (۲) چین
- (۳) سوئدان
- (۴) سوئد
- ۳۸** یکی از دلایل مهم عدم هماهنگی بین شاخص‌های رشد و توسعه در کشور چین است که باعث پایین آمدن عدد درآمد سرانه می‌شود.
- (۱) جمعیت بسیار زیاد این کشور
- (۲) درآمد ملی بسیار کم این کشور
- (۳) نبود نیروی انسانی در این کشور
- (۴) کم ارزش بودن دلار برابری قدرت خرید در این کشور
- ۳۹** کدام گزینه شاخص‌های توسعه انسانی را در کشور چین به درستی بیان می‌کند؟
- (۱) نرخ مرگ و میر نوزادان ۱۰/۹ در هر هزار تولد - امید به زندگی ۸۲ سال - نرخ باسوادی بزرگسالان دقیقاً ۱۰۰٪
- (۲) نرخ مرگ و میر نوزادان ۱۰/۹ در هر هزار تولد - امید به زندگی ۴۸ سال - نرخ باسوادی بزرگسالان حدوداً ۹۴٪
- (۳) نرخ مرگ و میر نوزادان ۱۰/۹ در هر هزار تولد - امید به زندگی ۷۵ سال - نرخ باسوادی بزرگسالان ۹۵/۱٪
- (۴) نرخ مرگ و میر نوزادان ۱۰/۹ در هر هزار تولد - امید به زندگی ۵۵ سال - نرخ باسوادی بزرگسالان ۵۰/۶٪
- ۴۰** در رابطه با کدام کشور به‌کارگیری شاخص درآمد سرانه به عنوان ابزار سنجش «توسعه» درست است؟
- (۱) ایران
- (۲) قطر
- (۳) امارات متحده عربی
- (۴) چین
- ۴۱** هماهنگی بین شاخص‌های توسعه و رشد در کدام جوامع قابل مشاهده است؟
- (۱) برخی جوامع توسعه یافته
- (۲) بیشتر جوامع امروزی
- (۳) دو گروه از کشورهای استثناء در حال توسعه
- (۴) همه کشورهای توسعه یافته و در حال توسعه



۱	سهم دهک اول	۵ درصد
۲	سهم دهک دوم	۷ درصد
۳	سهم دهک سوم	۸ درصد
۴	سهم دهک چهارم	۹ درصد
۵	سهم دهک نهم	۱۷ درصد
۶	سهم دهک دهم	۲۵ درصد

۷۸ جدول مقابل، گویای وضعیت توزیع درآمد در کشور C، در سال ۱۹۷۹ میلادی است. با توجه به دو فرمول نسبت ۲۰ درصد بالا به ۲۰ درصد پایین و نسبت ۱۰ درصد بالا به ۴۰ درصد پایین، کدام شاخص: (الف) توزیع درآمد در این کشور را مناسب‌تر نشان می‌دهد؟ (ب) در مقایسه با شاخص به کار گرفته شده در قسمت (الف) بیانگر نامناسب‌تر بودن توزیع درآمد در این کشور است؟ (ج) شاخصی که برای مقایسه وضعیت توزیع درآمد، مورد استفاده قرار می‌گیرد، چگونه محاسبه می‌شود؟

- (۱) الف: نسبت ۲۰ درصد بالا به ۲۰ درصد پایین ب: نسبت ۱۰ درصد بالا به ۴۰ درصد پایین ج: با محاسبه نسبت دهک دهم به دهک اول
 (۲) الف: نسبت ۱۰ درصد بالا به ۴۰ درصد پایین ب: نسبت ۵۰ درصد پایین به ۵۰ درصد بالا ج: با محاسبه نسبت دهک اول به دهک دهم
 (۳) الف: نسبت ۱۰ درصد بالا به ۴۰ درصد پایین ب: نسبت ۲۰ درصد بالا به ۲۰ درصد پایین ج: با محاسبه نسبت دهک دهم به دهک اول
 (۴) الف: نسبت ۲۰ درصد بالا به ۲۰ درصد پایین ب: نسبت ۵۰ درصد بالا به ۵۰ درصد پایین ج: با محاسبه نسبت دهک اول به دهک دهم

۷۹ اگر وضعیت اقتصادی دو کشور سوئد و نروژ از نظر درآمد سرانه مشابه باشد، در این صورت در کدام کشور نرخ فقر کم‌تر است؟

- (۱) در کشوری که شاخص توزیع درآمد عدد بزرگ‌تری را نشان دهد.
 (۲) در کشوری که فاصله دهک‌های درآمدی از هم کم باشد.
 (۳) در کشوری که شاخص توزیع درآمد در آن، برابر عدد صفر باشد.
 (۴) در کشوری که فاصله دهک‌های درآمدی از هم زیاد باشد.

۸۰ به منظور سنجش وضعیت توزیع درآمد کشورها از چه معیاری استفاده می‌شود؟

- (۱) شاخص درآمد سرانه (۲) شاخص رفاه اجتماعی (۳) شاخص توزیع نرخ فقر (۴) شاخص دهک‌ها

۸۱ دو شاخص مهم در اندازه‌گیری فقر و وسعت گسترش آن عبارت‌اند از:

- (۱) درآمد سرانه - میزان ناعدالتی در توزیع درآمدها (۲) H.D.I - تولید کل جامعه
 (۳) درآمد ملی - رفاه اجتماعی (۴) G.D.P - توزیع عادلانه درآمدها

۸۲ در رابطه با معیار سنجش وضعیت توزیع درآمد کدام گزینه نادرست است؟

- (۱) یکی از شاخص‌های بررسی چگونگی توزیع درآمد، شاخص دهک‌هاست.
 (۲) هر طبقه از جدول دهک‌ها ۱۰ درصد از جمعیت کل کشور را شامل می‌شود.
 (۳) دهک بالای درآمدی، آخرین ردیف جدول و دهک پایین درآمدی، اولین ردیف جدول را به خود اختصاص می‌دهند.
 (۴) برای محاسبه این معیار، درآمد ملی کشور به ده قسمت مساوی تقسیم می‌شود.

۸۳ هر طبقه از جدول دهک‌ها نشان‌دهنده است.

- (۱) شاخص دهک‌ها در این کشور (۲) سهم هزینه ده درصد از افراد جامعه
 (۳) سهم هر یک از افراد جامعه در میزان درآمد ملی (۴) تفاوت درآمد و هزینه دهک‌های مختلف جامعه

(فارج ۹۴ - با تغییر)

سهم دهک اول	۶٪
سهم دهک دوم	۷٪
سهم دهک سوم	۸٪
سهم دهک چهارم	۹٪
سهم دهک نهم	۱۶٪
سهم دهک دهم	۲۴٪

۸۴ جدول روبه‌رو مبین وضعیت توزیع درآمد در کشور A در سال ۱۹۷۷ میلادی است.

الف) ارائه کدام شاخص مبین «نامناسب‌تر» بودن توزیع درآمد در این کشور است؟
 ب) شاخصی که برای مقایسه «وضعیت توزیع درآمد» مورد استفاده قرار می‌گیرد، چه عددی را نشان می‌دهد؟

- (۱) الف: نسبت دهک دهم به دهک اول؛ ب: ۴
 (۲) الف: نسبت دهک اول به دهک دهم؛ ب: $\frac{1}{4}$
 (۳) الف: نسبت ده درصد بالا به چهل درصد پایین؛ ب: $\frac{8}{10}$
 (۴) الف: نسبت چهل درصد پایین به ده درصد بالا؛ ب: $\frac{25}{100}$

۶۰ گزینه ۱ در ادبیات اقتصادی، زمانی که از خط فقر و مفهوم فقر صحبت می‌شود منظور فقر مطلق است.

۶۱ گزینه ۳ باتوجه به تعریف فقر مطلق داریم: فقر مطلق به معنی نداشتن حداقل شرایط زندگی است و فقیر مطلق کسی است که قادر به رفع نیازهای ابتدایی زندگی خود نباشد؛ لذا زمانی که می‌گوییم عموم مردم موزامبیک حتی به حداقل امکانات معیشتی؛ نیز دسترسی ندارند، یعنی «عموم جامعه در فقر مطلق به سر می‌برند».

۶۲ گزینه ۱ بیانگر فقر نسبی و گزینه (۴) نیز بیانگر مسکین است.

۶۳ گزینه ۲ در هر جامعه، افرادی که درآمد آن‌ها از سطح حداقل درآمد معیشتی معین کم‌تر باشد، زیر خط فقر قرار دارند؛ یعنی حتی قادر به رفع نیازهای اساسی و اولیه خود نیستند که به آن‌ها فقیر مطلق می‌گویند.

۶۴ گزینه ۴ فقر نسبی، یعنی سنجیدن کسی نسبت به کسی دیگر یا نسبت به خودش در زمان دیگر؛ هم‌چنین این تعریف در مرزهای جغرافیایی نیز صدق می‌کند و ممکن است کسی که در یک کشور از وضع معیشتی مناسبی برخوردار است، در یک کشور دیگر نسبت به مردمان آن کشور، فقیر محسوب شود.

۶۵ گزینه ۱

۶۶ گزینه ۳ از ویژگی‌های خط فقر یا سطح حداقل معیشت می‌توان، متفاوت بودن از کشوری به کشور دیگر و یا از زمانی به زمان دیگر را عنوان کرد و این تفاوت می‌تواند به دلایلی نظیر:

۱- تفاوت در سطح درآمد افراد، ۲- متفاوت بودن نوع نیازها در افراد و ۳- متفاوت بودن منابع و امکانات در دسترس و... باشد.

۶۷ گزینه ۲ باتوجه به تعریف رفاه اجتماعی، افزایش سطح پس‌اندازها و جذب سرمایه‌های خارجی، لزوماً از عوامل تحقق بخشیدن به رفاه اجتماعی نیست.

۶۸ گزینه ۱ شاخص‌های اندازه‌گیری وسعت و اندازه فقر:

۱- درآمد سرانه: در مقایسه دو کشور، هرچه درآمد سرانه یک کشور نسبت به کشور دیگر کم‌تر باشد، طبیعتاً آن کشور فقیر بیشتری دارد، یعنی درآمد سرانه با وسعت فقر رابطه معکوس دارد.

۲- میزان نابرابری در توزیع درآمد: در هر سطحی از درآمد سرانه، کشوری که وضعیت توزیع درآمد در آن ناعادلانه‌تر باشد، نسبت به کشور دیگر از تعداد فقیر بیشتری برخوردار است. لذا وسعت فقر با توزیع ناعادلانه درآمد رابطه مستقیم دارد.

۶۹ گزینه ۳

۷۰ گزینه ۴ یکی از عوامل تحقق بخشیدن به رفاه اجتماعی، ایجاد حس رضایتمندی و شادکامی در افراد است.

۷۱ گزینه ۱ از آن‌جا که این فرد در کشور خود (B) از وضعیت معیشتی مناسبی برخوردار است و این کشور اصطلاحاً بالای خط فقر قرار دارد، ولی در کشور (A) با توجه به درآمدش، زیر خط فقر قرار می‌گیرد؛ بنابراین این فرد در کشور (A) فقیر نسبی محسوب می‌شود.

۵۲ گزینه ۲ پیشرفت امکان‌تنوع در الگوها و قبل از آن شاخص‌های پیشرفت را پیدا می‌کند.

۵۳ گزینه ۳ زیرا برخی کشورها و سازمان‌های بین‌المللی از معیارها و شاخص‌های توسعه برای تحمیل الگوهای غربی سوء استفاده می‌کنند به طوری که گاهی توسعه یافتگی معادل غربی شدن تلقی شده است.

۵۴ گزینه ۲ در کشورها به‌ویژه در دهه چهارم که به نام «دهه عدالت و پیشرفت» موسوم شد و در بحث الگوی اسلامی- ایرانی پیشرفت، به جای واژه توسعه، واژه پیشرفت به کار رفت و مورد قبول نخبگان واقع شد.

۵۵ گزینه ۴ بررسی گزینه‌های نادرست:

۱- در شاخص پیشرفت، موقعیت‌های گوناگون همچون وضعیت تاریخی، جغرافیایی، سیاسی و... و در نهایت، مکانی و زمانی دخیل هستند.

۲- برخی کشورها و سازمان‌های بین‌المللی از معیارها و شاخص‌های توسعه برای تحمیل الگوهای غربی سوء استفاده می‌کنند.

۳- در مفهوم پیشرفت، الگوی واحدی برای همه کشورها توصیه نمی‌شود و موقعیت‌های گوناگون تاریخی و... در آن دخیل هستند.

۵۶ گزینه ۴ از آنجا که جمعیت کشورها و قیمت کالاها و محصولات در طول زمان ثابت نیست لذا برای جلوگیری از رشد کاذب قیمت‌ها از معیار درآمد سرانه (یا تولید کل به قیمت‌های ثابت) استفاده می‌کنیم.

۵۷ گزینه ۳ الف: اهداف اصلی برنامه‌ریزی‌های اقتصادی در هر کشوری عبارتند از:

۱- دستیابی به عدالت، ۲- کاهش انواع نابرابری‌ها، ۳- کاهش فاصله درآمدی، ۴- تأمین حداقل رفاه اجتماعی برای عموم مردم، ۵- کاهش نرخ فقر

ب: شرایط تحقق رفاه اجتماعی: ۱- از بین رفتن فقر، ۲- کاهش نابرابری‌ها

ج: رابطه فقر با «توزیع عادلانه درآمدها در جامعه» یک رابطه معکوس است، پس هر چه در یک جامعه توزیع درآمدها عادلانه‌تر باشد، تعداد افراد فقیر حاضر در جامعه کاهش پیدا می‌کند.

۵۸ گزینه ۳ عوامل تعیین‌کننده سطح فقر:

۱- سطح حداقل درآمد معیشتی افراد ۲- متفاوت بودن نوع نیازها در افراد ۳- متفاوت بودن منابع و امکانات در دسترس. اما عامل «سطح توانایی و مهارت افراد و مهارت‌های شخصی هر فرد» از عوامل تعیین‌کننده سطح فقر نیست.

۵۹ گزینه ۴ رفاه اجتماعی به معنی:

۱- تأمین حداقل نیازهای اساسی عموم جمعیت کشور ۲- تأمین سلامت جسمی و روحی افراد جامعه (تجهیز پایگاه‌های سلامت جسم و روح) ۳- کاهش نابهنجاری‌های اجتماعی (برگزاری کلاس‌های انگیزشی در جهت ریشه‌یابی و رفع نابهنجاری‌های اجتماعی) ۴- ارتقای سطح توانمندی‌های افراد (تخصیص منابع مالی جهت آموزش‌های همگانی برای افزایش توانمندی‌ها) ۵- ایجاد مسئولیت‌پذیری در افراد جامعه در برابر یکدیگر ۶- ایجاد حس رضایتمندی و شادکامی در افراد است که تبلیغات و پخش برنامه‌های تلویزیونی به منظور تغییر در عادت‌های مصرفی و فرهنگ عمومی جامعه در این راستا نیست.

۷۵ مجلس نمایندگان به منظور ساخت بیمارستان و مراکز بهداشتی با تخصیص ۷ درصد از بودجه کل کشور به این نوع پروژه‌ها موافقت کرد، درحالی‌که بسیاری از مسئولین مربوطه با این میزان بودجه مخالف بودند. این مطلب به کدام یک از کارکردها یا دلایل اهمیت بودجه اشاره می‌کند؟

- (۱) الزام مجلس به کسب مجوز قانونی برای انجام اهداف پراهمیت اقتصادی خود از سهم بودجه
- (۲) تعیین اهمیت و اولویت این هدف دولت در مقایسه با سایر اهداف از نظر سهم بودجه
- (۳) بیان میزان قدرت تصمیم‌گیری و سهم دخالت مجلس در مدیریت کلان تمام بخش‌های کشور که منجر به محدود شدن دولت به عنوان قوه مقننه می‌شود.
- (۴) کنترل عملکرد نمایندگان مجلس در اجرا و سهمیه‌بندی بودجه تا هیچ هزینه‌ای از محل اعتبارات تعیین شده توسط دولت تجاوز نکند.

(دافل ۸۵)

۷۶ ماده واحد و تبصره‌ها در بودجه دولت به ترتیب مبین چیست؟

- (۱) مربوط به کسب درآمد و هزینه‌های یک سال - مشخص‌کننده رقم کل درآمدها و هزینه‌های پیش‌بینی شده
- (۲) بیانگر اعتبارات هر یک از سازمان‌های دولتی در محدوده بودجه - چگونگی هزینه کردن آن‌ها
- (۳) مشخص‌کننده چگونگی کسب درآمد و صرف هزینه‌های پیش‌بینی شده در بودجه - مبین رقم کل درآمدها و هزینه‌های یک سال مربوط به بودجه مصوب
- (۴) مشخص‌کننده رقم کل درآمدها و هزینه‌های یک سال - دربردارنده ضوابط و مقررات خاص مربوط به چگونگی کسب درآمد و صرف هزینه‌های پیش‌بینی شده در بودجه

(دافل ۸۳)

۷۷ در جمهوری اسلامی ایران به موجب اصل ۵۲ قانون اساسی بودجه کل کشور چگونه شکل می‌گیرد؟

- (۱) توسط دولت تهیه می‌شود و برای رسیدگی و تصویب به مجلس شورای اسلامی تسلیم می‌گردد.
- (۲) توسط بانک مرکزی تهیه می‌شود و برای اظهار نظر نهایی به سازمان بودجه ارائه می‌شود.
- (۳) توسط سازمان برنامه و بودجه تهیه می‌شود و برای رسیدگی و تصویب به کمیسیون بودجه مجلس تسلیم می‌گردد.
- (۴) توسط سازمان مدیریت و برنامه‌ریزی کشور تدوین و برای رسیدگی و تصویب نهایی به مجلس شورای اسلامی ارائه می‌شود.

(دافل ۷۹)

۷۸ به کاربردن اصطلاح لایحه بودجه بعد از تصویب آن در کدام نهاد صحیح است؟

- (۱) هیئت دولت
- (۲) مجلس شورای اسلامی
- (۳) سازمان برنامه و بودجه
- (۴) شورای نگهبان

(دافل ۷۶)

۷۹ در کشور ما مسئول تهیه و پیشنهاد بودجه به مجلس نمایندگان کدام است؟

- (۱) قوه مجریه
- (۲) قوه مقننه
- (۳) قوه قضائیه
- (۴) دیوان عالی کشور

۸۰ متن پیشنهادی بودجه توسط تدوین و پس از تصویب هیئت دولت به مجلس تقدیم می‌شود که نامیده می‌شود.

- (۱) دیوان محاسبات - قانون بودجه
- (۲) رئیس قوه مجریه - سند بودجه
- (۳) مجلس - پیش‌نویس
- (۴) سازمان مسئول امور بودجه - لایحه بودجه

۸۱ قانون بودجه در تمامی لازم‌الاجرا است.

- (۱) ارگان‌های دولتی و خصوصی
- (۲) نهادهای مردمی
- (۳) ارگان‌های خصوصی
- (۴) دستگاه‌های دولتی

۸۲ وظیفه نظارت بر اجرای بودجه به عهده کدام نهاد است و اعضای آن توسط چه نهادی و منطبق بر چه اصل یا اصولی از قانون اساسی انتخاب می‌شوند؟

- (۱) خزانه - مجلس نمایندگان - اصل پنجاه و پنجم
- (۲) خزانه - دیوان محاسبات - اصل پنجاه و چهارم
- (۳) دیوان محاسبات - دولت - اصول پنجاه و دوم و پنجاه و چهارم
- (۴) دیوان محاسبات - مجلس نمایندگان - اصول پنجاه و چهارم و پنجاه و پنجم

۸۳ عبارت زیر مبین کدام یک از مفاهیم است؟

«یکی از مهم‌ترین دستگاه‌های مالی که در اجرای بودجه نقش اساسی به عهده دارد.»

- (۱) قوه مجریه
- (۲) قوه مقننه
- (۳) دیوان محاسبات مجلس
- (۴) خزانه

۸۴ نقش هر یک از نهادهای زیر در رابطه با مراحل چهارگانه بودجه کشور کدام است؟

«مجلس شورای اسلامی، خزانه، قوه مجریه و دیوان محاسبات»

(۱) خزانه: اجرای بودجه / مجلس شورای اسلامی: نظارت بر اجرای بودجه / قوه مجریه: تصویب لایحه بودجه / دیوان محاسبات: دریافت وجوه عمومی و پرداخت وجوه لازم برای پرداخت حواله‌ها

(۲) مجلس شورای اسلامی: تصویب بودجه / قوه مجریه: تهیه و تنظیم بودجه / خزانه: اجرای بودجه / دیوان محاسبات: نظارت بر اجرای بودجه

(۳) دیوان محاسبات: نظارت بر اجرای بودجه / قوه مجریه: تدوین متن پیشنهادی بودجه / خزانه: بررسی درآمدها و هزینه‌های بودجه / مجلس شورای اسلامی: تهیه سند تفریح بودجه و تحویل به دولت

(۴) قوه مجریه: اجرای بودجه / دیوان محاسبات: ارزیابی اعتبارات سازمان‌ها و دستگاه‌های دولتی / مجلس شورای اسلامی: تصویب لایحه بودجه / خزانه: نظارت بر اجرای بودجه

سؤال مالیات پرداختی توسط دو نفر را که اولی ماهانه ۱,۵۰۰,۰۰۰ تومان درآمد و دومی که ماهانه ۱۱,۰۰۰,۰۰۰ تومان درآمد دارد با نرخ ثابت ۲۰٪ محاسبه کنید. (در این مسئله معافیت مالیاتی نداریم.)

پاسخ

تومان $300,000 = 1,500,000 \times \frac{20}{100}$ = مالیات ماهانه فرد اول

تومان $1,200,000 = 1,500,000 - 300,000$ = مانده خالص ماهانه فرد اول

تومان $2,200,000 = 11,000,000 \times \frac{20}{100}$ = مالیات ماهانه فرد دوم

تومان $8,800,000 = 11,000,000 - 2,200,000$ = مانده خالص ماهانه فرد دوم

کافه نکته ۱ هدف از اخذ مالیات، ایجاد عدالت اقتصادی و اجتماعی، یعنی کم کردن فاصله طبقاتی است، اما در این نرخ مشاهده می‌کنید که بعد از اخذ مالیات، تفاوتی در وضع زندگی افراد ایجاد نشده و همچنان فاصله طبقاتی زیادی وجود دارد، یعنی نرخ ثابت نمی‌تواند فاصله دهک‌های درآمدی جامعه را کم کند.

۲ در نرخ ثابت مالیاتی ممکن است که معافیت مالیاتی داشته باشیم، یعنی دولت مالیات بخشی از درآمد یا دارایی افراد را به آن‌ها می‌بخشد.

فرمول‌های مورد استفاده در نرخ ثابت مالیاتی

منظور از درآمد مشمول مالیات، درآمدی است که بخشی از آن از پرداخت مالیات معاف شده است.

۱ معافیت مالیاتی - کل درآمد ماهانه = درآمد مشمول مالیات ماهانه

۲ نرخ ثابت مالیاتی × درآمد مشمول مالیات = مالیات ماهانه

منظور از مانده خالص درآمد، درآمدی است که میزان مالیات از روی آن کم شده است.

۳ مالیات ماهانه - کل درآمد ماهانه = مانده خالص ماهانه

بدیهی است اگر مالیات یا مانده خالص را به صورت سالانه از ما بخواهد، باید عدد به دست آمده را در ۱۲ ماه ضرب کنیم.

نرخ تصاعدی: در این نوع مالیات، **نرخ مالیات** با افزایش درآمد یا دارایی فرد، زیاد می‌شود و برعکس با کاهش درآمد یا دارایی فرد، کم می‌شود.

یعنی، افرادی که درآمد بیش‌تری دارند، با نرخ بیش‌تری مالیات می‌پردازند و افرادی که درآمد پایین‌تری دارند، با نرخ کم‌تری مالیات می‌پردازند.

کافه نکته نرخ تصاعدی در تعدیل درآمد و ثروت افراد جامعه مؤثر است، البته نوع تصاعدی طبقه‌ای آن در این زمینه بهتر عمل می‌کند.

۱- تصاعدی کلی

نرخ تصاعدی به دو گروه تقسیم می‌شود

۲- تصاعدی طبقه‌ای

نرخ تصاعدی کلی: در این نوع مالیات، تمام درآمد شخص با نرخ مربوط به طبقه مربوط به خودش محاسبه می‌شود.

کافه نکته ۱ در نرخ تصاعدی کلی، معافیت مالیاتی نداریم و تمام درآمد شخص مشمول نرخ جدید یا همان نرخ که مربوط به طبقه درآمدی فرد است، می‌شود.

اگر در جدول نرخ‌ها با طبقه معافیت مالیاتی مواجه شدیم یعنی فقط افرادی که درآمد آنها در این محدوده قرار دارد مشمول معافیت می‌شوند، اما اگر حتی ۱۰۰۰ تومان درآمد آن‌ها از این مرز تجاوز کند، باید بابت کل درآمدشان مالیات بپردازند.

۲ در این نرخ، با اندکی تغییر (کاهش یا افزایش) در درآمد یا دارایی افراد، میزان مالیات او به شدت تغییر می‌کند.

سؤال فردی ماهانه ۲,۱۰۰,۰۰۰ تومان درآمد دارد.

الف) براساس جدول روبه‌رو مالیات ماهانه این فرد را محاسبه کنید.

ب) اگر درآمد او ۱۰۰,۰۰۰ تومان افزایش یابد، میزان مالیات جدید او را به دست آورید.

A	درآمدهای تا ۷۵۰,۰۰۰ تومان	معاف از مالیات
B	درآمدهای تا ۱,۲۰۰,۰۰۰ تومان	با نرخ ۱۰٪
C	درآمدهای تا ۲,۱۰۰,۰۰۰ تومان	با نرخ ۲۰٪
D	درآمدهای بالاتر از ۲,۱۰۰,۰۰۰ تومان	با نرخ ۳۰٪

توجه همان‌طور که قبلاً گفته شد در این نرخ، معافیت مالیاتی نداریم، یعنی فقط کسانی از پرداخت مالیات معاف هستند که درآمد آنها کم‌تر یا مساوی ۷۵۰,۰۰۰ تومان باشد. بقیه افراد تمام درآمدشان مشمول مالیات می‌شود، یعنی اگر فردی ۷۵۱,۰۰۰ تومان درآمدش باشد، تمام درآمدش مشمول مالیات می‌شود.

پاسخ ابتدا جایگاه درآمد شخص را معین می‌کنیم که در این مسئله، طبقه C است، سپس کل درآمد او در نرخ مربوط به این طبقه ضرب می‌شود.

نرخ تصاعدی کلی × کل درآمد ماهانه = مالیات ماهانه (الف)

تومان $420,000 = 2,100,000 \times \frac{20}{100}$ = مالیات ماهانه

تومان $2,200,000 = 2,100,000 + 100,000$ = درآمد قبلی + درآمد جدید (ب)

بعد از افزایش درآمد، جایگاه درآمد شخص به طبقه D منتقل شده و با نرخ ۳۰٪ محاسبه می‌شود.

نرخ تصاعدی کلی جدید × کل درآمد جدید = مالیات ماهانه جدید

تومان $660,000 = 2,200,000 \times \frac{30}{100}$ = مالیات ماهانه جدید



تومان $4,200,000 \times \frac{3}{100} = 126,000,000$
 مالیات ماهانه $= 180,000 + 337,500 + 198,000 + 1,133,000 + 4,200,000$
 تومان $6,048,500 =$ مالیات ماهانه
 الف) تومان $72,582,000 = (12 \text{ ماه}) \times 6,048,500 =$ مالیات سالانه
 ب) تومان $22,951,500 = 6,048,500 - 29,000,000 =$ مانده خالص ماهانه
 ج) تصاعدی طبقه‌ای
 د) با جزئی افزایش یا کاهش درآمد، مالیات به شدت تغییر نمی‌کند.

معاف \rightarrow A **گزینه ۱۶۶**
 B: $3,000,000 - 1,200,000 = 1,800,000$
 تومان $144,000 = 1,800,000 \times \frac{8}{100}$
 C: $4,500,000 - 3,000,000 = 1,500,000$
 تومان $195,000 = 1,500,000 \times \frac{13}{100}$
 D: $6,300,000 - 4,500,000 = 1,800,000$
 تومان $360,000 = 1,800,000 \times \frac{2}{100}$
 E: $8,100,000 - 6,300,000 = 1,800,000$
 تومان $450,000 = 1,800,000 \times \frac{25}{100}$
 الف) $1,149,000 =$ مجموع خرده مالیات‌ها = مالیات ماهانه
 تومان $1,149,000 = 144,000 + 195,000 + 360,000 + 450,000 =$ مالیات ماهانه
 ب) تومان $6,951,000 = 1,149,000 - 8,100,000 =$ مانده خالص ماهانه
 ج) در این نرخ با اندکی افزایش یا کاهش در درآمد یا دارایی فرد میزان مالیات او به شدت تغییر نمی‌کند.

گزینه ۱۶۷
گزینه ۱۶۸
گزینه ۱۶۹ خمس اسلامی با نرخ ثابت ۲۰ درصد محاسبه می‌شود.
گزینه ۱۷۰ زکات اسلامی با نرخ تصاعدی محاسبه می‌شود.
گزینه ۱۷۱ زکات بر اساس نرخ تصاعدی کلی محاسبه می‌شود، یعنی کل درآمد فرد مشمول نرخ طبقه خود می‌شود.

الف) نرخ تصاعدی طبقه مربوطه \times کل دارایی فرد = زکات
 میلیون تومان $125 = 500 \times \frac{25}{100} =$ زکات
 ب) خمس همان‌طور که از معنی کلمه مشخص است یعنی $\frac{1}{5}$ و برابر $\frac{2}{100}$ است، یعنی نرخ خمس ثابت و برابر ۲۰ درصد است.
 نرخ ثابت \times کل دارایی فرد = خمس
 میلیون تومان $100 = 500 \times \frac{2}{100} =$ خمس
 آوردن نرخ تصاعدی طبقه‌ای بی‌دلیل و برای آزمایش سطح دقت دانش‌آموز است.

گزینه ۱۷۲
گزینه ۱۷۳ نرخ ثابت مالیاتی تغییری در وضع نسبی افراد در قبل و بعد از مالیات ایجاد نمی‌کند.

د) ویژگی نرخ تصاعدی طبقه‌ای: در این نوع نظام مالیاتی، با جزئی افزایش یا کاهش درآمد مالیات به شدت تغییر نمی‌کند.
گزینه ۱۶۳ جایگاه درآمد فرد طبقه آخر است.

معاف \rightarrow طبقه اول
 میلیون تومان $1 = 10 \times \frac{10}{100} = 10 - 25 = 15$ طبقه دوم
 میلیون تومان $1/5 = 10 \times \frac{15}{100} = 35 - 25 = 10$ طبقه سوم
 میلیون تومان $5/4 = 30 \times \frac{18}{100} = 65 - 35 = 30$ طبقه چهارم
 میلیون تومان $4/8 = 20 \times \frac{24}{100} = 85 - 65 = 20$ طبقه پنجم
 الف) $12,700,000 =$ میلیون تومان $12/7 = 1 + 1/5 + 5/4 + 4/8 =$ مالیات ماهانه
 ب) مالیات ماهانه - کل درآمد ماهانه = خالص ماهانه
 $72,300,000 = 72/3 = 85 - 12/7 =$ میلیون تومان
 ج) تصاعدی طبقه‌ای
 د) اگر $\frac{1}{3}$ مانده خالص را سرمایه‌گذاری کند، $\frac{2}{3}$ آن برای خودش باقی می‌ماند که برابر است با:

میلیون تومان $48,200,000 = 72,300,000 \times \frac{2}{3}$
گزینه ۱۶۴ دقت کنید که ما برای سهولت حل مسئله از همه اعداد ۶ تا صفر برداشته‌ایم.

معاف \rightarrow طبقه اول
 میلیون تومان $1/2 = 10 \times \frac{12}{100} = 20 - 10 = 10$ طبقه دوم
 میلیون تومان $2/25 = 15 \times \frac{15}{100} = 35 - 20 = 15$ طبقه سوم
 میلیون تومان $2 = 10 \times \frac{20}{100} = 45 - 35 = 10$ طبقه چهارم
 میلیون تومان $7/5 = 30 \times \frac{25}{100} = 75 - 45 = 30$ طبقه پنجم
 الف) میلیون تومان $12/95 = 1/2 + 2/25 + 2 + 7/5 =$ مالیات ماهانه
 ب) میلیون تومان $62/05 = 75 - 12/95 =$ مانده خالص ماهانه
 ج) تصاعدی طبقه‌ای
 د) $\frac{4}{5}$ از درآمد خالص او برای سایر هزینه‌هایش باقی می‌ماند.

گزینه ۱۶۵
 معاف \rightarrow طبقه اول
 $6,500,000 - 5,000,000 = 1,500,000$ طبقه دوم
 تومان $180,000 = 1,500,000 \times \frac{12}{100}$
 $8,750,000 - 6,500,000 = 2,250,000$ طبقه سوم
 تومان $337,500 = 2,250,000 \times \frac{15}{100}$
 $9,850,000 - 8,750,000 = 1,100,000$ طبقه چهارم
 تومان $198,000 = 1,100,000 \times \frac{18}{100}$
 $5,150,000 - 9,850,000 = 15,000,000 - 9,850,000 = 5,150,000$ طبقه پنجم
 تومان $1,133,000 = 5,150,000 \times \frac{22}{100}$
 $29,000,000 - 15,000,000 = 14,000,000$ طبقه آخر
 درآمد شخص

۹۸ وضعیت ایران در زمان عبور اروپا از مراحل اولیه انقلاب صنعتی و توسعه و پیشرفت چگونه بود؟

- (۱) قرار گرفتن در مسیر نامناسب به دلیل وضعیت خاص اجتماعی - سیاسی و بازماندن از توسعه و تحول برای مدت‌های طولانی
- (۲) قرار گرفتن در مسیر نامناسب به دلیل وضعیت خاص فرهنگی - نظامی و عدم امکان ادامه فرایند توسعه به دلیل جنگ‌های پی‌درپی نظامی
- (۳) قرار داشتن در مسیر مناسب به دلیل بهره‌مندی از منابع و ثروت‌های خدادادی، طی کردن مسیر رشد و توسعه را برای ایران آسان کرده بود.
- (۴) قرار داشتن در مسیر مناسب به علت وضعیت خاص جغرافیایی و سیاسی برخلاف عواملی که مانع ادامه مسیر توسعه‌یافتگی ایران شده بود.

۹۹ همه موارد از دلایل تشدید بیماری اقتصاد ایران در دوران پهلوی می‌باشد، به جز.....

- (۱) نوسازی سازمان و تشکیلات دولتی و توسعه سطحی و ظاهری با استفاده از صنایع مونتاژ و تبدیل کشور به بازار مصرفی کالاهای وارداتی
- (۲) انعقاد عهدنامه‌های ننگین، واگذاری بخش‌هایی از کشور به دشمنان و بی‌توجهی به سرمایه‌های انسانی و اجتماعی و نبود برنامه‌ریزی و قانونگذاری اقتصادی
- (۳) اتکای اقتصاد به بیرون از مرزها و قدرت‌های بزرگ به جای تکیه بر پایه‌های بومی و درونزای داخلی و ملی خود
- (۴) اجرای برنامه موسوم به انقلاب سفید و وارد کردن لطمه جبران‌ناپذیری به بدنه اقتصاد روستایی ایران

۱۰۰ در کدام گزینه اوضاع اقتصادی ایران در نیمه اول حکومت صفویه به درستی بیان شده است؟

- (۱) استعمار و استثمار کشورهای ضعیف و دستیابی به ثروت‌های آن‌ها از طریق تجهیز ناوگان نظامی و رقابت نظامی و تجاری با خارج صورت گرفت.
- (۲) اقتصادی یکپارچه و مستقل در کنار یکپارچگی سیاسی که با سایر لایه‌های دینی، اجتماعی و فرهنگی نیز در هماهنگی قرار داشت.
- (۳) درک درست حاکمان از وضعیت ویژه و موقعیت خاص ایران و ایفای نقش کشور در مقابل سایر کشورهای کم‌توان، ایران را تنها حکمران اقتصادی جهان کرده بود.
- (۴) دور ماندن از کانون تحولات جهان و تضعیف قوای اقتصادی ایران به دلیل حمله افغان‌ها و کشورگشایی‌های نادر و دست‌درازی به اقتصاد ثروتمند هند.

۱۰۱ بررسی تفکرات اقتصادی ابن‌سینا در مواردی همچون مصرف شخصی در حد ضرورت، پرداخت مالیات خمس و زکات و پس‌انداز به کدام یک از**جلوه‌های اقتصاد موفق ایران و در کدام دوره می‌پردازد؟**

- (۱) پیشرفت اندیشه اقتصادی - هفت قرن دوران شکوفایی تمدن اسلام
- (۲) پیدایش اندیشه اسلامی - هفت قرن دوران شکل‌گیری تمدن جهان
- (۳) پیشرفت اندیشه اقتصادی - هفده قرن دوران شکل‌گیری تمدن جهان
- (۴) پیدایش اندیشه اسلامی - هفده قرن دوران شکوفایی تمدن اسلام

۱۰۲ همه موارد درباره اقتصاد ایران در سال‌های پیش از ۱۳۰۰ هجری شمسی درست هستند، به جز.....

- (۱) عادلانه بودن اقتصاد، دلیل شکوفایی اقتصادی ایران در دوران تمدن اسلامی است.
- (۲) به دلایل مختلف و متعدد اقتصاد ایران از دوران باستان دارای جایگاه ویژه‌ای در اقتصاد جهان است.
- (۳) دلایل تضعیف اقتصاد ایران و دور ماندن از کانون تحولات در دوره پایانی صفویه، حمله افغان و کشورگشایی نادر و دست‌اندازی به منابع هند بود.
- (۴) حتی معدود حرکت‌های مذهبی و ملی دوران قاجار مانند تأسیس دارالفنون و ایجاد نظم مالی هم نتیجه مطلوب برای اقتصاد ایران را به دنبال نداشت.

۱۰۳ گزینه درست در رابطه با وضعیت اقتصادی کشور در دوران رضاخان و سلسله پهلوی کدام است؟

- (۱) کوچک‌سازی نقش اقتصادی دولت - نبود برنامه‌ریزی و قانون‌گذاری مناسب اقتصادی - اعطای انواع امتیازها به شرکت‌های خارجی و کشورهای استعماری - بی‌توجهی به سرمایه‌ها
- (۲) اعطای امتیازات به وابستگان و خادمان خود - تأمین هزینه‌های گزاف دربار و افزودن بر خزانه از طریق افزایش مالیات - واگذاری بخش‌های زیادی از خاک ایران - افزایش نقش مردم در اقتصاد
- (۳) بهبود برخی شاخص‌های اقتصادی، اجتماعی و انسانی - توسعه سطحی و نمایشی - نوسازی سازمان و تشکیلات دولتی - برقراری نظام مالیات‌گیری جدید
- (۴) تجهیز ناوگان نظامی برای رقابت تجاری با سایر قدرت‌های جهان - استعمار کشورهای دارای منابع و امکانات - تسریع جریان پیشرفت کشور به دلیل رقابت تجاری - نوسازی نظام مالیات‌گیری

۱۰۴ یکی از جلوه‌های پیشرفت اندیشه اقتصادی در دوران شکوفایی تمدن اسلامی عبارت است از:

- (۱) شکوفایی اقتصادی ایران در آن دوران که قطعاً به معنای عادلانه بودن آن می‌باشد.
- (۲) کشورگشایی‌های نادر و دست‌اندازی به اقتصاد هند که موجب تقویت قوای اقتصادی و برقراری نظام پیشرفته اقتصادی در ایران شد.
- (۳) یکپارچگی اقتصادی و هماهنگی آن با سایر لایه‌های دینی و اجتماعی در سراسر جهان که محصول اندیشه اقتصادی ایران و ارائه آن به اقتصادهای برتر بود.
- (۴) وقف‌نامه‌های باقی‌مانده که بیانگر حجم عظیمی از مالکیت و سرمایه‌گذاری و مشارکت زنان ایرانی در تولید است.

۱۶۷ آن چه مسیر اصلی اقتصاد را مشخص می‌کند عبارت است از:

- (۱) سیاست‌های اصلاحی هیئت دولت
(۲) سیاست‌های کلی کشور
(۳) سطح تولید و عرضه کالا و خدمات
(۴) سطح واردات کالا

۱۶۸ سیاست‌های ابلاغ‌شده اقتصادی چه تعداد می‌باشد و توسط چه کسی صورت گرفته است؟

- (۱) کم‌تر از ده سیاست خُرد - توسط مقام معظم رهبری
(۲) برابر با ده سیاست کلان - توسط ریاست جمهوری
(۳) بیش از ده سیاست کلی - توسط مقام معظم رهبری
(۴) در حدود ده سیاست عمومی - توسط ریاست جمهوری

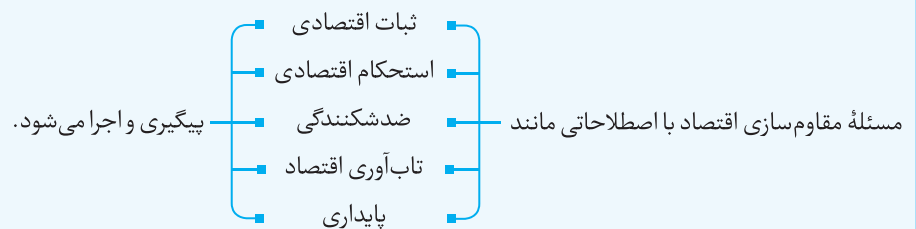
۱۶۹ تأثیر توجه به سیاست‌های کلی کشور در کدام گزینه بیان شده است؟

- (۱) حرکت قطار اقتصاد در ریل خود و رسیدن به مقصد نهایی
(۲) جلوگیری از دخالت قدرت‌های سیاسی و نظامی سایر کشورها و رسیدن به استقلال سیاسی
(۳) حذف تدریجی وابستگی‌های اقتصادی و رسیدن به خودکفایی و استقلال کامل در تمام زمینه‌ها
(۴) مقابله با فعالیت‌های غیر قانونی مسئولان و فساد موجود در جامعه برای اصلاح نظام اقتصادی کشور

اقتصاد مقاومتی، ضامن پیشرفت اقتصادی کشور

به منظور ادامه یافتن پیشرفت اقتصادی باید علاوه بر ارتقای توان تولیدی (به عنوان عنصر اصلی پیشرفت)، مقاوم‌سازی اقتصاد و آسیب‌ناپذیری آن از فشارها و تکان‌های مختلف نیز حتماً صورت گیرد.

مقاوم‌سازی اقتصاد



از آن جایی‌که اقتصاد ایران در صد سال اخیر و مخصوصاً بعد از انقلاب از طرف دشمنان تحریم شده و آسیب دیده است و همچنین چون در سال‌های اخیر شتاب بیشتری داشته است، بنابراین مقاوم‌سازی بیشتر و تقویت ساختارها در این جهت الزامی است و باید در مقابل بحران‌های داخلی و خارجی محافظت شده و مقاوم گردد.

از نظر اقتصاددانان، مقاوم‌سازی اقتصادی به سیاست انقباضی موسوم به ریاضت اقتصادی هیچ ربطی ندارد.

تعریف اقتصاد مقاومتی

اقتصادی ۱- پیشرفته، ۲- مردمی و ۳- دانش‌بنیان که ۴- در برابر تهدیدات و تکان‌های داخلی و بیرونی آسیب‌ناپذیر است و ۵- به قابلیت‌ها و ظرفیت‌های داخلی خود تکیه کرده و ۶- از فرصت‌های بیرونی استفاده می‌کند تا ۷- نیازها و مشکلات اقتصادی را رفع کند و ۸- با تحریم‌ها و ۹- تهدیدات متوقف نمی‌شود.

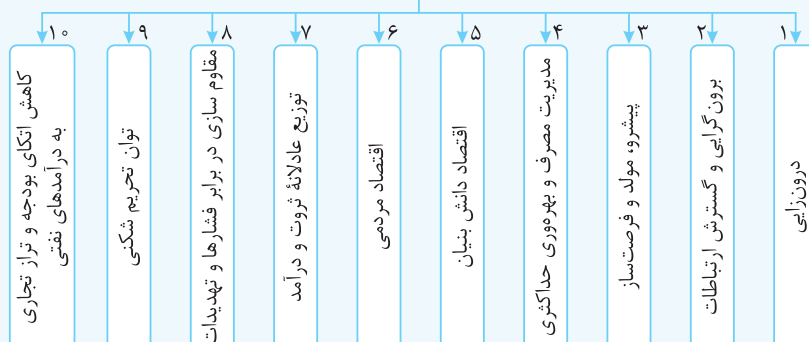
۱ **کافه نکته** اقتصاد مقاومتی ضامن عزت و پیشرفت کشور در بلندمدت و رفع‌کننده مشکلات جاری در کوتاه‌مدت است.

۲ **کافه نکته** بحث اقتصاد مقاومتی از طرف مقام معظم رهبری، کارشناسان و نخبگان مطرح شده است.

۳ **کافه نکته** سیاست‌های کلی اقتصاد مقاومتی به عنوان یک سند ملی پذیرفته شده و توسط مسئولان و نخبگان ابلاغ شده است.

۴ **کافه نکته** رعایت توصیه‌های مندرج در سند اقتصاد مقاومتی، اقتصاد کشور را در مقابل آسیب‌ها مصون می‌دارد و **پیشرفت اقتصادی را تضمین** می‌کند.

مؤلفه‌های اقتصاد مقاومتی



۳۲. گزینه ۱ پیامدهای عدم رعایت اصل‌های مزیت مطلق و مزیت نسبی:

۱- منابع و سرمایه‌ها در عرصه تولید به هدر می‌روند.

۲- رفاه جامعه به دلیل تولید کالای کم، گران و بی‌کیفیت کاهش می‌یابد.

۳۳. گزینه ۲ بررسی گزینه‌های اشتباه:

گزینه ۱: مزیت مطلق، مزیت‌های تولید یک کشور نسبت به سایر کشورها را بررسی می‌کند و مزیت نسبی، مزیت‌های تولید یک کالا در داخل کشور نسبت به کالاهای دیگر را بررسی می‌کند.

گزینه ۳: مزیت مطلق مزیت‌های تولید یک کشور را نسبت به سایر کشورها بررسی می‌کند.

گزینه ۴: مزیت نسبی مزیت‌های تولید را در یک کشور نسبت به خود آن کشور مقایسه می‌کند.

۳۴. گزینه ۴ به دلیل یکسان نبودن سطح فناوری در کشورها، مراودات تجاری در عرصه بین‌الملل صورت می‌گیرد.

۳۵. گزینه ۱ هرچه کشوری مجهزتر به فناوری و تکنولوژی باشد و امکان بهره‌وری بهتر از این امتیاز را نیز داشته باشد، قادر به تولید کالاهای متنوع و با کیفیت‌تر خواهد شد.

۳۶. گزینه ۳ مقایسه یک محصول بین دو کشور به مفهوم مزیت مطلق مربوط می‌شود و مقایسه یک محصول با محصول دیگر در یک کشور به مزیت نسبی مرتبط است.

۳۷. گزینه ۱ از عوامل تغییر در توان تولیدی یک منطقه یا کشور و تولید یک محصول مقرون به صرفه‌تر می‌توان به: ۱- یکسان نبودن منابع و عوامل تولید، ۲- شرایط اقلیمی و آب و هوایی متفاوت، ۳- دسترسی به فناوری و ... اشاره کرد.

۳۸. گزینه ۳ از صنایع راهبردی و صنایع نوزاد یعنی صنایعی که به تازگی در کشور به وجود آمده‌اند و عمر چندانی ندارند و همچنین صنایع گلخانه‌ای باید حمایت شود؛ چراکه قدرت رقابت با صنایع قدیمی و قدرتمند را ندارند. همچنین این صنایع با حمایت توسط دولت و مصرف‌کنندگان می‌توانند به تدریج برای کشور مزیت اقتصادی ایجاد کنند.

۳۹. گزینه ۲ مزیت اقتصادی داشتن یا نداشتن، یک مفهوم ایستا و دائمی نیست. کشوری که به دلیل محدودیت‌های طبیعی، فاقد مزیت اقتصادی است، به این معنی نیست که هرگز نمی‌تواند به مزیت اقتصادی دست پیدا کند.

۴۰. گزینه ۲ الف) اصل مزیت اقتصادی مستلزم «کاهش هزینه‌های تولید» برای انتخاب یک محصول از بین چند محصول می‌باشد.

ب) تخصص و تقسیم کار بین‌الملل و تجارت با سایر کشورها باعث می‌شود که از منابع تولیدی کشورها حداکثر استفاده به عمل آید تا حجم تولیدات در جهان افزایش یابد و قیمت‌ها ارزان شود.

ج) صادرات کالا، ارز لازم برای خرید کالاهای ضروری وارداتی را در اختیار مصرف‌کنندگان قرار می‌دهد.

۴۱. گزینه ۲ با صادرات کالا به خارج، ارز لازم برای خرید از کالاهای وارداتی ضروری در اختیار مصرف‌کنندگان قرار می‌گیرد که به غیر این مورد، سه گزینه دیگر به فواید مربوط به تولیدکنندگان اشاره دارند.

۴۲. گزینه ۴

۴۳. گزینه ۳

۴۴. گزینه ۳

۴۵. گزینه ۴ گاه‌ها در اقتصاد جوامع رخ می‌دهد که محصولی بی‌مزیت و یا کم‌مزیت تولید شود و اجازه خلق ارزش برای چنین محصولی صادر می‌شود. این عمل برای از بین رفتن بیکاری عوامل تولید که در کوتاه‌مدت نمی‌توانند مشغول به کار شوند، انجام می‌شود و اصطلاحاً می‌گویند «خلق ارزش بهتر از بیکاری» است.

۴۶. گزینه ۱

۴۷. گزینه ۴ همان‌طور که می‌دانیم کشورها با توجه به دو اصل «مزیت مطلق» و «مزیت نسبی» تصمیم به تولید کردن و یا نکردن یک کالا و از طرف دیگر صادرات و واردات کالاهای مورد نیاز می‌گیرند که این امر موجب تقسیم کار و مبادله بین افراد می‌شود.

۴۸. گزینه ۱ یکی از سیاست‌های تجاری که کشورها به منظور تشویق سرمایه‌گذاران خارجی برای سرمایه‌گذاری در کشور خود و یا تشویق صادرکنندگان کشور خود برای نفوذ به بازارهای جهانی در پیش می‌گیرند، ارائه یارانه‌های مختلف و انواع تسهیلات اقتصادی و حقوقی می‌باشد.

۴۹. گزینه ۲ کشوری که فاقد مزیت مطلق است با ایجاد مزیت‌های نسبی باید دست به تولید محصولات با صرفه‌تر نسبت به سایر محصولات بزند.

۵۰. گزینه ۲ یکی از سیاست‌های تجاری که دولت‌ها به منظور حمایت از صنایع داخلی و کاهش وابستگی کشورشان به کشورهای دیگر در واردات کالاهای خارجی در پیش می‌گیرند، وضع انواع موانع تجاری مانند تعرفه‌های گمرکی، عوارض و سهمیه وارداتی می‌باشد.

۵۱. گزینه ۲ فایده اصلی تجارت بین‌الملل در مفاهیم مزیت مطلق و مزیت نسبی نهفته است، زیرا با توجه به این مفاهیم، کشورها تمرکز خود را روی تولید کالاهایی می‌گذارند که مزیت بیشتری در تولید آن‌ها دارند و دیگر کالاهای مورد نیاز خود را با واردات از سایر کشورها تأمین می‌کنند که به این ترتیب سطح تولید کالاهای باکیفیت در جهان افزایش یافته و سطح رفاه و زندگی مردم جهان بهبود می‌یابد.

۵۲. گزینه ۱

۵۳. گزینه ۱ روابط اقتصادی کشورها تنها به تجارت کالا و خدمات خلاصه نمی‌شود. نوعی از روابط اقتصادی مربوط به مهاجرت نیروی انسانی و یا جابه‌جایی عوامل تولید از کشوری به کشور دیگر است و تمام این‌ها در صورتی است که در کشور مقصد، شرایط بهتری برای عوامل تولید موجود باشد.

۵۴. گزینه ۳ چراکه کشورهای قدرتمند با استفاده از ضعف و وابستگی کشورها به محصولات نظیر کالاهای ضروری (دارو، غذا، محصولات کشاورزی) و غیره وسیله مناسبی برای بهانه‌جویی و استعمار و سلطه بر این کشورها را به دست می‌آورند.

۵۵. گزینه ۳ زیرا به نظر می‌رسد مفاهیم مزیت‌های مطلق و نسبی که شامل منافع بین‌المللی می‌شود با مفاهیمی مانند خودکفایی، منافع ملی و رهایی از تک‌محصولی شدن در تعارض است.

۵۶. گزینه ۱ محصولات راهبردی به کالاهای خدماتی گفته می‌شود که کشورها بدون توجه به میزان سود، هزینه و بازار فروش و ... آن‌ها را تولید می‌کنند تا به سایر قدرت‌های جهان وابسته و نیازمند نباشند. در نتیجه منافع سیاسی و غیراقتصادی مدنظر است.

پاسخنامه تشریحی سؤالات داخل کنکور ۹۹

۱ گزینه ۳ الف) در اقتصاد اسلامی عوامل انسانی می‌تواند هم صاحب تولید

شود و هم دستمزد بگیرد و در سود و زیان شریک نشود.

صاحب سرمایه مالی نمی‌تواند مانند سرمایه فیزیکی به طور مثال تراکتور اجاره بگیرد، چون ربا تلقی شده و حرام است.

ب) اشتغال کامل نیروی کار البته به معنای صفر بودن نرخ بیکاری نیست. برخی افراد حاضر به کار نیستند، (بیکاری داوطلبانه) و برخی دیگر نیز در حال جابه‌جایی از کاری به کار دیگر (بیکاری اصطلاحی) هستند.

ج) به دلیل حضور بانک‌ها در سرمایه‌گذاری‌های مستقیم در طرح‌های تولیدی و عمرانی و همچنین سرمایه‌گذاری غیرمستقیم از طریق استفاده از عقود اسلامی مجاز که برای تسهیلات مالی به مشتریان خود اعطا می‌کنند، بانک اسلامی از حالت واسطه‌گری خارج می‌شود و سودهای بانکی اعطایی به مشتریان از نظر قانونی، «ربا» تلقی نمی‌شود.

۲ گزینه ۴ دقت کنید طراحی این سؤال براساس کتاب نظام قدیم بوده و اهمیت سودهای ویژه و حسابداری در نظر گرفته نشده است و صرفاً عملکرد بنگاه از نظر سوددهی یا زیان دیدگی مطرح شده است. ابتدا درآمد تولیدکننده را حساب می‌کنیم:

قیمت هر واحد کالا \times تعداد کالا = درآمد تولیدکننده

ریال $2,640,000,000 = 1,200,000 \times 2200$ = درآمد

ریال $1,440,000,000 = 12 \times 120,000,000$ = اجاره‌بهای سالانه

ریال $1,530,000,000 = 12 \times 127,500,000$ (نفر) $\times 15 = 850,000,000$ = حقوق سالانه ۱۵ کارمند

ریال $45,900,000 = 30\% \times 153,000,000$ = هزینه استهلاک سالیانه

مواد اولیه + هزینه استهلاک + حقوق + اجاره = جمع هزینه‌های سالیانه

$1,440,000,000 + 1,530,000,000 + 45,900,000 + 185,000,000$

مجموع هزینه‌ها - درآمد = سود (زیان) سالیانه

ریال $2,112,100,000 = 2,640,000,000 - 527,900,000$ = سود

چون مجموع هزینه‌ها از درآمد تولیدکننده، کم‌تر است، بنابراین او سود کرده است.

۳ گزینه ۴ الف) منظور از بهره‌وری به دست آوردن بیش‌ترین خروجی با

کم‌ترین ورودی است. دو تولیدکننده که عوامل تولید یکسانی دارند، آنکه محصول بیشتری داشته باشد بهره‌وری بیش‌تری داشته است.

ب) چنانچه انسان در نیازهای مادی و حیوانی خود متوقف شود، کمال جویی به نوعی به سبزی ناپذیری تبدیل می‌شود.

ج) دو ویژگی منابع و امکانات یعنی ۱) محدودیت منابع و امکانات موجود و در دسترس و ۲) محدودیت انسان در بهره‌برداری از منابع و امکانات موجود با قابلیت مصارف متعدد، وضعیتی را ایجاد می‌کند که اقتصاددانان به آن «کمپابی» می‌گویند.

۴ گزینه ۳ توجه کنید که کالاهای واسطه‌ای و مواد اولیه در محاسبات تولید

کل وارد نمی‌شوند، زیرا ارزش آن‌ها قبلاً در بطن کالای نهایی محاسبه شده است.

$$288 = 480 \times \frac{60}{100} = \text{ارزش مواد غذایی}$$

$$384 = \frac{50}{100} \times \left(\frac{480 + 288}{768} \right) = \text{ارزش خدمات}$$

ب) ماشین‌آلات صنعتی) ارزش = تولید ناخالص داخلی (GDP)

+ خدمات + مواد غذایی)

$$1152 = 480 + 288 + 384 = \text{میلیون ریال}$$

الف) (تولید ناخالص داخلی) GDP $\times \frac{1}{3}$ = هزینه استهلاک سالیانه

$$384 = \frac{1}{3} \times 1152$$

ج)

هزینه استهلاک - (تولید ناخالص داخلی) GDP = تولید خالص داخلی NDP

$$768 = 1152 - 384$$

$$384 = \frac{NDP}{20} = \frac{768}{20} = \text{تولید خالص داخلی سرانه (NDP)}$$

متأسفانه طراح محترم کنکور، پاسخ ارقام عبارت (ب) و (د) را به اشتباه با ممیز آورده است.

۵ گزینه ۲ الف) بورس با تشویق مردم به پس‌انداز و به‌کارگیری پس‌اندازها در

فعالیت‌های مفید اقتصادی در کاهش نرخ تورم مؤثر است.

ب) اصل (۴۷) قانون اساسی تأکید می‌کند: «مالکیت شخصی که از راه مشروع باشد محترم است و ضوابط آن را قانون معین می‌کند» که مربوط به محور «حقوق اقتصادی شهروندان» است.

ج) چنانچه عمر سرمایه‌های فیزیکی یک بنگاه تولیدی ۲۰ سال باشد، هر ساله برابر $\frac{1}{20}$ یا $\frac{5}{100}$ از تولید کل بنگاه به منظور هزینه استهلاک در نظر گرفته می‌شود.

$$5\% = \frac{5}{100} = \frac{1}{20} = \text{هزینه استهلاک}$$

د) در اصل (۴۴) قانون اساسی محدوده فعالیت‌های بخش‌های دولتی به شرح

زیر معرفی شده است:

بانکداری، راه، راه‌آهن، بیمه، تأمین نیرو، صنایع مادر، کلیه صنایع بزرگ و مادر، بازرگانی خارجی، معادن بزرگ، سدها و شبکه‌های آبرسانی بزرگ، رادیو و تلویزیون و ...

۶ گزینه ۱ متأسفانه پاسخ قسمت (ب) و (ج) در گزینه‌ها وجود ندارد و صرفاً از

قسمت (الف) و (د) می‌توان به پاسخ رسید.

الف) قیمت خدمات سرمایه \leftarrow ردیف ۱ (درآمد صاحبان سرمایه)

اجاره‌بها \leftarrow ردیف ۶ (درآمد صاحبان املاک و مستغلات)

د) سرانه به سهم متوسط هر فرد جامعه در میزان تولید یا درآمد آن جامعه گفته

می‌شود. (با همین دو قسمت پاسخ سوال پیدا شد.)

ب) درآمد مشاغل آزاد + درآمد صاحبان سرمایه = درآمد ملی

+ اجاره‌بها + حقوق‌ها + دستمزدها + سود شرکت‌ها و مؤسسات +